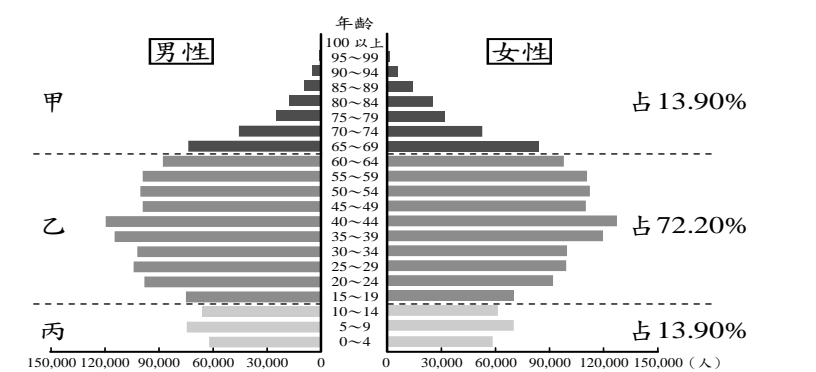


新北市板橋區莒光國民小學 110 學年度第二學期第一次定期評量試題									
科目	社會	命題老師	社會領域	年級	四年 班	座號	姓名	成績	家長簽章

A. 看圖回答問題：(1 題每格二分，2.3 題每答一分，共十四分)



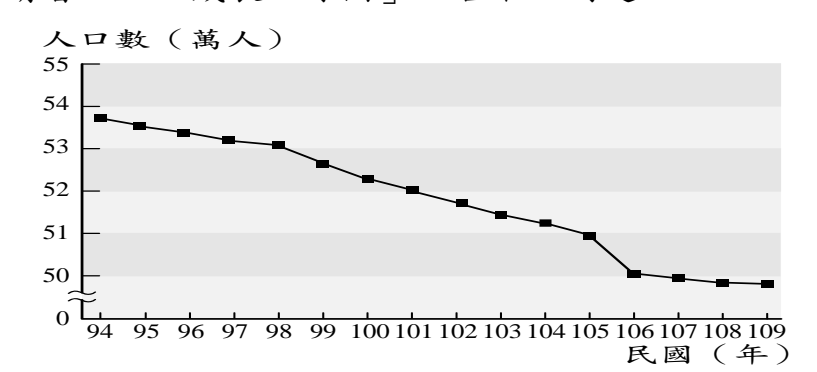
- 請看上圖，甲是()人口，乙是()人口，丙是()人口。
- 我們可以從上圖中知道哪些訊息呢？正確的請打○，錯誤的請打×。(每格一分)
() 資料顯示此地的人口在扶養能力與競爭力上較差。
() 需要被扶養的人口占總人口的 27.80%。
() 從事生產工作的主要人口佔總人口的 72.20%
- 我們可以透過什麼方式獲得家鄉人口的統計資料？正確的請打○，錯誤的請打×。(每格一分)
() 查閱內政部出版的人口統計彙編。
() 查詢家鄉的戶政網站。
() 造訪家鄉的戶政事務所，詢問相關服務人員
() 透過縣(市)議會與議員去調查。
() 小朋友實際到每一戶人家逐一訪問、調查。

B. 聰明生活我最行：(每題二分，共十六分)

現代人喜歡透過網路聯繫，或使用交友軟體例如「臉書 (Facebook)」認識新朋友，也有許多人喜歡在社群網站上與親友分享自己的生活點滴。

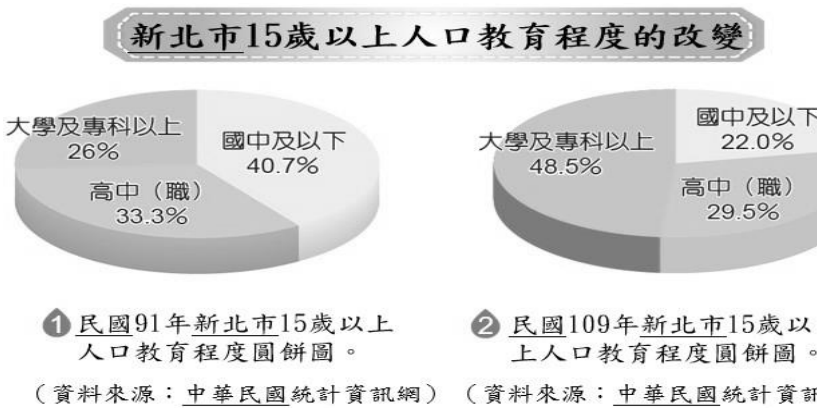
- 日新月異的通訊工具為現代生活帶來哪些方便性？答：()、()。
- 哪些個人資料，不適合在網路上公開給所有人看到？答：()、()。
- 小花因為沒錢買正版的音樂 CD，所以她決定上非法網站下載流行音樂，她的行為已經侵犯了()權。
- () 智慧型手機的發明和家鄉什麼設施的進步有密切的關係？①醫療設施②通訊設施③交通設施④遊樂設施。
- () 教育部推出哪一種免費程式讓民眾下載，以阻擋不當網站或網頁遊戲？①網路守護天使②網路銀行程式③螢幕保護程式④小紅傘防毒軟體。
- () 胖虎時常透過網路進行消費，為了避免信用卡資料被盜取，他可以採取什麼方法？①定期更換部落格圖片②把個人的資料存在電腦裡③定期更換密碼④加裝訊號發射器。

C. 看圖回答問題：(每答二分，共十二分)
請看「人口成長曲線圖」回答下面問題。



- 曲線圖的橫軸，所表示的是()。
- 曲線圖的縱軸，所表示的是()。
- 從曲線圖可以知道總人口有不斷()的趨勢。
- 當移出人口多，移入人口少，人口數會()。
- () 下列哪一項不是造成出生率下降的原因？
①醫療技術進步②現代人普遍晚婚，女性的生育能力隨年齡增長而逐漸衰退③覺得教育費用太高而不敢生育④不婚或是不生的人數增加。
- () 某雜誌專題報導內文提及：「人口老化、勞工不足，已經對國家發展構成威脅……」由上文判斷，雜誌的專題較可能和下列何者相關？①老年人口比例逐年減少②幼年人口比例逐年減少③新移民人數逐年增加④老年人口死亡年齡逐漸提前。

D. 看圖回答問題：(1.4 題每答一分，2.3 題每答二分，共十四分)



- 我們可以從圖中知道哪些訊息呢？正確的請打○，錯誤的請打×。(每格一分)
() 居民從事服務業比例極高，因此商業發達，聚集了大量人口。
() 居民主要從事服務業及工業，表示家鄉的工商業發達。
() 大學及專科以上教育程度的人口比例成長最多。
() 顯示人口的教育程度逐年提升。
() 醫療進步使得高學歷人口愈來愈多。
() 家鄉人口的素質提升，有助於家鄉建立經濟發展基礎。

2. ()政府在規畫公共建設和人口政策前，必須要做到下面哪一項呢？①無限制的吸引移民前來②討好有投票權的人③用大量文宣和廣告，爭取居民對政策的支持④了解人口組成與變遷。
3. ()目前臺灣教育普及，使得社會及居民生活有很大的改變。請問下面哪一項不是教育普及所帶來的好處？①兩性地位逐漸平等②從事生產工作的主要人口比例增加③提升人口素質④建立經濟發展基礎。
4. 從各項人口組成項目中可以得知哪些訊息？請連連看。
- | | |
|--------|--------------|
| ①教育程度。 | • 甲、兩性人口成長趨勢 |
| ②性別比例。 | • 乙、主要產業 |
| ③年齡組成。 | • 丙、居民的扶養能力 |
| ④行業類別。 | • 丁、人口素質 |

E. 閱讀時事回答問題：(每題二分，共二十分)

新聞報導：「西元2016年2月6日上午3時57分發生地震，造成臺南市永康區維冠金龍大樓發生倒塌事故，是該次地震中死傷最嚴重的災區，死亡人數達115人，成為臺灣史上因單一建築物倒塌造成傷亡最慘重的災難事件。市長在事發當下立即成立指揮中心，統籌救災工作。」新聞報導：「西元2016年2月6日上午3時57分發生地震，造成臺南市永康區維冠金龍大樓發生倒塌事故，是該次地震中死傷最嚴重的災區，死亡人數達115人，成為臺灣史上因單一建築物倒塌造成傷亡最慘重的災難事件。市長在事發當下立即成立指揮中心，統籌救災工作。」

1. ()上文中的「指揮中心」，通常是指下列何者？
①臺南市議會②災害應變中心③緊急安置所④臨時救護站。
2. ()政府機關為協助與解決市民各種生活大小事，成立哪一支專線提供即時服務？①1990②1965③1999④1951。
3. ()縣(市)長的任期一屆為幾年？①3年②4年③5年④6年。
4. ()下面哪一項不是縣(市)長需要負責的工作？
①規畫家鄉發展方向②推動為民服務③管理市政府下的機關④派市議員。
5. ()小明懷疑這一次的震災傷亡如此嚴重，是因為建商偷工減料，他可以找誰陳情協助處理呢？①警察局長②當地議員③衛生局長④工務局長。
6. ()哪個單位應會發放救濟物資給撤離災區的居民？①醫療單位②消防單位③社福單位④環保單位。
7. ()救災過程中，小樂雙腳都受傷了，請問哪個單位會提供救護呢？①環保單位②軍事單位③醫療單位④社福單位。
8. ()強烈地震把小美的家給震毀了，小美和家人頓時陷入無家可歸的困境。請問他們可以到社福單位成立的什麼地方尋求協助，領取生活物資呢？①臨時救護站②救災指揮中心③緊急安置所④臨時銀行。

9. ()大熊家因為這場意外，導致他頓時陷入家破人亡的絕境，這時他可以向哪一個政府機關申請急難救助呢？①社會局②消防局③衛生局④教育局。
10. ()呼籲災民施打疫苗，以避免流感等疾病擴散，確保大家的健康。請問下面哪一個政府機關負責這項業務呢？①衛生局②教育局③社會局④消防局。

F. 社會放大鏡：對的打○，錯的打×(每題二分，共十二分)

阿土伯最近每天都心事重重，因為市政府派遣的人員正在整修他住家旁邊的空地，吵雜的施工聲音影響了他的生活作息，連住家的牆壁上都無故出現了許多道裂痕，朋友建議他可以透過陳情的方式，請求協助處理房屋損害的問題。

1. ()因為某地方政府的公共工程施工，導致民眾房屋傾斜出現危險，民眾可以向縣(市)議員陳情請求協助。
2. ()縣(市)政府設有議會，目的是為了監督人民是否有遵守政府的施政規定。
3. ()處理縣(市)政府各項政務不是縣(市)議員的工作內容。
4. ()縣(市)議員可以依職權對地方政府官員進行施政質詢。
5. ()議員提供各種服務很多，例如：提供急難救助、核撥經費給學校、在鄰里間巡邏等。
6. ()議員審理法案及預算時，可以要求縣市政府各局(處)說明業務推動情形。

G. 生活面面觀：(每格二分，共十二分)

阿翰的家位於山地地區，雖然離市區有很長一段距離，但由於政府在當地開隧道，因此大大提升當地交通的便利性。

1. ()阿翰如果要從住家到市區辦事情，他最不可能運用下列哪一種運輸方式到達目的地？
①自行開車②騎機車③搭乘捷運④搭乘公車。
2. 山地或人口稀少地區的運輸設施以()為主。
3. 位處山區的鄉鎮或部落，多配有()電話，以便聯繫緊急事件。
4. ()下面哪一個方法可以幫助山地地區改善通訊品質？①購買智慧型手機②購買筆記型電腦③電信公司加裝發射器④興建大眾運輸工具。
5. ()交通建設及大量運輸工具雖帶來許多便利，但也會造成什麼影響？①經濟衰退與生態環境破壞②空氣汙染與生態環境破壞③噪音與經濟衰退④人口減少與空氣汙染。
6. 平原及()等地勢平坦地區，通常開發較早、交通便利與工商發達，因此居住人口較多。