

一、填填看看 (每格 1 分，18%)

1.請按照數的順序填填看看。

(1) 840 → → 640 → 540 →

(2) 670 → → 690 → →

(3) → 997 → 998 → →

2. 750 是 () 個百、() 個十和 () 個一合起來的。

3. 12 個一和 1 個百合起來是 ()，讀作 ()。

4. 選出三個數字，排出最小的三位數。

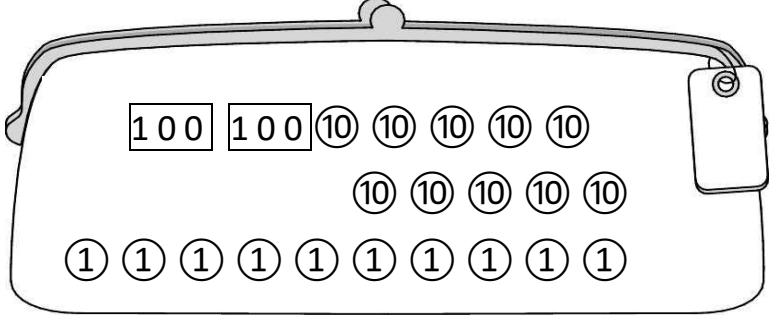
9	0	7	1	8	6
百位	十位	個位			

5. 平平不小心用彩色筆畫到習作上的數字，如果平平的答案是正確的，看不清楚的那一個數字可能是 () 或 ()。

508 578

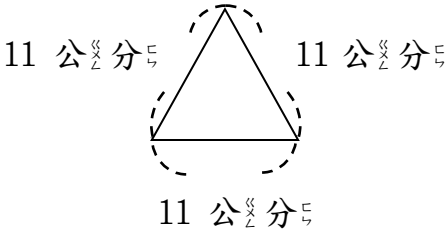
二、看看圖做做看看 (每格 2 分，49%)

1. 這是安安的钱包，他买了一台削鉛筆機 299 元，要怎麼付錢才會剛好？圈圈看看。



2. 接上題，買 2 台削鉛筆機大約要幾百元？ () 元

3.



請算出上圖的周長： (4 分)

() × () = ()

周長是 () 公分

4. 重量比一比：

(1) 最輕的打√，最重的畫○。



(2)



① 猴子和 () 個罐子一樣重。

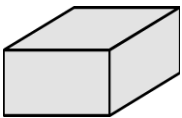
② 兔子和 () 個罐子一樣重。

③ (猴子， 兔子) 比較輕。

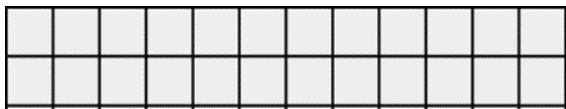
5. 下面的形體叫作 () 體，

有 () 個面、() 條邊、

() 個頂點。 (4 分)



6. 用乘法算式表示下圖中 的數量：



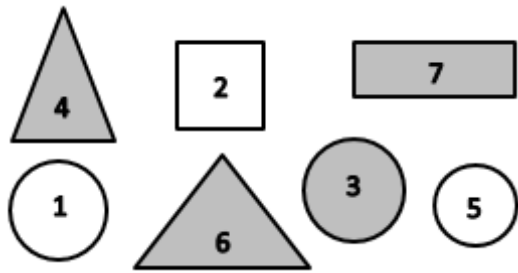
() × () = ()

7. 畫畫看看：(3 分)

- (1) 用鉛筆描出圖形的周界。
- (2) 在周界內畫 3 個 O。
- (3) 在周界外畫 2 個 X。



8. 分一分，用代號記錄下來。
(每答 1 分)



灰色：

有角：
沒有角：

白色：

有角：
沒有角：

三、做一做 (每格 1 分，13%)

1. 安安玩套圈遊戲，結果如下表。請回答下面的問題。

得分(分)	10	1	0
個數(個)	4	5	7

- (1) 套中 10 分的分數：
() × () = ()
- (2) 套中 1 分的分數：
() × () = ()
- (3) 套中 0 分的分數：
() × () = ()
- (4) 安安共得到 () 分。

2. 兩顆一樣重的蘋果，一顆放在天平的左邊，另一顆切成兩半放在天平的右邊，結果會如何呢？在□裡打✓：

- ☐ (1) 整顆的比較重
- ☐ (2) 切成兩半的比較重
- ☐ (3) 一樣重

四、先記錄問題，再用直式計算看看。(每題 5 分，20%)

1. 繪本館裡原有 684 本繪本，被借走一些後，還剩下 479 本。繪本館被借走幾本繪本？

問題記成：

直式：

答：() 本

2. 今天是快樂屋書展，上午賣了 363 本，下午賣了 578 本。今天書展共賣了幾本書？

問題記成：

直式：

答：() 本

3. 媽媽今年 32 歲，媽媽比爺爺小 29 歲，爺爺今年幾歲？

問題記成：

直式：

答：() 歲

4. 安安蒐集 120 張貼紙，安安比平平多 18 張。平平蒐集幾張？

問題記成：

直式：

答：() 張