

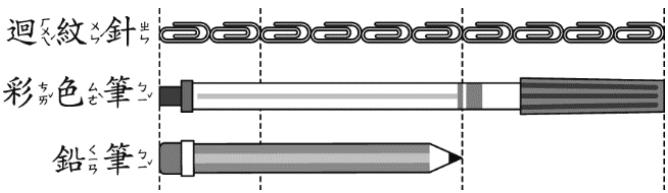
科目	數學	命題老師	數學領域	年級	一年 班	座號	姓名	成績	家長簽章
----	----	------	------	----	------	----	----	----	------

一、選出正確的答案 (10%)

1. ( )  $2+9=11$  算式中「加數」是哪個數字？ ①2 ②9 ③11
2. ( ) 姐姐上午吃了 6 顆草莓，下午吃了 7 顆草莓；弟弟上午吃了 7 顆草莓，下午吃了 6 顆草莓，誰吃的比較多？  
①姐姐 ②弟弟 ③一樣多
3. ( ) 哥哥排隊買文具，排在第 36 個，排在他後面的人第 5 個是第幾個？  
①第 31 個 ②第 41 個 ③第 39 個
4. ( ) 下面哪一個圖形是由 4 個三角形排成的？




5. ( ) 一枝鉛筆和幾個迴紋針一樣長呢？ ①2 個 ②4 個 ③6 個





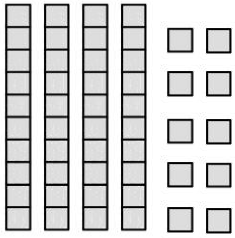
二、連連看 (8%)

這些圖形板剛好可以放在哪裡呢？



三、做做看看 (20%)

- (1)  代表 10 個麵包， 代表 1 個麵包，請圈出 49 個麵包。



- (2) 公園裡有 25 張椅子，有 30 個小朋友，一個人坐 1 張，椅子夠不夠？圈出正確的答案。  
( 夠 , 不夠 )
- (3) 圈出和  $8+7$  答案一樣的心算卡。(答案不只一個！)



- (4) 大的數打  $\sqrt{\quad}$ ，小的數打  $\times$ ：
- ① 

35
----

37
----

 ② 

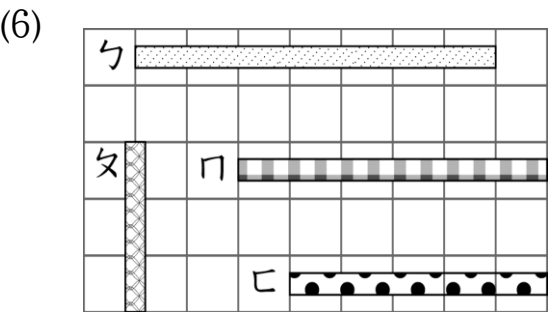
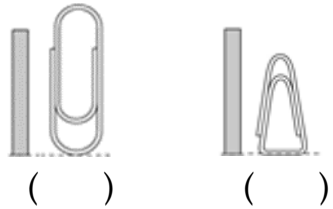
48
----

32
----

 ③ 

50
----

39
----
- ( ) ( ) ( ) ( ) ( ) ( )
- (5) 下面哪一個迴紋針比較長？請打  $\sqrt{\quad}$ 。







請依上圖，將綵帶由長到短，寫出代號排排看。







( )  $\rightarrow$  ( )  $\rightarrow$  ( )  $\rightarrow$  ( )

四、看圖做做看看 (24%)

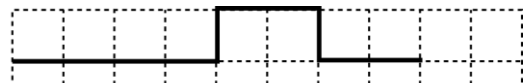
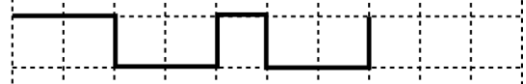
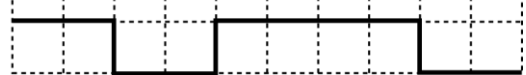
- (1)
- ① 每種水果有幾個？畫「正」記，看，並寫出數量。

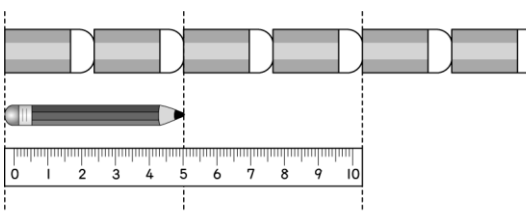


水果	畫記	數量
	正	( ) 個
		( ) 個
		( ) 個

- ② 數量最多的是 (  ,  ,  )
- ③ 數量最少的是 (  ,  ,  )

- (2) 甲乙丙三條繩子，最長的畫○，最短的打√。

甲		甲 ( )
乙		乙 ( )
丙		丙 ( )

(3) 

- ① 一把尺和 ( ) 個橡皮擦一樣長。
- ② 一把尺和 ( ) 隻鉛筆一樣長。

五、填填看看 (20%)

- (1) 按照順序填出正確的數字。
- ① 22 — 24 — ( ) — 28 — ( )
- ② 15 — ( ) — 25 — 30 — ( )
- ③ 47 — 37 — ( ) — 17 — ( )
- (2) 觀察算式的規律，並把答案填在 ( ) 裡。

- ①  $8+9=( )$       ②  $11-5=6$
- $8+8=16$        $12-5=( )$
- $8+7=( )$        $13-5=( )$

六、寫出做法和答案 (12%)

- (1) 一包彩色紙有 7 張，2 包彩色紙有幾張？
- 算式：


答：( ) 張




- (2) 操場上有 15 個小朋友，有 8 個是女生，男生有幾個？
- 算式：

答：( ) 個人

- (3) 哥哥跳繩跳了 17 下，妹妹跳了 9 下，哥哥比妹妹多跳幾下？
- 算式：

答：多跳 ( ) 下


(4) 



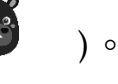
- 1 隻  和 2 塊  排在一一起後，會和幾個  一樣長呢？
- 算式：

答：( ) 個

七、生活應用題 (6%)

下圖是 小英 班上票選喜愛玩偶的紀錄，一個 人 投 1 票，看表格回答問題。

		
6 票	12 票	16 票

- (1) 有 ( ) 種玩偶被票選。
- (2) 請圈出最受歡迎的玩偶 (  ,  ,  )。
- (3) 票數最多和票數最少的玩偶相差 ( ) 票。