

新北市板橋區莒光國民小學 109 學年度第二學期第一次定期評量試題														
科目	數學	命題老師	領域小組	年級	二年	班	座號		姓名		成績		家長簽章	

一、選出正確的答案。(每題 2 分，10%)

( 2 ) 1. 關於「906」哪一個說法正確？


- ①讀作「九百六」  
 ②是 9 個百和 6 個一合起來的  
 ③讀作「九百六十六」  
 ④是 9 個百和 6 個十合起來的

( 3 ) 2. 「56+283」用直式計算，哪一個計算的方式是正確的？

- ① 
$$\begin{array}{r} 1 \\ 56 \\ + 283 \\ \hline 249 \end{array}$$
 ② 
$$\begin{array}{r} 1 \\ 56 \\ + 283 \\ \hline 843 \end{array}$$
  
 ③ 
$$\begin{array}{r} 1 \\ 56 \\ + 283 \\ \hline 339 \end{array}$$
 ④ 
$$\begin{array}{r} 11 \\ 56 \\ + 283 \\ \hline 349 \end{array}$$

( 1 ) 3. 估估看，右圖的杯子大約是幾十元？

- ①約 60 元 ②約 50 元  
 ③約 40 元 ④約 30 元



( 3 ) 4. 生活中，哪些物品可能比 1 公尺長？

- ①膠水 ②彩色筆  
 ③跳繩 ④剪刀

( 3 ) 5.  $1\square4=4$ ， $\square$ 中要填入 +、- 或  $\times$ ，才能成為正確的算式？

- ①+ ②- ③ $\times$  ④都不對

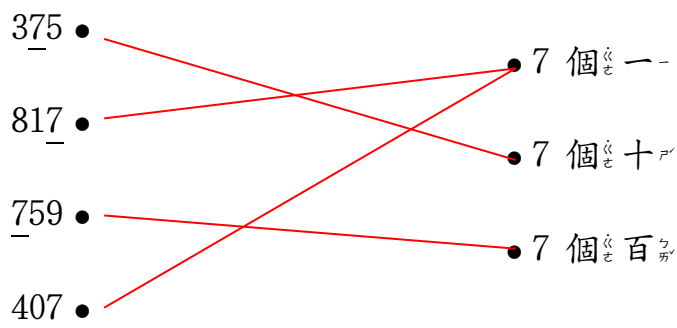
二、寫出直式算算看。(每題 3 分，12%)

①  $368 + 71 = ( 439 )$  ②  $573 + 189 = ( 762 )$

③  $529 - 362 = ( 167 )$  ④  $234 - 64 = ( 170 )$

三、連連看。(每個答案 2 分，8%)

每個數中的 7 是表示多少？



四、做做看。(每個答案 2 分，34%)

1.  $401 - 400 = ( 399 ) - 398 - 397$

2. 8 個百和 16 個十合起來是 ( 960 )。

3. 比比看，在  $\square$  裡填入  $>$  或  $<$ ：

240  $<$  420      998  $>$  989

3 公尺 30 公分  $<$  333 公分

4. 用 0, 9, 4, 2, 6 數字卡排出最小的三位數是 ( 204 )，最大的三位數是 ( 964 )。

5. 圈出合理的答案：

(1) 妹妹的身高大約是

100 ( 公尺, 公分 )。

(2) 黑板的長度大約是

4 ( 公尺, 公分 )。

6. 一條繩子長 6 公尺 9 公分，可以說成是 ( 609 ) 公分。

7. 一條緞帶長 870 公分，可以說成是 ( 8 ) 公尺 ( 70 ) 公分。

8. 小明和小光參加跳遠比賽，小明跳了 1 公尺 95 公分，小光跳了 159 公分，請問誰跳得比較遠？

答：( 小明 )

9. 請在括弧中填入正確的數字：

$( 0 ) \times 9 = 0$

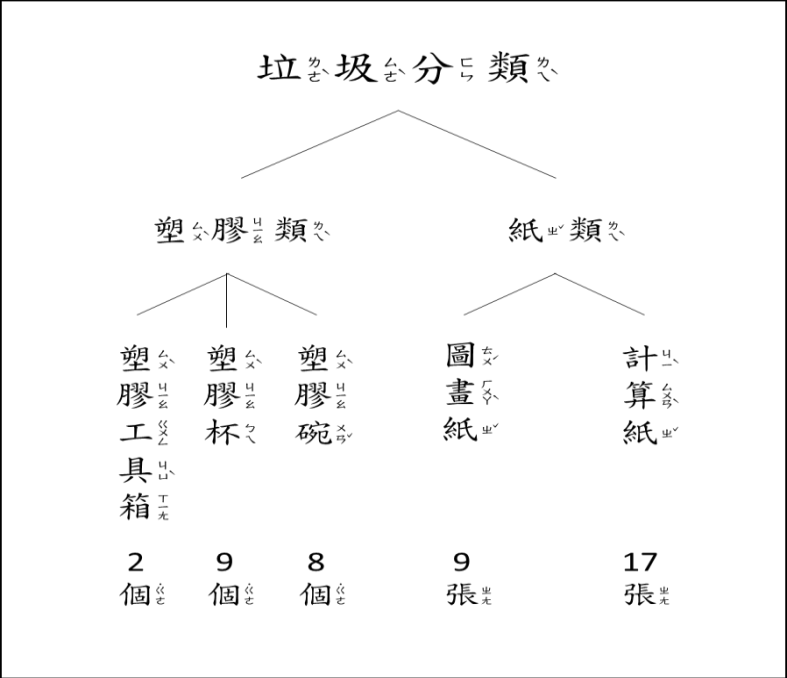
$1 \times ( 5 ) = 5$

$10 \times 8 = ( 80 )$

$17 \times 6 = ( 6 ) \times 17$

五、看圖並回答問題(每個答案 2 分，16%)

生活課減塑大作戰中，發現了地球上有許多動物都因為過多的塑膠垃圾而受到傷害，莒光國小二年 19 班決定一起當減塑小達人，將教室的垃圾分類回收，我們一起來看看他們的分類紀錄吧！



- 1. 班上垃圾分類分成( **塑膠** )類和( **紙** )類。
- 2. 塑膠類中有塑膠工具箱、塑膠杯和( **塑膠碗** )。
- 3. 塑膠類中垃圾數量最多的是( **塑膠杯** )。
- 4. 在紙類中圖畫紙有( **9** )張，計算紙有( **17** )張，紙類中中共有( **26** )張紙。
- 5. 塑膠類中，塑膠碗比塑膠杯少( **1** )個。

六、炭治郎和禰豆子要去拜訪義勇，請你回答下列問題，協助他們找到義勇吧！(每題 4 分，20%)

- 1. 出門前，炭治郎和禰豆子要先幫師父搬樹枝，兩人總共搬了 529 根樹枝，炭治郎搬了 272 根，請問禰豆子搬了幾根樹枝？

529 - 272 = 257

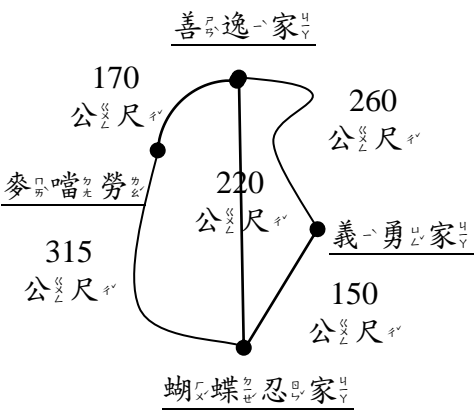
答：( **257** )根

- 2. 路途中，肚子餓的兩個人到了麥噹勞買午餐，一份大套餐 109 元，一份小套餐 97 元，各買一份，請問要付多少元？

109 + 97 = 206

答：( **206** )元

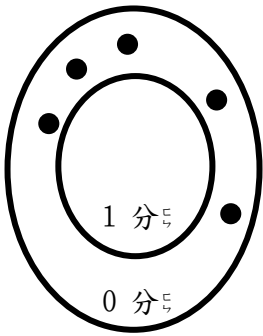
- 3. 炭治郎從麥噹勞出發，路上還想去善逸跟蝴蝶忍家，最後再去義勇家。請幫炭治郎找出最短距離並算算共要走多少公尺？



170+220=390  
390+150=540

答：( **540** )公尺

- 4. 到了義勇家，義勇邀請炭治郎玩投球遊戲，下面是炭治郎的投球結果，請問他獲得了幾分？(請用乘法算式表示)



0x5=0

答：( **0** )分

- 5. 回家前，義勇準備了小點心要送給炭治郎，一盒鳳梨酥有 10 塊，義勇送給炭治郎 3 盒，請問炭治郎拿到幾塊鳳梨酥？

10x3=30

答：( **30** )塊