
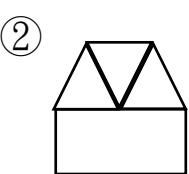
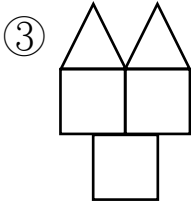



一、選出正確的答。

(每題 2 分) 10%




- (②) 下面哪一個算式的和是 11 ?
 ① $5+7=$ ② $3+8=$ ③ $7+2=$
- (①) 用 3 個三角形、2 個正方形，可以拼出哪一個圖形 ?
 ①  ②  ③ 
- (①) 18 隻胖丁比 9 隻胖丁多幾隻胖丁 ?
 ① 9 隻 ② 8 隻 ③ 10 隻
- (③) 下面哪個說法是正確的 ?
 ① 89 比 98 大 ② 50 少 1 是 51 ③ 63 比 73 小
- (③)  2 枝鉛筆跟幾個迴紋針一樣長 ?
 ① 4 個 ② 6 個 ③ 8 個

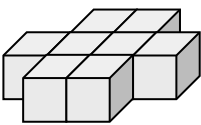
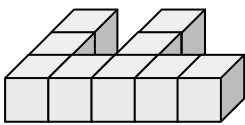
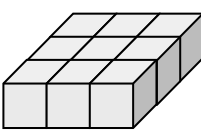
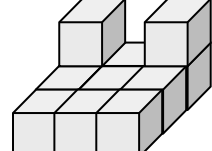
二、填填看看。(每格 2 分) 34%

- 按照順序填填看
 $50 \rightarrow (52) \rightarrow 54 \rightarrow (56) \rightarrow 58 \rightarrow 60$
- 想一想，填一填：

(1) $4+6=10$	(2) $12-5=7$
$4+7=(11)$	$13-5=(8)$
$4+8=(12)$	$14-5=(9)$
- 在 $11-2=9$ 的算式中，被減數是 (11)，差是 (9)。
- 3 個十和 13 個一合起來的二位數是 (43)。

- 有一個二位數，它比 71 小，十位數字是 7，這個二位數是 (70)。
- 每一個格子都一樣大，最長的鉛筆請打 \checkmark ，最短的鉛筆請打 \times 。

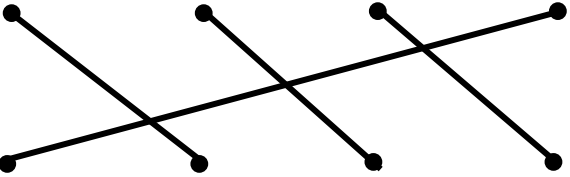
	(\checkmark)
	(\times)
	()
- 下面哪些是用 9 個組成的？請在 () 內打 \checkmark 。

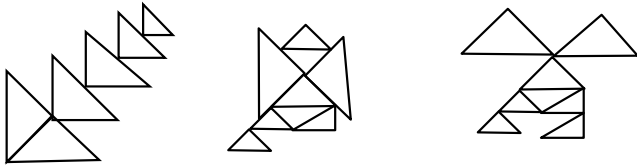
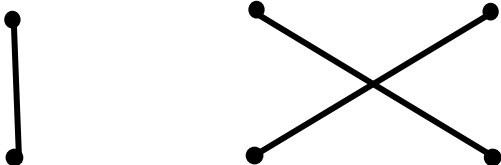
(1)  ()	(2)  (\checkmark)
(3)  (\checkmark)	(4)  ()

三、連連看看。(每線 2 分) 14%

- 把相同答案的算式連起來：

$11-4$	$5+7$	$9+6$	$18-5$
--------	-------	-------	--------



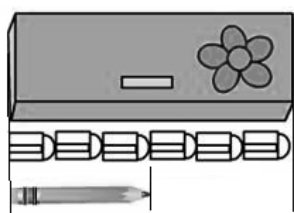
$20-7$	$2+5$	$8+4$	$18-3$
--------	-------	-------	--------
- 把正確的三角形數量連起來：



6	8	9
---	---	---

四、看圖回答問題。

(每題 2 分) 26%

1.



- (1) 一個鉛筆盒和 (6) 個橡皮擦一樣長。
- (2) 一枝鉛筆和 (3) 個橡皮擦一樣長。
- (3) 一個鉛筆盒和 (2) 枝鉛筆一樣長。

2. 請依照 51~90 的百數表，回答問題。

51	52	53	54	55	56	57	58	59	60
61	62	♥	64	65	66	67	68	69	☾
☼	72	73	74	75	76	77	78	79	80
81	82	83	84	85	86	87	88	☾	90

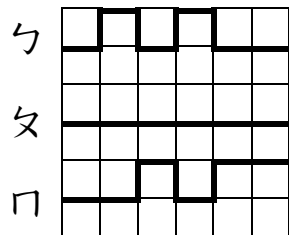
(1) 寫出百數表中符號所代表的數：

♥ 是 (63) ☾ 是 (70)

☼ 是 (71) ☾ 是 (89)

(2) 從 52 這一排往下讀，個位數字都是 (2)。


3. 屁屁偵探想去城堡探險，請看圖填入代號：



(1) (ㄅ) 的路線最長。

(2) (ㄆ) 的路線最短。

4. 剪下的是哪一個圖形？在 () 中打✓。



①



②



③



() (✓) ()

五、寫出算式做做看。

(每題 4 分) 16%

1. 春天來了，悅讀園旁的杜鵑花原本開了 7 朵白花，後來又開了 8 朵紅花，請問一共開了幾朵花？

算式： $7+8=15$

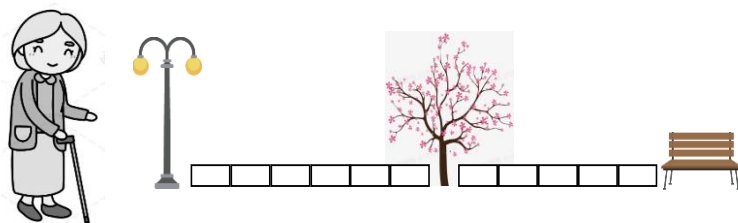
答：一共開了 (15) 朵花。

2. 豬排有 9 張遊戲卡，蜥蜴有 4 張遊戲卡，兩隻小夥伴合起來有幾張遊戲卡？

算式： $9+4=13$

答：共有 (13) 張遊戲卡。

3. 奶奶到八德公園散步，從路燈開始走，經過櫻花樹下再走到椅子，奶奶共要走幾個 ？



算式： $6+5=11$

答：共要走 (11) 個 .

4. 爺爺買了 13 瓶養樂多，小丸子每天喝一瓶，7 天後，還有幾瓶養樂多？

算式： $13-7=6$

答：還有 (6) 瓶養樂多。

寫完記得檢查喔！

