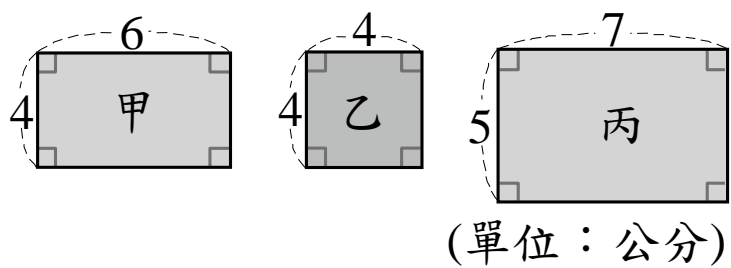


- 一、比大小：（每題 2 分，共 6 分）
- (1) 1440000 平方公分  $\boxed{=}$  12 公尺 $\times$ 12 公尺
- (2) 邊長 2 公分的正方體  $\boxed{<}$  9 cm<sup>3</sup>的長方體
- (3) 685 秒鐘  $\boxed{<}$  11 分鐘 30 秒鐘

- 二、填填看：
- (1~4 題每格 2 分，5~11 題每格 1 分，共 37 分)
1. 5 小時 22 分鐘=( 322 ) 分鐘。
2. 160 小時=( 6 ) 日( 16 ) 小時。
3. 下面圖形中，甲和丙是長方形，乙是正方形。



- (1)甲圖的周長是( 20 )公分；乙圖的周長是( 16 )公分；丙圖的周長是( 24 )公分。
- (2)甲圖的面積是( 24 )cm<sup>2</sup>；乙圖的面積是( 16 )cm<sup>2</sup>；丙圖的面積是( 35 )cm<sup>2</sup>。

4. 完成下面表格：

原來的數	無條件捨去法 取概數到萬位	無條件進入法 取概數到萬位
159875	150000	160000
2434982	2430000	2440000

5. 「65.56」中：
- (1)左邊的6是右邊的6的( 1000 )倍。
- (2)個位 5 是十分位 5 的( 10 )倍。
6. 把  $\boxed{12.34}$  用「數的十進位表示法」記成：

12.34=10 $\times$ 1+1 $\times$ 2+0.1 $\times$ 3+0.01 $\times$ 4

7. 63 平方公尺=( 630000 )平方公分。
8. 一臺電視機的售價是 5670 元，若全部用千元鈔票付錢，至少要付( 6 )張才夠，也就是( 6000 )元。
9. 下面哪一個數用「四捨五入法」取概數到百位的結果是 6700？把它圈出來。

6580 6750 6660 6760 6800

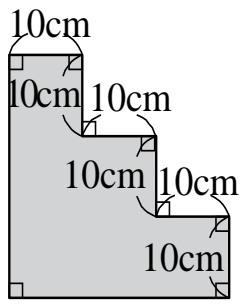
10. 想一想， $362\times18=6516$ ：
- (1) $36.2\times18=( 651.6 )$
- (2) $36.2\times180=( 6516 )$
- (3) $3.62\times180=( 651.6 )$
11. 媽媽幫小澤切蛋糕慶生，把一個蛋糕切成 8 塊，請問蛋糕切開前和切開後的體積是變大、變小，還是不變？( 不變 )

三、列出過程算算看：（每題 3 分，共 21 分）

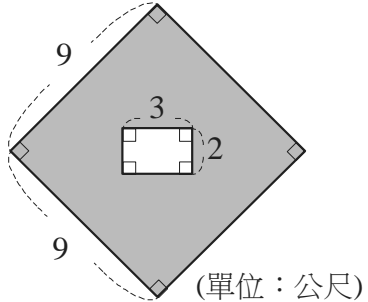
(1)  $3.25\times26=( 84.5 )$  (2)  $5.7\times40=( 228 )$

(3) 15 時—7 時 43 分  
=( 7 時 17 分 ) (4) 12 日 18 時+9 時  
=( 13 日 3 時 )

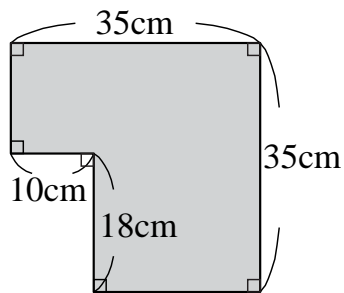
(5) 鋪色部分的面積是多少？**600 平方公分**




(6) 鋪色部分的面積是多少？**75 平方公尺**

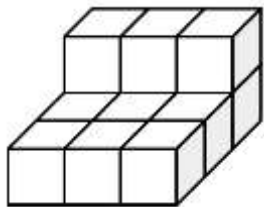


(7) 鋪色部分的面積是多少？**1045 平方公分**



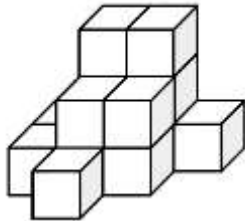
四、數數看：每個  的體積是  $1\text{cm}^3$ ，下面形體的體積各是多少？(每格 3 分，共 12 分)

1.



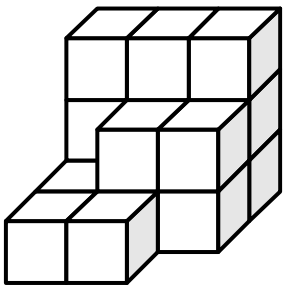
( **12** )  $\text{cm}^3$

2.



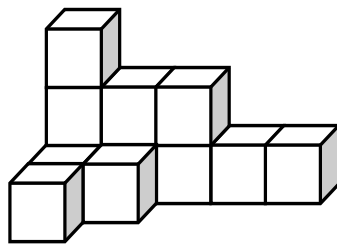
( **14** )  $\text{cm}^3$

3.



( **16** )  $\text{cm}^3$

4.



( **12** )  $\text{cm}^3$

五、應用題：(每題 4 分，共 24 分)

1. 小綸用一條長 84 公尺的繩子，圍成一個正方形，正方形的面積是多少平方公尺？

**441 平方公尺**

2. 莒光餐廳在去年的營收有 6734100 元，在今年有 8489400 元。先用四捨五入法取到萬位，再算算看，莒光餐廳 這兩年營收大約相差多少萬元？

**約 176 萬元**

3. 小珍準備了一袋 20 公斤的白米，平均每天用掉 0.63 公斤，兩個星期後，還剩下多少公斤的白米？

**11.18 公斤**

4. 星期日小晴到莒光遊樂園玩，從上午 10 時 30 分進入莒光遊樂園，到下午 3 時才離開，請問小晴在莒光遊樂園停留了幾小時幾分鐘？

**4 小時 30 分鐘**

5. 莒光國小播放聖誕音樂劇，放映時間是 1 小時 52 分鐘，從下午 1 時 30 分開始放映，請問下午什麼時候才會結束？

**下午 3 時 22 分**

6. 荷利颱風滯留臺灣的時間長達 18 小時，中央氣象局在 7 月 20 日下午 3 時解除陸上颱風警報，那麼荷利颱風在 7 月幾日幾時登臺？

**7 月 19 日下午 9 時  
(或 7 月 19 日 21 時)**