

新北市板橋區莒光國民小學 110 學年度第二學期第二次定期評量試題													
科目	數學	命題老師	數學領域	年級	二年	班	座號		姓名		成績		家長簽章

一、防疫大作戰(每題 2 分，20%)

五月時，Covid-19 疫情升溫，防疫專家提醒我們要勤洗手、戴口罩和保持社交距離，減少染疫的風險。

5月							6月						
日	一	二	三	四	五	六	日	一	二	三	四	五	六
1	2	3	4	5	6	7				1	2	3	4
8	9	10	11	12	13	14	5	6	7	8	9	10	11
15	16	17	18	19	20	21	12	13	14	15	16	17	18
22	23	24	25	26	27	28	19	20	21	22	23	24	25
29	30	31					26	27	28	29	30		





- 保持社交距離 1 公尺 50 公分也可以說是 (150) 公分。
- 5 月有 (31) 天，也可以說是 (4) 個星期又 (3) 天。
- 如果小光確診，需要居家隔離一星期，從 5 月 23 日開始，(5) 月 (29) 日是最後一天。
- 學校線上課程從 5 月 30 日到 6 月 2 日，共有 (4) 天。
- Covid-19 疫情爆發到現在，已經過了 2 年 7 個月，也可以說是 (31) 個月。
- 圈圈看，今年 2 月有 28 天，所以是 (平年、閏年)。

二、我的防疫物資。(每題 2 分，6%)

- 口罩的長邊大約是 15 (公分、公尺)。
- 防疫隔板展開後長邊大約是 1 (公分、公尺)。
- 額溫槍大約是 1 (叔、手肘) 長。

三、種豆成長日記，按順序填入

1、2、3、4。(每格 2 分，8%)

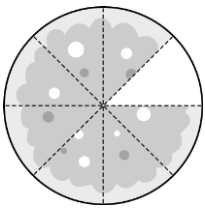
 3	 4	 2	 1
4 月 15 日	5 月 3 日	3 月 20 日	3 月 15 日

四、米食大集合：乘與加減兩步驟(每題 5 分，20%)

- 一盒海苔壽司有 6 個，小莒吃了 2 盒又 3 個，他共吃了幾個海苔壽司？
先算 $6 \times 2 = 12$
再算 $12 + 3 = 15$
答：(15) 個
- 炒米粉一份 30 元，年糕一片 10 元，小莒買了 5 片年糕和一份炒米粉，共要付多少元？
先算 $10 \times 5 = 50$
再算 $50 + 30 = 80$
答：(80) 元
- 一串粽子有 9 個，媽媽買 4 串甜粽和 4 串鹹粽，共有幾個粽子？
先算 $4 + 4 = 8$
再算 $9 \times 8 = 72$
答：(72) 個
- 一盒紅豆麻糬有 5 顆，小莒買了 7 盒，分給弟弟 3 盒，他還剩下幾顆紅豆麻糬？
先算 $7 - 3 = 4$
再算 $5 \times 4 = 20$
答：(20) 顆

五、節慶活動(每答2分，18%)

1. 母親節到了，爸爸買了一個蛋糕等分成4份，小光吃了其中的1份，是(1/4)個蛋糕。
2. 媽媽買了一個披薩慶祝兒童節，披薩等分成(8)份，白色的部分是(1/8)個披薩。
3. 下圖中，有等分分的打V，沒有等分分的打X。



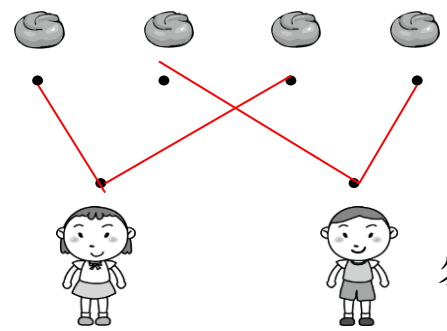
V		X		V	
V		V		X	

六、故事接龍(每答2分，10%)

1. 國王珍珠寶盒裡，珍珠項鍊比金項鍊長，銀項鍊比金項鍊短，請小朋友用直線畫一畫。
- 珍珠項鍊: _____
- 金項鍊: _____
- 銀項鍊: _____
2. 皮可可在森林迷宮追蝴蝶，他走了905公分，也可以說是(9)公尺(5)公分。
3. 小怪獸的一叔大約12公分，樹洞的寬度和3叔差不多，大約是(36)公分。


七、期末同樂會(第一題6分，其餘4分，18%)

1. 有4顆巧克力平分給2個人，每個人分到幾顆？連連看。



答：(2)顆

2. 大家來玩圖卡配對，有18張動物圖卡，每3張分給1個人，可以分給幾個？圈一圈看看。



答：(6)個人

3. 老師準備了20支冰棒



- (1) 每個盒子放4支，需要準備(5)個盒子。
- (2) 每個盒子放10支，需要準備(2)個盒子。
4. 小光有21個布丁，平分給7個同學，每個人有幾個布丁？把做法用減法算式記下來。
- 算式：

21-7=14

14-7=7

7-7=0

答：(3)盒

寫完了別忘了檢查喔！