

新北市板橋區莒光國民小學 108 學年度第二學期第二次定期評量試題答案卷

科目	社會	命題老師	五年級社會領域	年級	五年	班	座號	姓名	成績	家長簽章	100	70-79	
											90-99	70 以下	
											80-89	平均	

一、是非題：每題 2 分，共 28 分

1 ○	2 ○	3 ✕	4 ○	5 ○
6 ✕	7 ✕	8 ○	9 ✕	10 ✕
11 ○	12 ○	13 ✕	14 ○	

二、選擇題：每題 2 分，共 28 分

1 1	2 4	3 3	4 2	5 3
6 2	7 1	8 4	9 3	10 4
11 3	12 2	13 1	14 2	

三、對的畫○，錯的打✕：每格 1 分，共 8 分

1.	(1) ○	(2) ○	(3) ✕	(4) ○
----	-------	-------	-------	-------

2.	(1) ○	(2) ○	(3) ✕	(4) ○
----	-------	-------	-------	-------

四、填代號：每格 1 分，共 20 分

1.	(1) B	(2) B	(3) A	(4) B	(5) A
----	-------	-------	-------	-------	-------

2.	(1) E	(2) D	(3) A	(4) B	(5) C
----	-------	-------	-------	-------	-------

3.	(1) A	(2) B	(3) C	(4) E	(5) D
----	-------	-------	-------	-------	-------






4.	(1) D	(2) A	(3) B	(4) C	(5) B
----	-------	-------	-------	-------	-------

五、閱讀題：每格 2 分，共 4 分

(1) 2	(2) 4
-------	-------

六、連連看：每答 1 分，共 5 分

1. 請根據以下題意，將適當的代號連起來。

- A 考試院  統率國軍、任命行政院長  
 B 立法院  負責舉辦各種國家考試  
 C 司法院  審查中央政府預算  
 D 總統  管理各級法院、解釋憲法  
 E 行政院  執行內政、國防等政策

七、圖表題：請仔細閱讀文章後，回答下列問題。  
每答 1 分，共 7 分

黑啤全家預備到臺東 綠島旅行，途中經過許多區域。請參考下列臺灣交通分布圖，回答問題：

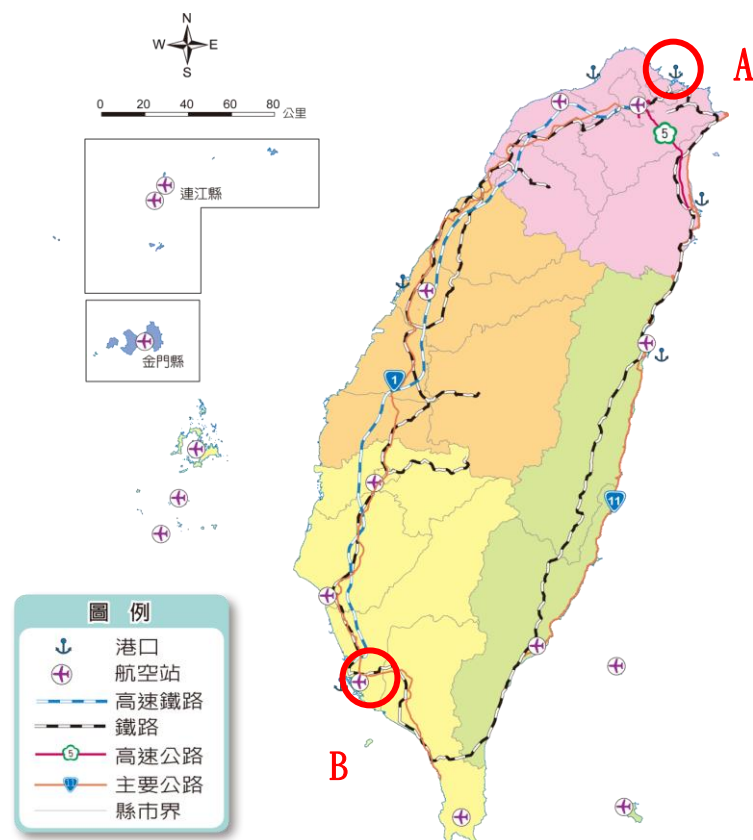
- 黑啤一家人租車開往北部的基隆港，請在下圖中，圈出基隆港的位置，並寫出 **A**。車子行經國道 5 號抵達宜蘭。黑啤全家在宜蘭、蘇澳附近泡冷泉後，繼續向南走。接著，他們的車子行經蘇花公路，抵達花蓮。第二天，黑啤一家人抵達臺東 富岡漁港後，搭乘「天王星號」高速客輪抵達綠島。綠島擁有海底溫泉，島上的「人權文化園區」提醒著人們，自由民主的可貴價值。
- 完成綠島的旅行後，黑啤全家搭乘南迴鐵路抵達高雄。之後，黑啤要搭飛機到越南出差，請在下圖中，圈出高雄國際航空站的位置，並寫出 **B**。
- 現在，請你幫黑啤完成下列（ ）中的答案。介紹一個景點？並說明景點的特色？

大家好!我是黑啤，今天為大家介紹的景點是：

(                     略                     ) ( 2 分 )

景點的特色是：(請寫出一段文字說明，3 分)

(                     略                     )



※臺灣主要公路、鐵路、航空站、港口分布圖

【恭喜你!完成試題了】已經確實檢查 ☐ 次!