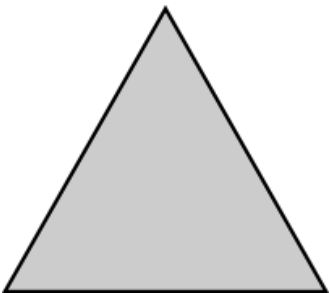


一、填填看看 (每格 2 分，共 28 分)

民國 109 年 7 月						
日	一	二	三	四	五	六
			1	2	3	4
5	6	7	8	9	10	11
12	13	14	15	16	17	18
19	20	21	22	23	24	25
26	27	28	29	30	31	

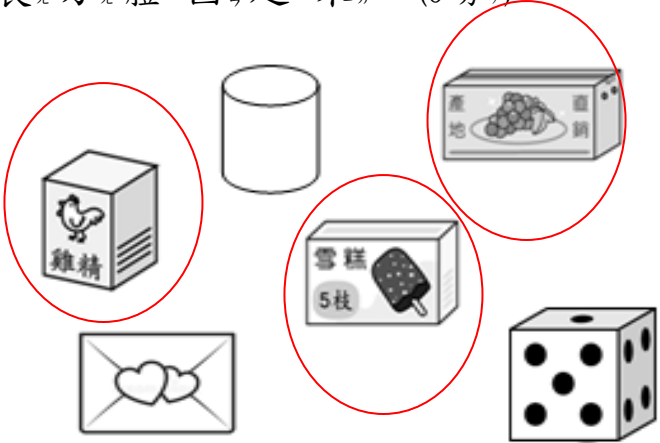
民國 109 年 8 月						
日	一	二	三	四	五	六
						1
2	3	4	5	6	7	8
9	10	11	12	13	14	15
16	17	18	19	20	21	22
23	24	25	26	27	28	29
30	31					

1. 依據上方月曆作答：
- (1) 上方左圖是 (7) 月 份 的 月 曆，有 (4) 個 星 期 又 (3) 天。
- (2) 夏令營從 7 月 20 日 開始到 7 月 27 日 結束，一 共 有 (8) 天。
- (3) 全家從 8 月 3 日 出發旅遊 2 個 星 期，會 在 (8) 月 (16) 日 回 來。
2. 今年 是 民 國 (109) 年，已 知 今 年 是 閏 年，2 月 有 (29) 天。
3. 妹 妹 已 經 1 歲 又 4 個 月 了，她 是 (16) 個 月 大。
4. 正 方 體 有 (6) 個 面，(8) 個 頂 點，(12) 個 邊。每 個 邊 (一 樣) / 不 一 樣 長。
5. 量 量 看，下 方 的 圖 形 是 (正 三 角 形) 形。

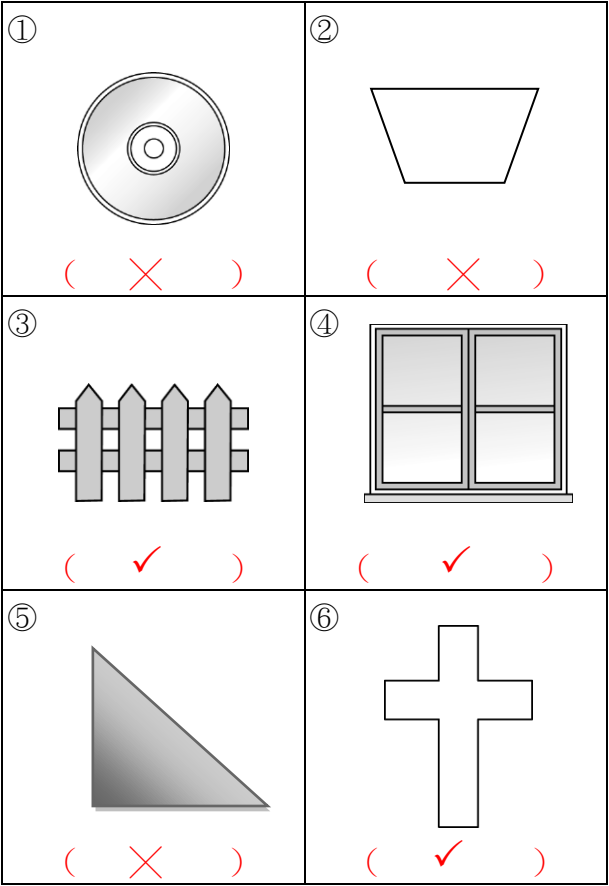


二、做做看看 (共 18 分)

1. 將 長 方 體 圈 起 來。(6 分)

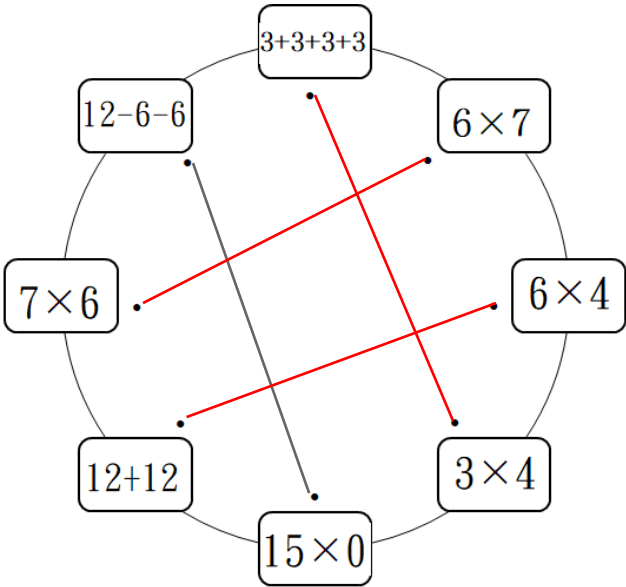


2. 下 面 圖 形 中 有 平 行 也 有 垂 直 現象 的 打 勾， 沒 有 的 打 叉。(12 分)



三、連連看看 (每線 2 分，共 6 分)

1. 將 答 案 一 樣 的 算 式 連 起 來：



四、分分看看 (每題 4 分，共 16 分)

1. 用有括號的乘法算式做做看

(1) 一盒有 6 個章魚燒，48 個章魚燒可以裝成幾盒？

$6 \times () = 48$

A : 8 盒

(2) 有 63 支飛鏢，平分給 7 個人，每人可以得到幾支飛鏢？

$() \times 7 = 63$

A : 9 支

2. 用減法算式做做看

(1) 有 32 顆鳥蛋，4 顆串成一支，可以串成幾支？

$32 - 4 = 28$ $16 - 4 = 12$

$28 - 4 = 24$ $12 - 4 = 8$

$24 - 4 = 20$ $8 - 4 = 4$

$20 - 4 = 16$ $4 - 4 = 0$

A : 8 支

(2) 媽媽買 18 個戚風蛋糕，每個裝一盒，可以裝成幾盒？

$18 - 3 = 15$ $9 - 3 = 6$

$15 - 3 = 12$ $6 - 3 = 3$

$12 - 3 = 9$ $3 - 3 = 0$

A : 6 盒

五、先算什麼？再算什麼？

(每題 4 分，共 12 分)

1. 一盒鳳梨酥有 6 塊，爸爸買 6 盒又 3 塊，一共買了多少塊鳳梨酥？

$6 \times 6 = 36$

$36 + 3 = 39$

A : 39 塊

2. 一盒太陽餅原價是 90 元，特價 79 元，買了 3 盒，共便宜幾元？

$90 - 79 = 11$

$11 \times 3 = 33$

A : 33 元

3. 貢糖有兩種口味，花生口味有 3 包，芝麻口味有 4 包，每包有 8 顆，共有幾顆貢糖？

$3 + 4 = 7$

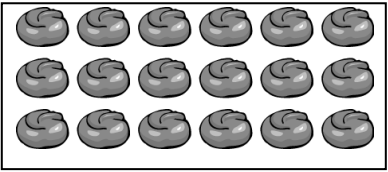
$8 \times 7 = 56$

A : 56 顆

六、題組挑戰 (每題 4 分，共 20 分)

1. 有兩盒巧克力餅乾，用乘法算式算出各有幾塊巧克力餅乾。

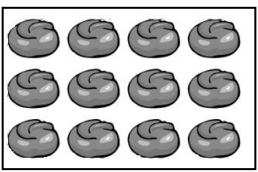
(1) 第一種



$3 \times (6) = (18)$

$6 \times (3) = (18)$

(2) 第二種



$3 \times (4) = (12)$

$4 \times (3) = (12)$

(3) 承上題，一塊巧克力餅乾賣 10 元，兩盒巧克力餅乾相差幾元？

$18 - 12 = 6$

$10 \times 6 = 60$

A : 60 元

2. 有 28 條魚，每 7 條裝 1 盆，剛好全部裝完，共裝了幾盆？

(1) 用有括號的乘法做做看。

$7 \times () = 28$

A : 4 盆

A :

(2) 上面算式中，各表示什麼？在□中打✓。

28 表示

☐ 1 盆有 28 條魚

☒ 一共 28 條魚

7 表示

☐ 共有 7 盆

☒ 1 盆有 7 條魚

* 寫完後，別忘了檢查喔！