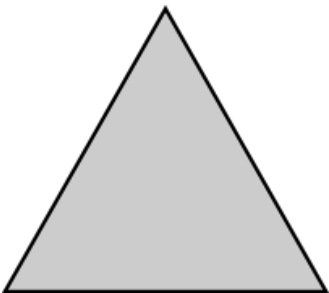


一、填填看看 (每格 2 分，共 28 分)

民國 109 年 7 月							民國 109 年 8 月						
日	一	二	三	四	五	六	日	一	二	三	四	五	六
			1	2	3	4							1
5	6	7	8	9	10	11	2	3	4	5	6	7	8
12	13	14	15	16	17	18	9	10	11	12	13	14	15
19	20	21	22	23	24	25	16	17	18	19	20	21	22
26	27	28	29	30	31		23	24	25	26	27	28	29
							30	31					

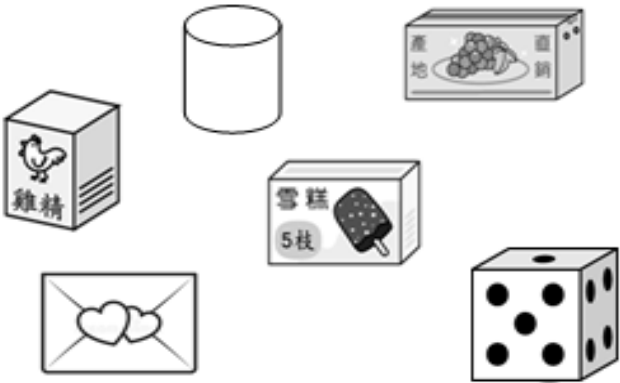
1. 依據上方月曆作答：

- (1)上方左圖是()月份的月曆，有()個星期又()天。
- (2)夏令營從 7 月 20 日開始到 7 月 27 日結束，一共有()天。
- (3)全家從 8 月 3 日出發旅遊 2 個星期，會在()月()日回來。
2. 今年()是民國()年，已知今年()是閏年，2 月有()天。
3. 妹妹已經 1 歲又 4 個月了，她是()個月大。
4. 正方體有()個面，()個頂點，()個邊。每個邊(一樣 / 不一樣)長。
5. 量量看，下方的圖形是()形。

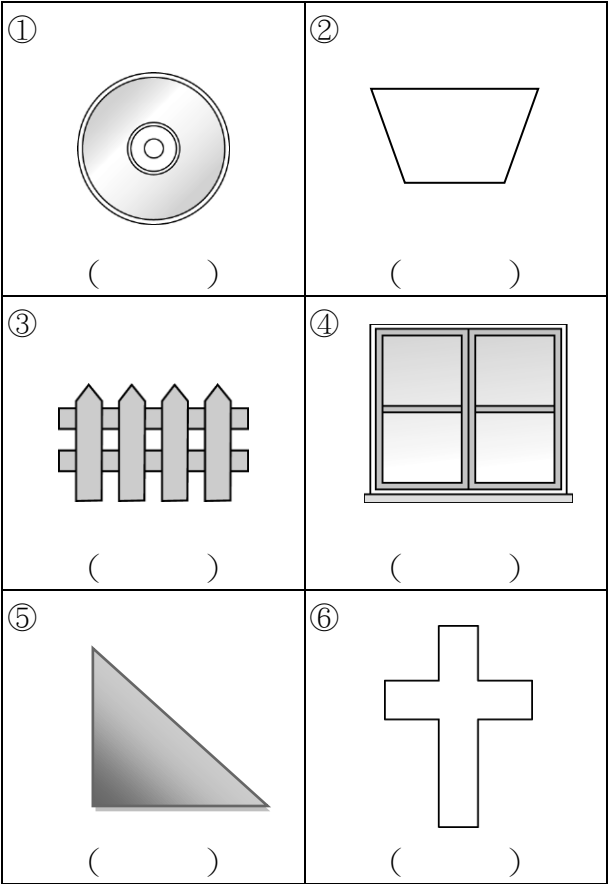


二、做做看看(共 18 分)

1. 將長方體圈起來。(6 分)

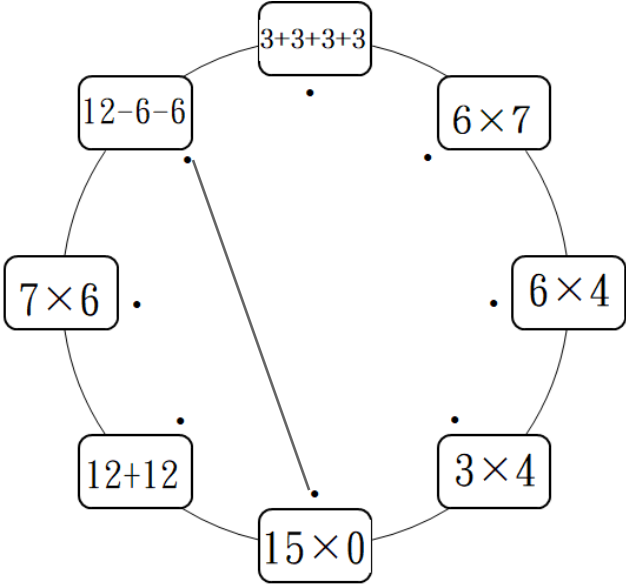


2. 下面圖形中有平行也有垂直現象的打✓，沒有的打✗。(12 分)



三、連連看看 (每線 2 分，共 6 分)

1. 將答案一樣的计算式連起來：



四、分分看看 (每題 4 分，共 16 分)

1. 用有括號的乘法算式做做看

(1) 一盒有 6 個章魚燒，48 個章魚燒可以裝成幾盒？

(2) 有 63 支飛鏢，平分給 7 個人，每人可以得到幾支飛鏢？

2. 用減法算式做做看

(1) 有 32 顆鳥蛋，4 顆串成一支，可以串成幾支？

(2) 媽媽買 18 個戚風蛋糕，每 3 個裝一盒，可以裝成幾盒？

五、先算什麼？再算什麼？

(每題 4 分，共 12 分)

1. 一盒鳳梨酥有 6 塊，爸爸買 6 盒又 3 塊，一共買了多少塊鳳梨酥？


2. 一盒太陽餅原價是 90 元，特價 79 元，買了 3 盒，共便宜幾元？

3. 貢糖有兩種口味，花生口味有 3 包，芝麻口味有 4 包，每包有 8 顆，共有幾顆貢糖？

六、題組挑戰 (每題 4 分，共 20 分)


1. 有兩盒巧克力餅乾，用乘法算式算出各有幾塊巧克力餅乾。

(1) 第一種



$3 \times () = ()$
 $6 \times () = ()$

(2) 第二種



$3 \times () = ()$
 $4 \times () = ()$

(3) 承上題，一塊巧克力餅乾賣 10 元，兩盒巧克力餅乾相差幾元？

2. 有 28 條魚，每 7 條裝 1 盆，剛好全部裝完，共裝了幾盆？

(1) 用有括號的乘法做做看。

(2) 上面算式中，各表示什麼？在□中打✓。

28 表示	7 表示
<input type="checkbox"/> 1 盆有 28 條魚	<input type="checkbox"/> 共有 7 盆
<input type="checkbox"/> 一共 28 條魚	<input type="checkbox"/> 1 盆有 7 條魚

* 寫完後，別忘了檢查喔！