

科目	社會	命題老師	社會領域教師	年級	五年班	座號		姓名		成績		家長簽章	
----	----	------	--------	----	-----	----	--	----	--	----	--	------	--

一、認識臺灣：臺灣是大家生活的家鄉，也是成長的地方，首先便讓我們來認識臺灣在哪裡吧！

(一)關於臺灣地理環境的敘述，請在正確的□中打V，每格1分，共6分

- V

1、臺灣和周邊島嶼總面積約 36000 平方公里。
- ☐

2、澎湖和馬祖是臺灣離中國大陸最近的離島
- ☐

3、臺灣海岸線總長約為 140 公里。
- V

4 高雄港和桃園國際機場是臺灣重要運輸中心
- ☐

5、在世界五大洲三大洋中，臺灣位居歐洲。
- V

6、臺灣是黑面琵鷺重要的度冬地點之一。

(二)觀察臺灣地理位置圖，將正確“名稱”填入〔 〕中，每格2分，共10分



- 鄰國：1、〔 中國大陸 〕 2、〔 日本 〕
- 海洋：3、〔 東海 〕 4、〔 巴士海峽 〕
- 5、〔 太平洋 〕

(三)經緯度可用來標示位置、判斷氣候，請依據下列提示回答問題，每題2分，共14分

- ( 0 )

1、赤道是0度緯線，也是南、北半球的分界線。【是非】
- ( X )

2、通過法國巴黎格林威治天文臺的經線，稱為0度經線。【是非】
- ( 0 )

3、板橋位於北回歸線北方，所以是屬於副熱帶氣候區。【是非】
- ( 3 )

4、好友魯夫想要到四季如夏的熱帶天堂度假，請問你會建議他到下列哪個地方呢？

① 北極地區

② 加拿大

③ 泰國 普吉島

④ 英國 倫敦。

( 4 ) 5、關於地球經緯度，下列敘述何者錯誤？

- ① 每條經線都等長

② 南、北緯各有90度

③ 經線是北極連接到南極的線

④ 緯度愈低，氣候愈寒冷。

( 1 ) 6、臺灣本島大約介於北緯22度至25度、東經120度至122度，如果用英文標示北緯、東經，那麼應該是？

- ① N、E

② S、W

③ N、W

④ S、E。

( 2 ) 7、臺灣在三個地區設有北回歸線標誌，其中不包括下列哪個地區？

- ① 花蓮 瑞穗

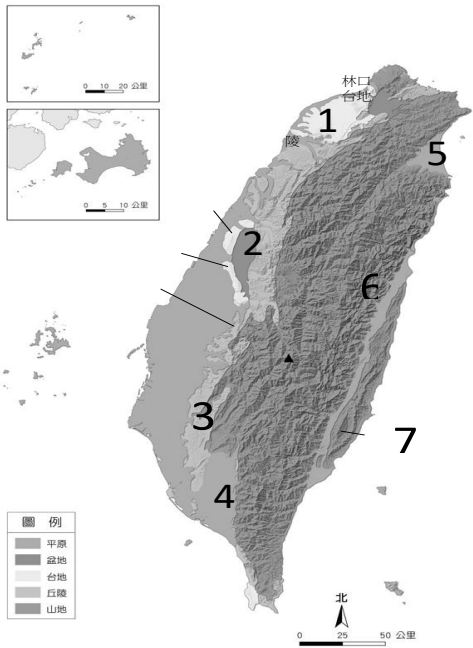
② 臺南 七股

③ 花蓮 豐濱

④ 嘉義 水上

二、遨遊臺灣：臺灣具有各種特殊風貌的自然環境，怎能不遨遊一番呢？接下來讓我們一起探索臺灣優美的自然景觀，以及四季的氣候變化囉！

(一)你知道臺灣島是如何形成嗎？你了解臺灣的五大地形嗎？觀察臺灣島地形圖，並回答下列問題，1~7每格1分，8~10每題2分，共13分



- A. 桃園台地

B. 臺北盆地

C. 新化丘陵

D. 大肚台地

E. 臺中盆地

F. 苗栗丘陵

G. 宜蘭平原

H. 屏東平原

I. 嘉南平原

J. 玉山山脈

K. 海岸山脈

L. 中央山脈

\*請填入正確“代號”

1. ( A ) 台地

2. ( E ) 盆地

3. ( C ) 丘陵

4. ( H ) 平原

5. ( G ) 平原

6. ( L ) 山脈

7. ( K ) 山脈

【背面還有題目喔！請繼續作答】

( 0 ) 8、臺灣島是由歐亞板塊和菲律賓海板塊互相推擠所形成。【是非】

( 4 ) 9、關於臺灣的山地地形，何者敘述有誤？

- ①多分布在島中央及東部 ②五大地形中所占面積最大 ③山脈大致呈南北走向  
③中央山地不包括雪山山脈。

( 2 ) 10、柯南說他的家鄉位於地勢稍高、頂部平坦的地區，根據他的說法，下列哪種地形最有可能？ ①丘陵 ②台地 ③平原 ④盆地。

(二)臺灣由於受到季風及地形的影響，造成豐富多樣的氣候變化，請依序回答下列問題，1~5 勾選每格 1 分，6~8 每題 2 分，共 11 分

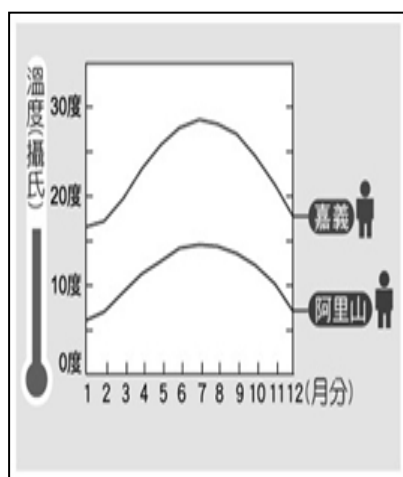
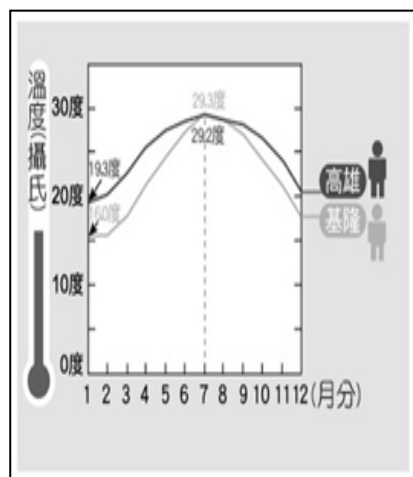
\*臺灣的氣候型態差異大，請將正確的敘述打 V

- V 1、臺灣位於副熱帶與熱帶地區。  
☐ 2、春、秋兩季是主要的颱風季節。  
☐ 3、夏季受到水氣豐沛的東北季風影響。  
☐ 4、冬季受到寒冷多雨的西南季風影響。  
V 5、新竹 新埔的農民利用強風、日照曬柿餅。

( 3 ) 6、蘭嶼的居民發展出地下屋傳統建築，主要是為了什麼原因？ ①防核能災害 ②防地震 ③防風 ④防火。

( 1 ) 7、關於臺灣各地區雨量的氣候特色，下列敘述何者正確？ ①阿里山雨量比嘉義市多 ②基隆平均雨量比高雄少 ③北部夏雨冬乾 ④南部全年有雨。

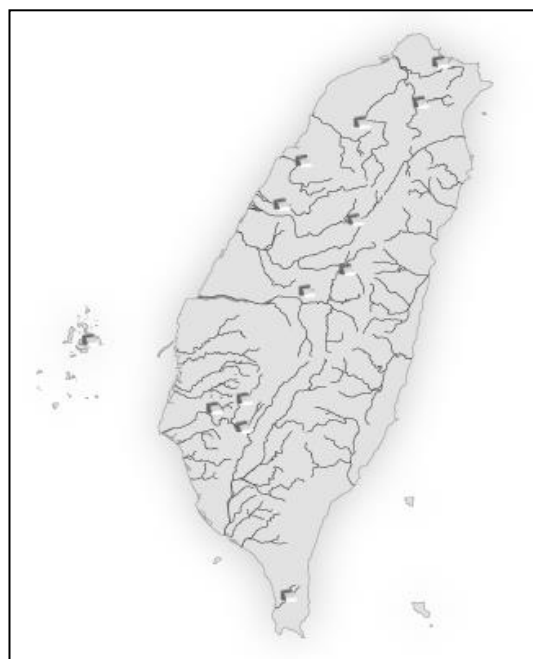
( 3 ) 8、觀察下面兩張月平均氣溫圖，判斷下列選項何者錯誤？ ①夏季除山地外普遍炎熱 ②冬季南部比北部溫暖 ③高雄冬、夏兩季溫差大於基隆 ④阿里山因地勢較高，四季氣溫皆低於嘉義市。



(三)齊柏林導演曾說：「這片土地，是我們的家。當你看見這片土地的美麗與哀愁，才能真正祝福她。」學習尊重土地，讓臺灣的美延續下去 1~10 每格 1 分，11~13 每個答案 2 分，共 18 分

\*下圖是臺灣主要河川及水庫分布圖，請填入正確“代號”

- |                |                 |                |
|----------------|-----------------|----------------|
| ㄅ. <u>曾文水庫</u> | ㄆ. <u>日月潭水庫</u> | ㄇ. <u>翡翠水庫</u> |
| ㄨ. <u>淡水河</u>  | ㄎ. <u>卑南溪</u>   | ㄨ. <u>高屏溪</u>  |
| ㄌ. <u>花蓮溪</u>  | ㄎ. <u>濁水溪</u>   | ㄨ. <u>蘭陽溪</u>  |



- 水庫：  
1. ( ㄇ )  
2. ( ㄅ )  
  
河川：  
3. ( ㄎ )  
4. ( ㄨ )  
5. ( ㄌ )  
6. ( ㄎ )

\*根據臺灣海岸的比較，填入相對應的“代號”

- |                      |
|----------------------|
| ㄅ. 海岸線平直、海底平淺，多沙洲、潟湖 |
| ㄆ. 海水清澈、日照充足，珊瑚礁遍布   |
| ㄨ. 海岸筆直、斷崖連綿，山脈緊鄰海岸  |
| ㄎ. 海岸曲折，多海灣和奇形怪狀岩石   |

7. ( ㄎ ) 東部海岸 8. ( ㄅ ) 西部海岸  
9. ( ㄆ ) 南部海岸 10. ( ㄎ ) 北部海岸

( 4 ) 11、關於臺灣河川特色的描述，下列何者有誤？ ①多發源於中央山地 ②淡水河最後流入臺灣海峽 ③季節流量變化大 ④東部主要河川多流入東海。

( 1 ) 12、臺灣離島景色優美，但形成原因稍有不同，下列哪項說明正確？ ①離島居民除漁業外，近年來也利用海洋資源發展觀光業 ②小琉球是由海底火山噴發形成 ③金門島是由珊瑚礁隆起所形成 ④龜山島是屬於花崗岩島嶼。

【還有第 3 頁~~注意考試時間囉！】



13、今年由於降雨量不足，導致目前多座水庫面臨缺水危機，因此我們更要珍惜水資源，請寫出兩項自己做得到的節約用水方法。

答：(1) 洗澡時用淋浴

(2) 使用省水馬桶

三、生活臺灣：為了讓人與人之間的相處更融洽，社會的發展更和諧、有秩序，所以我們也必須遵守生活中的各種規範喔！

1~14 每題 2 分，共 28 分

\* 三藏、悟空、八戒、悟淨四位好友趁著假日好好聚聚，請從他們的聊天內容中，判斷分別屬於哪一種社會規範，並填入正確“代號”

甲. 法律	乙. 宗教信仰
丙. 倫理道德	丁. 風俗習慣

三藏：「中秋節我們全家團聚，一邊品嚐美味的月餅和柚子，一邊欣賞皎潔的明月。」

悟空：「這學期我們班上轉來一位行動不便的同學，大家都很樂意主動關懷幫助他。」

八戒：「放假時我常會跟隨奶奶，參與宗教團體的慈善活動。」

悟淨：「為了趕去參加國慶煙火晚會，結果老爸開車超速，被警察開了一張罰單。」

1. 三藏：( 丁 )      2. 悟空：( 丙 )

3. 八戒：( 乙 )      4. 悟淨：( 甲 )

( X ) 5、東方人習慣以擁抱、親吻或貼臉頰的方式來打招呼。【是非】

( X ) 6、日本習俗和臺灣差不多，一樣都習慣以紅包袋來裝禮金，表達祝賀之意。【是非】

( 0 ) 7、伊斯蘭教的戒律可蘭經規定信徒每天須禮拜五次，並提倡仁慈與和平。【是非】

( X ) 8、發現有人偷竊同學物品或霸凌同學時，我們應勇於告訴師長。而代替家長自行在試卷上簽名，因為是屬於個人行為，所以沒什麼大不了。【是非】

( 0 ) 9、網路上散布不實言論、公布他人隱私、盜用他人著作，都是屬於違法行為。【是非】

※第 3 頁請繼續作答，並寫上班級、座號、姓名

班級：五年\_\_\_\_班      座號：\_\_\_\_號

姓名：\_\_\_\_\_

( 2 ) 10、根據政府制訂的電影分級處理辦法，各位同學較適合觀賞的影片是 ①輔12級 ②保護級 ③限制級 ④輔15級。

( 1 ) 11、身為一位優良駕駛人，下列何者是錯誤行為？ ①駕駛應繫上安全帶，後座乘客則可不用 ②騎乘機車要戴安全帽 ③禮讓行人，也不可酒駕 ④不可阻擋執行公務的救護車及消防車。

( 3 ) 12、什麼行為雖未構成犯罪，但違反會遭到罰款？ ①胖虎販賣毒品給青少年 ②大雄心情不好隨意縱火 ③小玉深夜高歌妨害他人安寧 ④基德起貪念偷竊他人財物。

( 4 ) 13、請根據下面這兩張圖，判斷與哪兩種社會規範有關？甲、風俗習慣 乙、倫理道德 丙、宗教信仰 丁、法律  
① 甲、乙    ② 丙、丁    ③ 甲、丙  
④ 乙、丁



( 3 ) 14、政府制定法律來維護社會秩序，請問下列哪一項引用不正確？ ①為確保交通安全，制定道路交通管理處罰條例 ②為尊重動物生命，制定動物保護法 ③婚姻關係相關規定，規範於著作權法 ④搶劫行為是觸犯了刑法中的搶奪罪。

【考完一定要再用心檢查~~

盡多少努力~~得多少本事！】