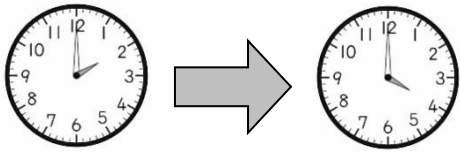


新北市 板橋區 莒光國民小學 109 學年度 第一學期 第一次定期評量試題												
科目	數學	命題老師	領域小組	年級	二年	班	座號		姓名		成績	家長簽章

一、填填看看：30 分 (1 答 1 分)

1. (70) → 80 → 90 → (100) → 110 → (120)
2. (152) → 154 → 156 → (158) → 160 → (162)
3. 在  裡填入 +、- 的符號。
- (1) 38  25 = 13
- (2) 8  33 = 41
4. 「一百三十八」記作 (136)。
5. 170 是 (1) 個百、(7) 個十和 (0) 個一合起來的。
6. 桌上有 116 顆糖果，拿走 1 顆，剩下 (115) 顆；再拿走 10 顆，還剩下 (105) 顆。
7. 老師買一個 109 元的蛋糕，最少要付 (11) 個 10 元。
8. 「118」讀作 (一百一十八)。
9. 時針走一大格，是走了 (60) 分鐘，也可以說是 (1) 小時。
10. 觀察右圖， 圖面積和  圖 (7) 個  一樣大， 圖面積和 (8) 個  一樣大，哪一個圖形的面積比較大？(  圖， 圖 )。
11. 爸爸下午去運動，請問爸爸運動了多久時間？



分針轉了 (2) 圈，時針從 (2) 走到 (4)，共走了 (2) 大格，是運動了 (2) 小時。

12. 在  裡填入 <、> 或 = 的符號。
- (1) 178  187 (3) 130  103
- (2) 124  104 (4) 191  119

二、選擇題：6 分 (1 題 2 分)

1. (1) 八點半的時候，鐘面上幾分針會指在哪裡？①6 ②10 ③12 ④30。
2. (4) 10 顆軟糖裝成一包，10 包裝成一盒，那麼一盒又 4 包一共有多少顆軟糖？①14 顆 ②64 顆 ③104 顆 ④140 顆。
3. (3) 75 + 28 = ， 的個位數數字是多多少？①1 ②2 ③3 ④0。

三、動動腦，做做看看：15 分 (1 答 2 分)

1. 從黑點開始，畫一條比 4 公分長，又比 7 公分短的直線。
2. 奶奶買了一瓶 197 元的果汁，要怎麼付錢才會剛剛好？圈出圖看。
3. 一枝鉛筆和 5 個橡皮擦一樣長，也和 7 個迴紋針一樣長。請圈出哪個比較長？(橡皮擦，迴紋針)。
4. 圈出 106 枝筆。
5. 圈出下圖時鐘上現在的時分是：



ㄅ. 10:30

ㄆ. 6 時 50 分

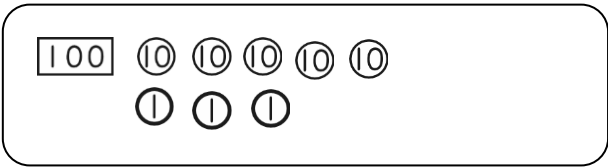
ㄇ. 11:07

ㄏ. 7 時 50 分

6. 哪一種顏色面積比較大？把它圈起來 (白色，灰色)。
- ★★ 請翻背面寫第 2 頁，加油！

7. 用 100、10、1 畫畫看看。(3 分)

153 元



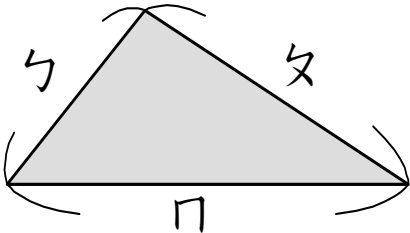
四、計算題，用直式計算看看：6 分

1. $38 + 65 = ( \quad 103 \quad )$	2. $9 + 15 = ( \quad 24 \quad )$
------------------------------------	----------------------------------

五、用直式計算看看，並驗算：5 分

1. $74 - 49 = ( \quad 25 \quad )$	驗算：
-----------------------------------	-----

六、量量看看，各是多長？6 分(1 答 2 分)



- (1) ㄅ 大約長 ( 3 ) 公分。
- (2) ㄆ 大約長 ( 4 ) 公分。
- (3) ㄇ 大約長 ( 5 ) 公分。

七、寫寫看看：12 分(1.(1)-(3)2 分；2.3. 1 分)

1. 請把鐘面上面的時間寫在 裡。

(1)

10:10

(2)

4:28

(3)

11:56

2. 現在是上午，再過 2 小時遊樂園就開始營業，遊樂園開始營業的時間是上午 ( 10 ) 時 ( 0 ) 分。

3. 按照面積的大小，由小到大的順序，寫上 1、2、3、4。

( 2 ) 一張借書證	( 3 ) 數學課本封面
( 4 ) 教室的黑板	( 1 ) 一個 50 元硬幣

八、寫出做法和答案：20 分(1 題 4 分)

1. 風雨操場上女生有 8 人，男生有 52 人，風雨操場上一共有多少人？  
 $8+52=60$

答：60 人

2. 姐姐原有 80 張貼紙，送給同學 59 張貼紙後，姐姐還剩下幾張貼紙？  
 $80-59=21$

答：21 張

3. 老師發給 78 個小朋友，一個小朋友發 1 條，跳繩還多 33 條，老師原來有幾條跳繩？  
 $78+33=111$

答：111 條

4. 一盒糖果 86 元，一盒餅乾比一盒糖果貴 47 元，一盒餅乾多少元？  
 $86+47=133$

答：133 元

5. 在 49、81、50、96 這四個數中，最大和最小的數相差多少？  
 $96-49=47$

答：47

★ ★ 小叮嚀：記得寫單位和檢查哦！