

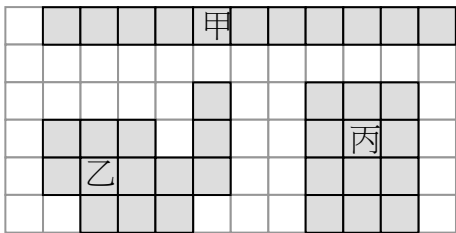
新北市板橋區莒光國民小學 110 學年度第一學期第二次定期評量試題														
科目	數學	命題老師	數學領域教師	年級	二年	班	座號		姓名		成績		家長簽章	

一、選擇題(12%)

- (3)小光原有 23 張摸彩券，上午得到 7 張，下午又得到 4 張，小光現在共有多少張摸彩券？
 ① 30 張 ② 11 張 ③ 34 張
- (1)爸爸的衣-服比媽媽的衣-服大，小字的衣-服比媽媽的小，誰的衣-服最小？
 ① 小字 ② 媽媽 ③ 爸爸
- (3) $6 \times 9 = 54$ 算式中，哪一個數字是積？ ① 6 ② 9 ③ 54
- (2) 8×7 的意思是代表 ① 8 加 7 ② 8 的 7 倍 ③ 7 的 8 倍。
- (2)媽媽看電影從下午 3 時看到下午 5 時，媽媽看電影花了幾小時？
 ① 1 小時 ② 2 小時 ③ 3 小時
- (2)小莒上午 8 點多出門，鐘面上針是在哪兩個數字之間？
 ① 1 和 12 ② 8 和 9 ③ 7 和 8

二、填填看(26%)

1. 數一數，比一比。



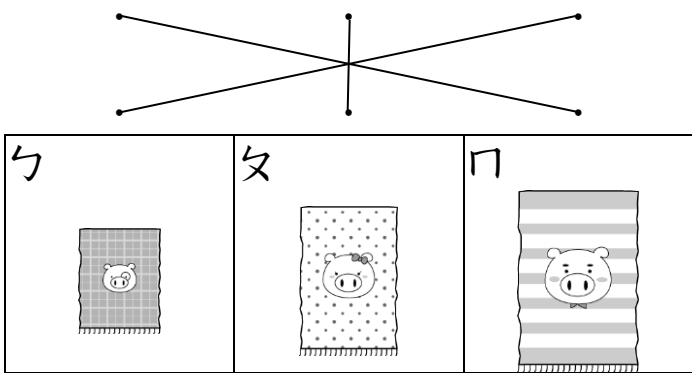
- 將上面圖形的面由小到大依序填入代號：
 (甲) < (丙) < (乙)
- 乙圖和 (13) 個格子一樣大。
- 丙圖比甲圖多 (1) 個格子。

- 時針走 1 大格是 60 分鐘，也可以說是 (1) 小時。
- 現在是下午 4 時，2 小時前是下午 (2) 時。
- 媽媽從下午 5 時開始煮晚餐，煮好晚餐時，分針正好走了 7 大格。
 (1) 媽媽花了 (35) 分鐘煮晚餐。
 (2) 媽媽煮好晚餐的時間是下午 (5) 時 (35) 分。
- 9 的 2 倍比 9 的 9 倍少 (63)。
- 2×7 比 2×4 多 (3) 個 2，是多 (6)。

三、連連看(6%)

1. 奇奇的毛巾比美美的短，美美的毛巾比多多的小，請幫他們找到自己的毛巾。





- | | | |
|------|------|------|
| ① 多多 | ② 美美 | ③ 奇奇 |
|------|------|------|



四、正確的打√。(8%)

- 哪些是表示 $6 + 6 + 6 + 6$?
 () (1) 4×6 (√) (2) 6 有 4 個
 (√) (3) 6×4 () (4) 4 有 6 個
- 哪些是表示 5 的 3 倍？
 () (1) $5 + 3$ (√) (2) $5 + 5 + 5$
 (√) (3) 5×3 () (4) $3 + 3 + 3 + 3 + 3$

五、寫出鐘面上表示的時刻。(8%)

1.  (8)時(30)分	2.  (10)時(6)分
3.  (11)時(57)分	4.  (1)時(19)分

六、寫出乘法算式和答案。(20%)

1. 哥哥有 6 袋糖果，每一袋有 7 顆，哥哥共有幾顆糖果？

$$7 \times 6 = 42$$

答：(42)顆

2. 妹妹做一串手鍊要 2 小時，從上午 8 時開始連續做 4 串，共要幾小時？

$$2 \times 4 = 8$$

答：(8) 小時

3. 一串花枝有 3 顆，媽媽買了 5 串，一共共有幾顆花枝？

$$3 \times 5 = 15$$

答：(15)顆

4. 老師將鉛筆分給 8 個人，分完後每個人都拿到 6 枝鉛筆，老師本來有多少枝鉛筆？

$$6 \times 8 = 48$$

答：(48) 枝

5. 1 組氣球有 4 顆，小茗今天賣掉 7 組，他今天共賣掉幾顆氣球？

$$4 \times 7 = 28$$

答：(28)顆

七、先算什麼？再算什麼？做一看。(20%)

1. 箱子裡有 34 顆球，其中有 16 顆紅球，藍球有 9 顆，剩下的都是黃球，黃球有幾顆？

先算： $34 - 16 = 18$

再算： $18 - 9 = 9$

答：(9)顆

2. 小光有 47 元，姐姐有 27 元，兩人合買一包 56 元的色紙，後，還剩下多少元？

先算： $47 + 27 = 74$

再算： $74 - 56 = 18$

答：(18)元

3. 農場有 23 隻綿羊，綿羊比山羊多 18 隻，農場中的綿羊和山羊共共有幾隻？

先算： $23 - 18 = 5$

再算： $23 + 5 = 28$

答：(28)隻

4. 一個水壺可以倒滿 20 個杯子，3 個相同的水壺可以倒滿多少個杯子？

先算： $20 + 20 = 40$

再算： $40 + 20 = 60$

答：(60)個

★寫完考卷記得要檢查呵！