

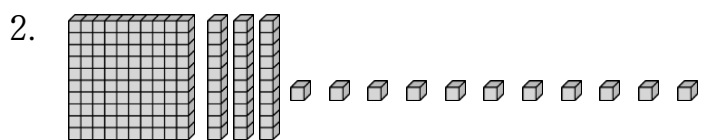
新北市板橋區莒光國民小學 110 學年度第一學期第一次定期評量試題												
科目	數學	命題老師	數學領域教師	年級	二年	班	座號		姓名		成績	家長簽章

一、填填看看(1-3題每格1分，其餘2分，共35分)

1. 按照數的順序填填看看

(1) (108) → 109 → (110) → (111) → 112 → 113

(2) 175 → (165) → 155 → 145 → (135)



上圖的積木是(1)個百、(4)個十和(1)個一，合起來是(141)，讀作(一百四十一)(2分)。

3. 173 的十位數字是(7)，表示有(7)個十。

4. 在□內填填入<、>或=

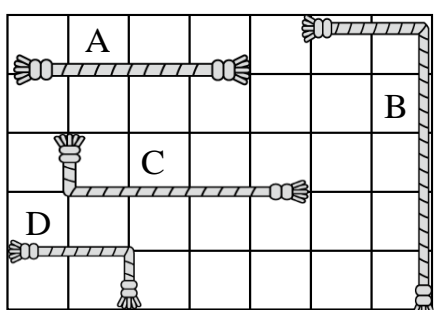
(1) $55 - 33 < 11 + 22$

(2) $171 > 117$

(3) $94 < 149$

(4) $60 + 6 = 66$

5. 一格邊的長是1公分，看圖回答下列問題。



(1) 按照繩子的長度從最長排到最短順序是：

(B)繩 → (C)繩 → (A)繩 → (D)繩。

(2) 最長的繩子和最短的繩子相差(4)公分。

(3) (A)繩和(D)繩合起來和B繩一樣長。

二、寫成直式算算看看(每題3分，驗算2分，共16分)

1. $51 + 28 = (79)$

2. $60 - 32 = (28)$

3. $77 - 5 = (72)$

驗算：

4. $46 - 27 = (19)$

驗算：

三、勾選題(1-3題每格1分，其餘2分，共22分)

1. 下列哪些物品是容器，在()中打✓。

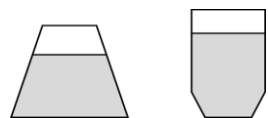
(1)	(2)	(3)
(✓)	(✓)	()
(4)	(5)	(6)
()	(✓)	(✓)

2. 阿光將兩瓶容量600毫升的瓶裝汽水分別倒入勺、叉兩個容器，如下圖所示，哪個容器裡的汽水比較多？

(1) ☐ 勺 容器

(2) ☐ 叉 容器

(3) ☒ 一樣多



勺 叉

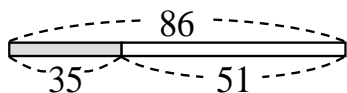
3. 根據下面的線段圖，哪些算式

是^ハ對^{カヘ}的^{カセ}，請^ク在^ハ ☐ 中^ナ打^カ✓。

(1) $35 + 86 = 51$

(2) ✓ $51 + 35 = 86$

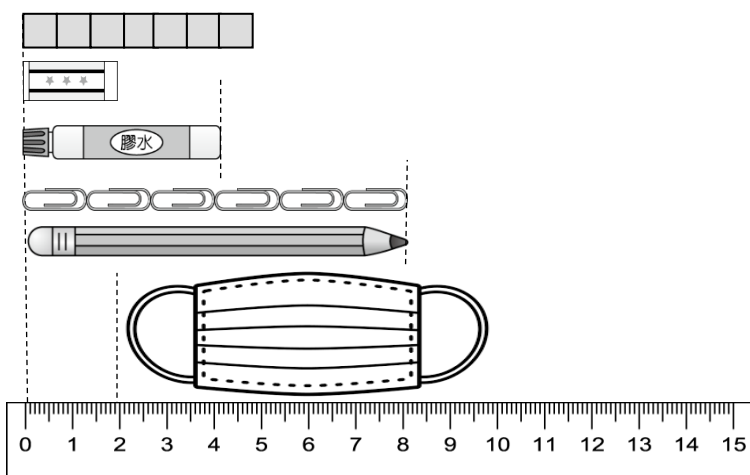
(3) ✓ $86 - 51 = 35$



4. 下列敘述是正確的，請在 ☐ 中

打^{勿_Y}

✓ ○



(1) □ 口罩罩的長度是 10 公分。

(2) ✓ 膠水的長度大約是4公分。

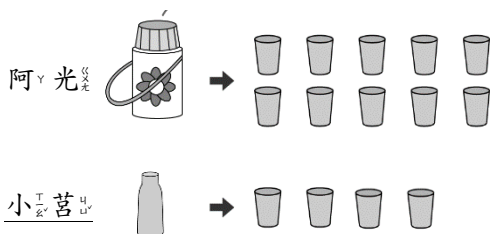
(3) ✓ 鉛筆的長度和6個一樣長

(4) ☒ 橡^ラ皮^カ擦^チ的^ノ長^サ度^ハ是^レ2公^シ分^ミ。

(5) 膠水的長度和 7 個 一樣長。

四、做_て做_て看_る((1)-(3)題_ち每_ひ答_か1分_ち， 第_ご(4)
題_ち2分_ち， 共_共7分_ち)

1. 阿^ㄚ 光^{ㄍㄨㄤ} 和 小^{ㄒㄧㄠˇ} 茗^{ㄇㄩㄥˊ} 的 水^{ㄕㄨㄟ} 壺^{ㄏㄨ} 裝 滿^{ㄇㄢˋ} 水^{ㄕㄨㄟ} , 分
別 倒^{ㄉㄠˋ} 入 四^{ㄙㄩˋ} 大 小^{ㄒㄧㄠˇ} 相 同^{ㄊㄨㄥˊ} 的 杯^{ㄅㄞ} 子^ㄗ 中 。^{ㄓㄨㄥˊ}



(1)  可^う以^で倒^か滿^み (4) 個^こ杯^{はい}子^こ。

(2)  可^カ以^イ倒^カ滿^{マン} (10) 個^コ杯^{ハイ}子^子。

(3) (阿^ア光^{クワウ})， 小^コ 茗^{メイ} 苳^{ソウ}) 的^カ 水^{スイ} 壺^コ 裝^{サウ} 得^デ 比^ヒ 較^{コウ}
多^タ， 多^タ (6) 個^{コウ} 杯^{ハイ} 子^ジ。

(4) 阿光的水壺高28公分，小茗的水壺比他的矮9公分，小茗的水壺高（19）公分（2分）。

五^{xv}、先^ト記^レ録^カ問^タ題^ト，再^ハ算^ム算^ム看^マ。

(每題 4 分，共 20 分)

1. 一盒 50 入的平面口罩單賣 99 元，
媽媽買兩盒口罩單需付多少元？

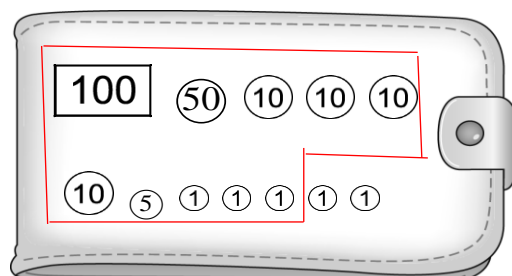
$$99 + 99 = 198$$

答_カ：(198)元_リ

2. 接上題，媽媽的錢包裡有 (200)

元^は， 她^た 要^い 怎^ん 麼^や 付^け 錢^{せん} 才^さ 會^え 剛^た 好^い? 圈^{くわ}

圈^{くわ} 看^{かん}。



3. 阿_ア 光_{ミツ} 班_ハ 上_ウ 同_{ドウ} 意_イ 在_在 校_{ガウ} 施_シ 打_ダ 流_{リウ} 感_{カン} 疫_{エキ}

苗的有26個人，全班有31個人，

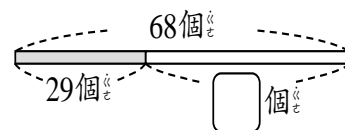
不_{ㄉㄨˋ}同_{ㄊㄨㄥˊ}意_{ㄧˋ}在_{ㄗㄞˋ}校_{ㄒㄧㄠˋ}施_{ㄕㄞˊ}打_{ㄉㄚˊ}流_{ㄌㄧㄡˊ}感_{ㄍǎㄣˊ}疫_{ㄩˋ}苗_{ㄇㄧㄠˊ}的_{ㄉㄜˊ}有_{ㄩˋ}幾_{ㄐㄩㄟˊ}個_{ㄍㄜˊ}人_{ㄖㄣˊ}？

$$31 - 26 = 5$$

答_カ：(5) 個_こ人_{ひと}

4. 阿光 家 裡 目 前 庫 存 29 個 黃 色 口 罩 和 一 些 藍 色 口 罩 , 合 起 來 有 68 個 , 阿 光 家 有 幾 個 藍 色 口 罩 ?

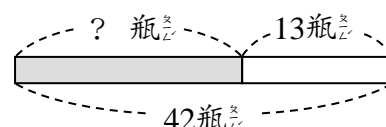
$$29 + (39) = 68$$



答^カ：(39)個^こ

5. 藥局原有 42 瓶酒精，賣出一些後，剩下 13 瓶。藥局賣出幾瓶酒精？

$$42 - (29) = 13$$



答^カ：(29)瓶^{ビン}

※ 寫完_了，請_再仔_細檢_查。

※ 寫^ㄩ完^ㄌ了^ㄌ，請^ㄘ再^ㄘ仔^ㄘ細^ㄘ、檢^ㄘ查^ㄘ。