

新北市板橋區莒光國民小學 110 學年度第一學期第一次定期評量試題												
科目	社會	命題老師	社會領域	年級	四年	班	座號	姓名	成績	家長簽章		

一、是非題：(每題 1 分，共 20 分)

- () 早期家鄉發展的過程中，人們會選擇取水容易、適合耕種、交通方便的地方定居。
- () 早期漢人為了與原住民族共同拓墾，因此雙方在臺中 大里建立聚落。
- () 有些依據當時自然環境特徵而命名的地名，永遠都不會改變。
- () 打狗文史再興會社木工班的學員，以自己的雙手協助整修家鄉的老建築，用行動表現愛家鄉的精神。
- () 閱讀地圖可以發現家鄉未來的樣貌。
- () 我們可以從地圖上了解家鄉地形、河流、聚落、古蹟與道路的分布。
- () 小光開車迷路了，這時候他必須先找到地圖上的比例尺來找出正確的方位。
- () 測量地圖上任意兩點的實際距離時，可使用圓規或細繩，來當作輔助工具。
- () 茶樹適合生長在平緩的山坡地上，而茶葉又是經濟價值高的作物，因此我們應該把山坡地全部用來種植茶樹。
- () 政府為了落實生態保育，將部分坡度較大的山地規畫為林地或是自然保護區。
- () 只要觀測家鄉某個月每天的溫度，就能知道今年全部 12 個月分的月均溫。
- () 臺灣的降雨量十分充沛，所以不會造成缺水問題。
- () 蘭嶼 雅美族的傳統住屋半穴居，是適應當地多強風的氣候特色而發展出來的。
- () 嘉南大圳主要提供沿海地區牡蠣養殖業所需要的水源。
- () 愛好生態攝影的民眾可以到曾文溪口北岸拍攝黑面琵鷺覓食的情景。
- () 看見路旁的水管破裂時，要趕緊通報相關單位處理，以免造成水資源的浪費。
- () 從古地圖可以判斷當時的地貌，得知先民的生活環境。
- () 參觀地方文史工作室，可以了解在地歷史及文物。
- () 歷史建築遇到老舊荒廢時，我們不需要維護整理，應該趕快拆除。
- () 三角湧是現今新北市 三峽區的舊地名，是一個建立在河岸邊的聚落。

二、選擇題：(每題 2 分，共 32 分)

- () 在臺南長大的白白，每到假日總喜歡到外地旅遊，他今年暑假就到澎湖遊玩一星期，上個月騎單車到屏東度假，前幾天還到嘉義享受鄉村生活。請問什麼地方是他的故鄉呢？①嘉義 ②屏東 ③澎湖 ④臺南。
- () 現在有個地方，要根據當地自然景觀來命名，請你判斷一下，下面哪一個命名較合理？①民生社區 ②復興鄉 ③白沙鄉 ④文化里。

- () 關於地圖的敘述，哪一項錯誤？①有各式各樣的類別②因使用者的需求不同而繪製③憑自己的想像力繪製④是一種具有功用的圖畫。
- () 許多外國觀光客對臺灣的山地景觀十分嚮往，請問山地認定的標準是以高度多少為分界？①500 公分②600 公尺③1000 公分④1000 公尺。
- () 什麼是地形？①地表高低起伏的狀態與形狀特徵②地底下的情形③就是平原的一種④我們常去一個地方的情形。
- () 關於地形的說法，下列哪一項錯誤？①每個地方的地形都各有差異②大自然的各種現象並不會對地形造成影響③不同地形會影響人們的生活④觀察家鄉的地形可以更了解我們生活的環境。
- () 下面哪項敘述是在描述「長時間的天氣平均狀態」？①夏季是主要的雨季②這週受到颱風外圍環流的影響，各地都會降雨③預測颱風明日登陸④今日晴時多雲。
- () 下列哪種現象可以說明天氣影響人們的生活？①地震造成房屋損壞②工廠排放汙水，汙染水源③平緩的山坡地適合種植果樹④颱風來襲，造成低窪地區淹水。
- () 臺灣的建築物大多有騎樓，請問這是受到下面哪一個氣候因素的影響？①全年高溫②多雨③冬暖夏涼④常有颱風。
- () 每到冬季，養殖漁業的漁民最害怕遇到下面哪一種氣候狀況？①颱風侵襲②霧太大③寒流來襲④雨水太多。
- () 日常生活中，可以如何節約用水？①選購有省水標章的商品②收集廢水澆花③關緊水龍頭④以上皆是。
- () 以下敘述何者正確？①保護家鄉水資源是政府責任②過度抽取地下水不會造成任何環境問題③輸水管線老舊破損，造成電力資源浪費④潮間帶除了擁有特殊的海岸景觀，紅樹林更是保護了家鄉海岸。
- () 「透早就出門，天色漸漸光，受苦無人知，行到田中央…」從歌謠中，我們可以知道什麼？①開發土地的歷程②先民的智慧③農夫工作辛苦④居民對神明的崇拜。
- () 大明曾在去年去過臺灣望族辜家以前招待貴賓的居所參觀，請問他應該是去哪一個地方參觀？①臺東 卑南遺址公園 ②彰化 鹿港民俗文物館 ③臺南 西拉雅文化會館 ④臺南 赤嵌樓。
- () 下列哪一種信仰方式象徵祖靈崇拜？①崇拜三山國王 ②信奉耶穌 ③西拉雅族 將壺、罐裝入清水，插上草葉 ④信仰媽祖。

16. ()私塾、書院、巴拉冠，這三個地方有什麼共通處？①原住民族打獵的地方②先民接受教育的地方③政府臨時辦公的地點④漢人玩樂的地方。

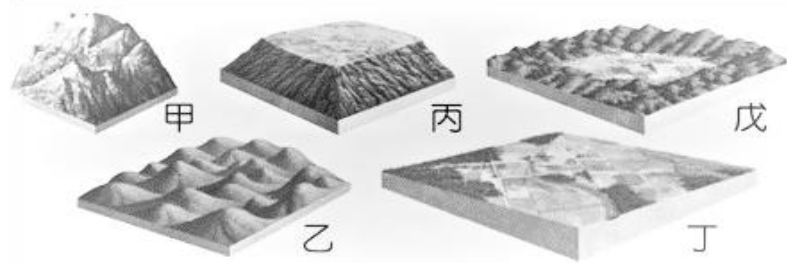
三、填入正確的代號：(共 16 分)





1. 下列地名，以「自然環境」命名的請填 A，以「人文特徵」命名的請填 B。（每題 1 分）

- (1) () 宜蘭縣頭城鎮 (5) () 臺東縣池上鄉
(2) () 屏東縣恆春鎮 (6) () 澎湖縣馬公市
(3) () 雲林縣莿桐鄉 (7) () 桃園市觀音區
(4) () 臺中市社口區 (8) () 臺北市六張犁

2. 依照地形景觀特徵，填入地形圖示代號，並連到正確的地形名稱。(每格、每條各1分)

地形圖示：



地形景觀特徵	地形圖示	名稱
四周高、中間低的地區		• 山地
坡與谷的起伏變化較小		• 臺地
邊緣為陡坡的平坦高地		• 丘陵
高低落差較大的坡地		• 盆地

四、勾選題：(每題1分，共5分)

下列有關家鄉開發故事的描述，請將正確的打「✓」。

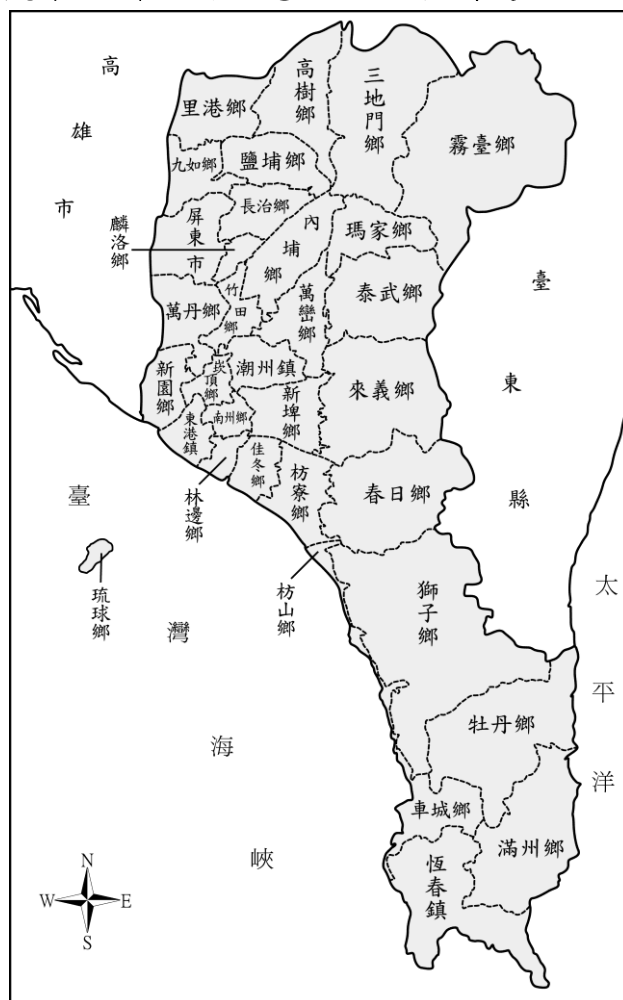
- () (1) 早期原住民生活方式是耕種、採集、捕魚、打獵。
- () (2) 興築水利設施可以增加耕地面積及提高農作物產量。
- () (3) 漢人渡海來臺後，大多過著以買賣、做生意為主的生活。
- () (4) 市街發展的原因主要是交通便利、人口聚集與買賣興盛。
- () (5) 在開發過程中最容易產生的衝突是：水源與土地。

五、連連看：(每條1分，共6分)

有關早期家鄉文物的功能，請你將與其相關的敘述連起來。

- | | |
|--------|-----------------|
| (1)風鼓・ | ・為了防禦敵人，用來射擊的孔洞 |
| (2)銃眼・ | ・去除稻米中的雜質 |
| (3)石磨・ | ・象徵使用者能夠同心協力 |
| (4)連杯・ | ・裝盛漁獲的竹編容器 |
| (5)魚簍・ | ・看出早期人們的生活方式 |
| (6)圖畫・ | ・將穀物豆類磨成粉 |

六、 題組題：(除特別標示以外，每題 2 分，共 13 分)
仔細觀察地圖裡的訊息，並回答問題。



- (1) 出產「豬腳」的萬巒鄉是在海邊嗎？()。
- (2) ()屏東縣唯一四面環海的鄉鎮市是哪一個？①琉球鄉②林邊鄉③恆春鎮④新園鄉。
- (3) ()下列哪個鄉鎮市沒有與萬巒鄉相鄰？
①內埔鄉②瑪家鄉③潮州鎮④春日鄉。
- (4) ()下列這些鄉鎮市哪一個不在海邊？
①林邊鄉②三地門鄉③枋_{ㄈㄤ}山鄉④東港鎮。
- (5) ()位於屏東縣最南端的鄉鎮市是哪一個？①牡丹鄉②車城鄉③恆春鎮④滿州鄉。
- (6) 從這張地圖中可以算出屏東市到恆春鎮的距離嗎？()。(1分)
因為：()。

七、閱讀題：(每題2分，共8分)

很久以前，原住民族在大甲溪的南岸開墾，有個漢人渡海來臺，以草藥醫治得到瘟疫的病患，而獲得原住民族的信賴，於是頭目將女兒嫁給他，並且他還被清朝政府任命為「通事」。

後來原住民族缺錢開發水源，作物收穫不佳，當時頭目與這位漢人訂定協議，開鑿水利工程，才獲得使用灌溉用水的權利。

- (1) () 短文中的原住民族是指哪一族？
①西拉雅族②卑南族③巴宰族④泰雅族。
- (2) () 短文中的漢人是下列哪一個人？
①施世榜②張達京③陳永華④吳沙。
- (3) () 雖然原住民族最後取得灌溉用水的權利，卻因為什麼不平等的約定方式造成族人生存空間縮小？①捐血換水②免費勞力換水③割地換水④草藥換水。
- (4) () 這個水利工程的名稱是？①嘉南大圳
②曾文水庫③烏山頭水庫④葫蘆墩圳。