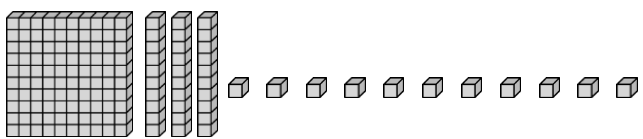
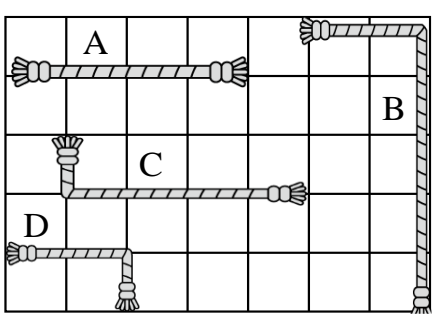


新北市板橋區莒光國民小學 110 學年度第一學期第一次定期評量試題												
科目	數學	命題老師	數學領域教師	年級	二年	班	座號		姓名		成績	家長簽章

一、填填看看(1-3題每格1分，其餘2分，共35分)

- 按照數的順序填填看看
 - $(\quad) \rightarrow 109 \rightarrow (\quad) \rightarrow (\quad) \rightarrow 112 \rightarrow 113$
 - $175 \rightarrow (\quad) \rightarrow 155 \rightarrow 145 \rightarrow (\quad)$
- 

上圖的積木是()個百、()個十和()個一，合起來是()，讀作() (2分)。
- 173 的十位數字是()，表示有()個十。
- 在 \square 內填填 $<$ 、 $>$ 或 $=$
 - $55 - 33 \square 11 + 22$
 - $171 \square 117$
 - $94 \square 149$
 - $60 + 6 \square 66$
- 一格邊的長是 1 公分，看圖回答下列問題。



- 按照繩子的長度從最長排到最短順序是：

()繩 \rightarrow ()繩 \rightarrow ()繩 \rightarrow ()繩。
- 最長的繩子和最短的繩子相差()公分。
- ()繩和()繩合起來和 B 繩一樣長。

二、寫成直式算算看看(每題3分，驗算2分，共16分)







- $51 + 28 = (\quad)$
 $60 - 32 = (\quad)$
- $77 - 5 = (\quad)$

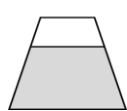

驗算：
- $46 - 27 = (\quad)$

驗算：

三、勾選題(1-3題每格1分，其餘2分，共22分)

- 下列哪些物品是容器，在()中打 \checkmark 。

(1)  ()	(2)  ()	(3)  ()
(4)  ()	(5)  ()	(6)  ()
- 阿光將兩瓶容量 600 毫升的瓶裝汽水分別倒入 \cup 、 \times 兩個容器中，如下圖所示，哪個容器裡的汽水比較多？

(1) <input type="checkbox"/> \cup 容器	 
(2) <input type="checkbox"/> \times 容器	
(3) <input type="checkbox"/> 一樣多	

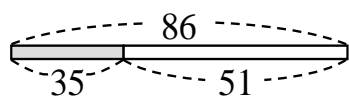
3.根據下面線段圖，哪些算式是

對的，請在□中打✓。

(1) ☐ $35 + 86 = 51$

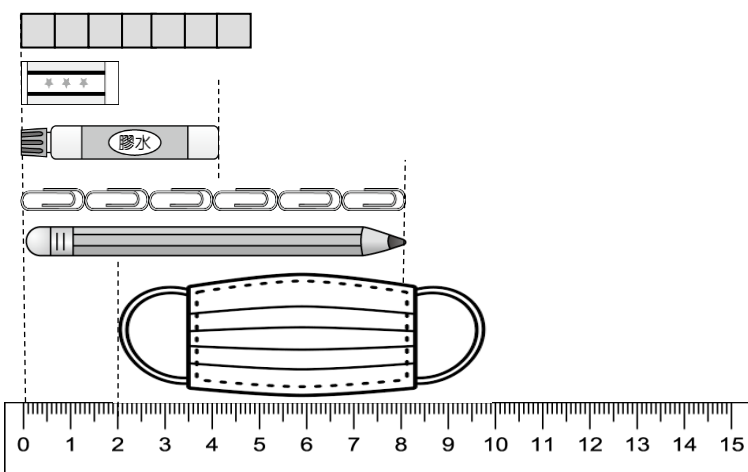
(2) ☐ $51 + 35 = 86$

(3) ☐ $86 - 51 = 35$



4.下列敘述是正確的，請在□中打✓。

✓。



(1) ☐ 口罩的長度是10公分。

(2) ☐ 膠水的長度大約是4公分。

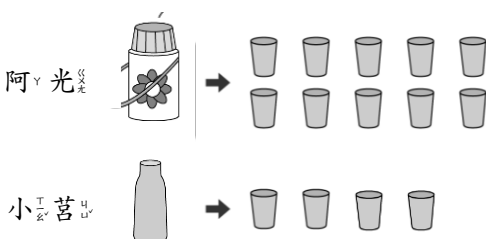
(3) ☐ 鉛筆的長度和6個一樣長。

(4) ☐ 橡皮擦的長度是2公分。

(5) ☐ 膠水的長度和7個一樣長。

四、做做看看(1)-(3)題每答1分，第(4)題2分，共7分)

1.阿光和小苔的水壺裝滿水，分別倒入大小相同的杯子中。



(1) 可以倒滿 () 個杯子。

(2) 可以倒滿 () 個杯子。

(3) (阿光，小苔) 的水壺裝得比較多，多 () 個杯子。

(4) 阿光的水壺高28公分，小苔的水壺比他矮9公分，小苔的水壺高 () 公分(2分)。

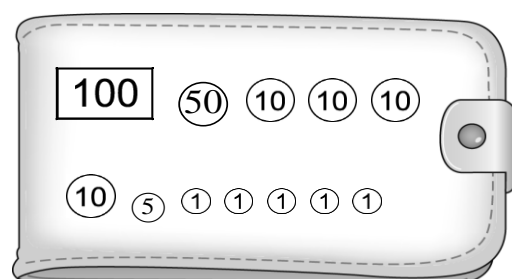
五、先記錄問題，再算算看看

(每題4分，共20分)

1.一盒50入的平面口罩賣99元，媽媽買兩盒口罩需付多少元？

答：()元

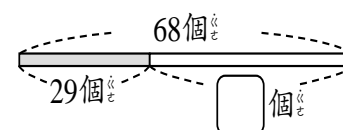
2.接上題，媽媽的錢包裡有()元，她要怎麼付錢才會剛好？圈看看。



3.阿光班上同意在校施打流感疫苗的人有26個，全班有31個，不同意在校施打流感疫苗的人有幾個？

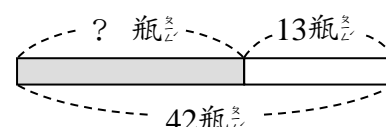
答：() 個

4.阿光家裡目前庫存29個黃色口罩和一些藍色口罩，合起來有68個，阿光家有幾個藍色口罩？



答：()個

5.藥局原有42瓶酒精，賣出一些後，剩下13瓶。藥局賣出幾瓶酒精？



答：()瓶

※ 寫完了，請再仔細檢查。