

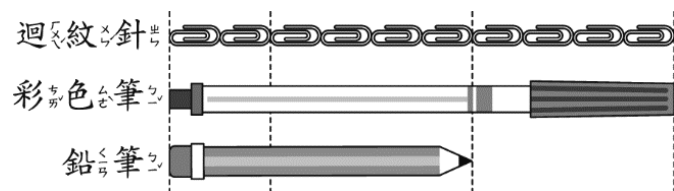
新北市板橋區莒光國民小學 110 學年度第二學期第一次定期評量試題											
科目	數學	命題老師	數學領域	年級	一年 班	座號		姓名		成績	家長簽章

一、選出正確的答案 (10%)

- (2) $2+9=11$ 算式中「加數」是哪個數字？ ①2 ②9 ③11
- (3) 姐姐上午吃了 6 顆草莓，下午吃了 7 顆草莓；弟弟上午吃了 7 顆草莓，下午吃了 6 顆草莓，誰吃的比較多？
①姐姐 ②弟弟 ③一樣多
- (2) 哥哥排隊買文具，排在第 36 個，排在他後面的人第 5 個是第幾個？
①第 31 個 ②第 41 個 ③第 39 個
- (3) 下面哪一個圖形是由 4 個三角形排成的？

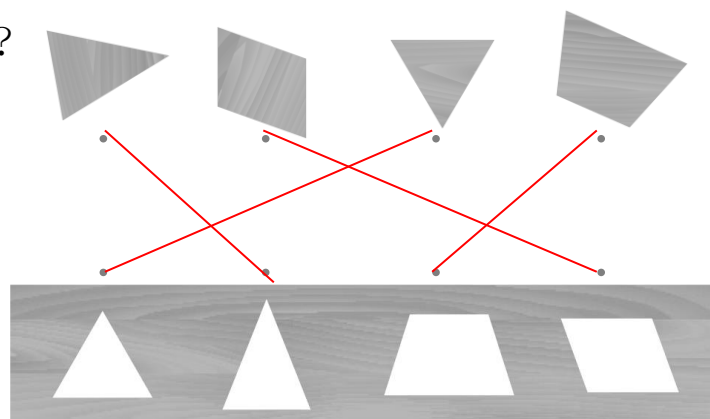


- (3) 一枝鉛筆和幾個迴紋針一樣長呢？ ①2 個 ②4 個 ③6 個



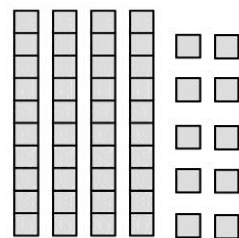
二、連連看 (8%)

這些圖形板剛好可以放在哪裡呢？

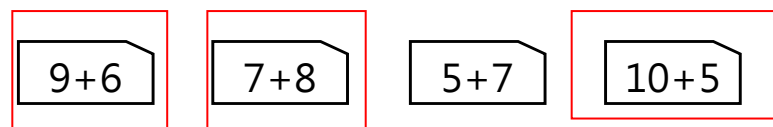


三、做做看 (20%)

- (1) 代表 10 個麵包， 代表 1 個麵包，請圈出 49 個麵包。



- (2) 公園裡有 25 張椅子，有 30 個小朋友，一個人坐 1 張，椅子夠不夠？圈出正確的答案。
(夠 , 不夠)
- (3) 圈出和 $8+7$ 答案一樣的心算卡。(答案不只一個！)



- (4) 大的數打 \checkmark ，小的數打 \times ：
①

35	37
----	----

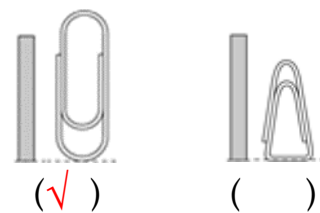
 ②

48	32
----	----

 ③

50	39
----	----

(\times) (\checkmark) (\checkmark) (\times) (\checkmark) (\times)
- (5) 下圖哪一個迴紋針比較長？請打 \checkmark 。



- (6)


請依上圖，將緞帶由長到短，寫出代號排排看。

(A) \rightarrow (B) \rightarrow (C)

四、看圖做做看看 (24%)

(1)

- ① 每種水果有幾個？畫「正」記，記看，並寫出數量。

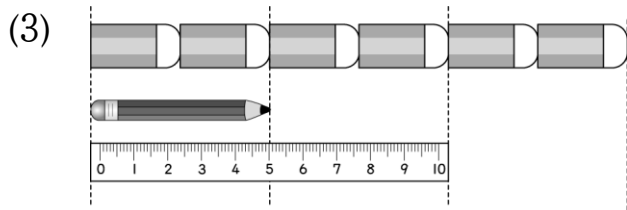
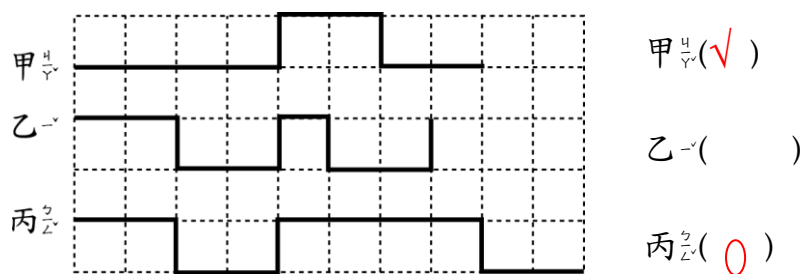


水果	畫記	數量
	正	(5)個
		(9)個
		(7)個

- ② 數量最多的是 (, ,)

- ③ 數量最少的是 (, ,)

- (2) 甲乙丙三條繩子，最長的畫○，最短的打√。



- ① 一把尺和 (4) 個橡皮擦一樣長。

- ② 一把尺和 (2) 隻鉛筆一樣長。

五、填填看看 (20%)

- (1) 按照順序填出正確的數字。

① 22 — 24 — (26) — 28 — (30)

② 15 — (20) — 25 — 30 — (35)

③ 47 — 37 — (27) — 17 — (7)

- (2) 觀察算式的規律，並把答案填在 () 裡。

① $8+9=(17)$ ② $11-5=6$

$8+8=16$ $12-5=(7)$

$8+7=(15)$ $13-5=(8)$

六、寫出做法和答案 (12%)

- (1) 一包彩色紙有 7 張，2 包彩色紙有幾張？

算式: $7+7=14$

答: (14) 張

- (2) 操場上有 15 個小朋友，有 8 個是女生，男生有幾個？

算式: $15-8=7$

答: (7) 個人

- (3) 哥哥跳繩跳了 17 下，妹妹跳了 9 下，哥哥比妹妹多跳幾下？

算式: $17-9=8$

答: 多跳 (8) 下

(4)



- 1 隻錶和 2 塊橡皮排在一起，起後，會和幾個橡皮一樣長呢？

算式: $6+3=9$

答: (9) 個

七、生活應用題 (6%)

下圖是小英班上票選喜愛玩偶的紀錄，一個小朋友投 1 票，看表格回答問題。

6 票	12 票	16 票

- (1) 有 (3) 種玩偶被票選。

- (2) 請圈出最受歡迎的玩偶。

(, ,)。

- (3) 票數最多和票數最少的玩偶相差 (10) 票。