

一、填填看看 (每格 1 分，18%)

1.請按照數的順序填填看看。

- (1)

840

740

640

540

440
- (2)

670

680

690

700

710
- (3)

996

997

998

999

1000

2. 750 是 ( 7 ) 個百、( 5 ) 個十和 ( 0 ) 個一合起來的。

3. 12 個一和 1 個百合起來是 ( 112 )，讀作 ( 一百一十二 )。

4.選出三個數字，排出最小的三位數。

9 0 7 1 8 6

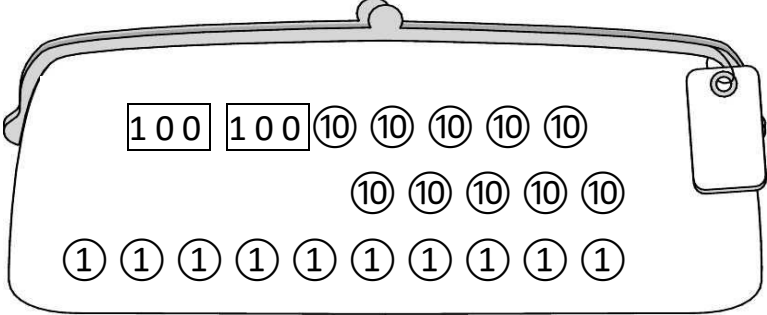
百位	十位	個位
1	0	6

5.平平不小心用彩色筆畫到習作上的數字，如果平平的答案是正確的，看不清楚的那一個數字可能是 ( 8 ) 或 ( 9 )。

58 578

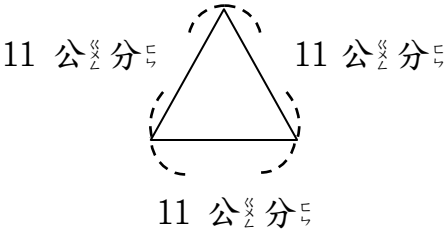
二、看看圖做做看看 (每格 2 分，49%)

1.這是安安的钱包，他买了一台削鉛筆機 299 元，要怎麼付錢才會剛好？圈圈看。



2.接上題，買 2 台削鉛筆機大約要幾百元？ ( 600 )元

3.



請算出上圖的周長： ( 4 分 )

( 11 ) × ( 3 ) = ( 33 )

周長是 ( 33 ) 公分

4.重量比一比：

(1)最輕的打✓，最重的畫○。



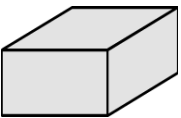
(2)



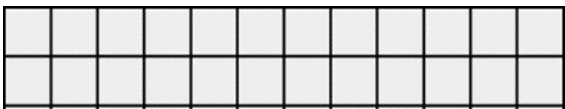
- ①猴子和 ( 5 ) 個罐子一樣重。
- ②兔子和 ( 4 ) 個罐子一樣重。
- ③ ( 猴子 ， 兔子 ) 比較輕。

5.下面的形體叫作 ( 長方 )

體，有 ( 6 ) 個面、( 12 ) 條邊、 ( 8 ) 個頂點。 ( 4 分 )



6.用乘法算式表示下圖中 的數量：

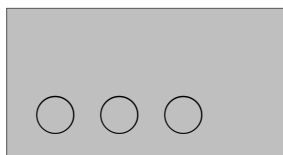


( 12 ) × ( 2 ) = ( 240 )

7. 畫畫看看：(3 分)

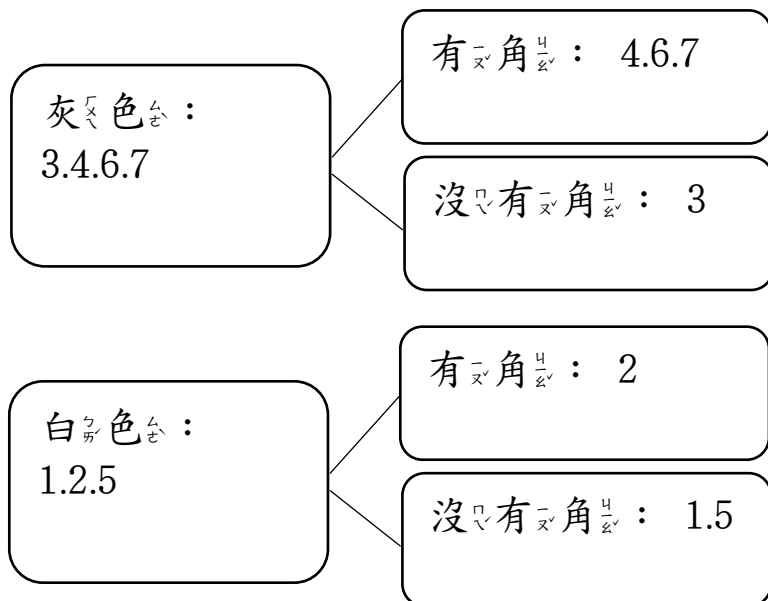
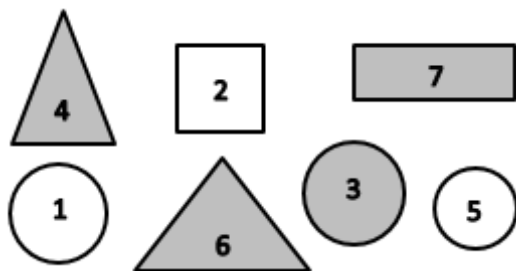
- (1) 用鉛筆描出圖形的周界。
- (2) 在周界內畫 3 個○。
- (3) 在周界外畫 2 個 X。

XX



8. 分一分，用代號記錄下來。

(每答 1 分)



三、做一做 (每格 1 分，13%)

1. 安安玩套圈遊戲，結果如下表。請回答下面問題。

得分(分)	10	1	0
個數(個)	4	5	7

- (1) 套中 10 分的分數：  
( 10 ) × ( 4 ) = ( 40 )
- (2) 套中 1 分的分數：  
( 1 ) × ( 5 ) = ( 5 )
- (3) 套中 0 分的分數：  
( 0 ) × ( 7 ) = ( 0 )
- (4) 安安共得到 ( 45 ) 分。

2. 兩顆一樣重的蘋果，一顆放在天平的左邊，另一顆切成兩半放在天平的右邊，結果會如何呢？在□裡打✓：

- (1) 整顆的比較重  
□(2) 切成兩半的比較重  
☒ (3) 一樣重

四、先記錄問題，再用直式計算看看。(每題 5 分，20%)

1. 繪本館裡原有 684 本繪本，被借走一些後，還剩下 479 本。繪本館被借走幾本繪本？

問題記成： 684-479=205

直式：  
684  
- 479

205

答：( 205 ) 本

2. 今天是在快樂屋書展，上午賣了 363 本，下午賣了 578 本。今天書展共賣了幾本書？

問題記成： 363+578=941

直式：  
363  
+ 578

941

答：( 941 ) 本

3. 媽媽今年 32 歲，媽媽比爺爺小 29 歲，爺爺今年幾歲？

問題記成： 32+29=61

直式：  
32  
+ 29

61

答：( 61 ) 歲

4. 安安蒐集 120 張貼紙，安安比平平多 18 張。平平蒐集幾張？

問題記成： 120-18=102

直式：  
120  
- 18

102

答：( 102 ) 張