

新北市板橋區莒光國民小學 109 學年度第二學期第一次定期評量試題												
科目	社會	命題老師	陳珮伶	年級	四年	班	座號	姓名	成績	家長簽章		

一、題組(選擇題每題 2 分，勾選題、填充題每答 1 分，共 100 分)

題組一

我是來自蘭嶼的呈祐，是以漁業為主的達悟族，但我們也會種植小米、甘藷、芋頭等農作物。以前蘭嶼的工作機會不多，年輕人必須離鄉工作賺錢，因此我的爸爸也在臺灣本島工作，蘭嶼島上幾乎只剩年長者及小孩。不過近幾年，愈來愈多人喜歡到蘭嶼觀光，為蘭嶼製造許多就業機會，吸引在外地的達悟人回家鄉經營民宿，我爸爸就是其中之一。

我的媽媽從臺北市嫁到蘭嶼，覺得臺灣本島的教育資源比蘭嶼多，因此帶著我到臺北市讀小學，但我好想念在蘭嶼的生活。

我們有一套傳統造船技術，把木材製成船骨、船板和木釘等，再將各部分拼合成船，這就是「拼板舟」，當作捕魚工具。不過我們現在也會使用動力漁船捕魚，因為傳統造船及捕魚方式需要較多人手，相比之下，動力漁船省力多了。

因為蘭嶼特殊的氣候環境，於是我們建構出特殊的地下屋，利用天然地勢保護房屋。如果你對蘭嶼的歷史文物有興趣，可以到蘭嶼文物館走走，那裡會有導覽員為你解說！

- () 1. 呈祐祖先的來源，是哪一種情形？

①明清時代來臺的漢人。
②民國三十八年前後，來臺灣的軍民。
③原住民族-平埔族。
④原住民族-高山族。
- () 2. 呈祐祖先的生活方式，可能是下列哪一種情形？

①受漢人文化影響很深。
②居住在平原地區，種植水稻和甘藷。
③他們的傳統服飾和漢人的服飾明顯不同。
④在政府機關擔任軍警人員。
- () 3. 呈祐移入臺北市是因為哪種因素？

①就學 ②就業 ③公共設施 ④結婚
- () 4. 呈祐爸爸移出原來居住的蘭嶼是因為哪一種因素？

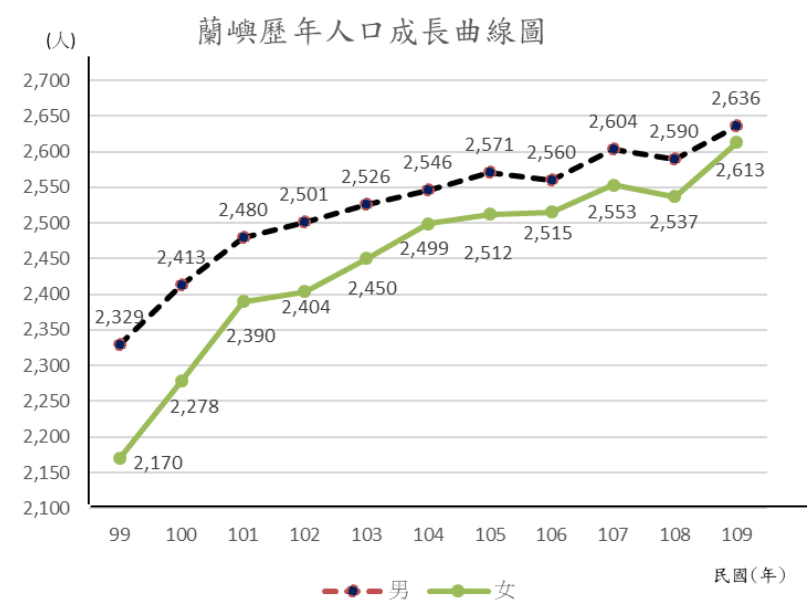
①就學 ②就業 ③公共設施 ④結婚
- () 5. 呈祐媽媽移出原來居住的臺北市是因為哪一種因素？

①就學 ②就業 ③公共設施 ④結婚

- () 6. 人口大量移出的蘭嶼，容易造成什麼問題？

①年長者人數太少 ②勞動人口不足
③死亡率下降 ④幼年人口太多
- () 7. 下圖為蘭嶼歷年人口成長曲線圖，哪個解釋比較能合理說明此曲線？

①出生率上升，幼年人口增加。
②近年來發展觀光，旅客逐年增加。
③蘭嶼就業機會變多，吸引人返鄉工作。
④天然的環境吸引許多人搬遷到蘭嶼。



- () 8. 承上題，哪一年男女人口數最接近

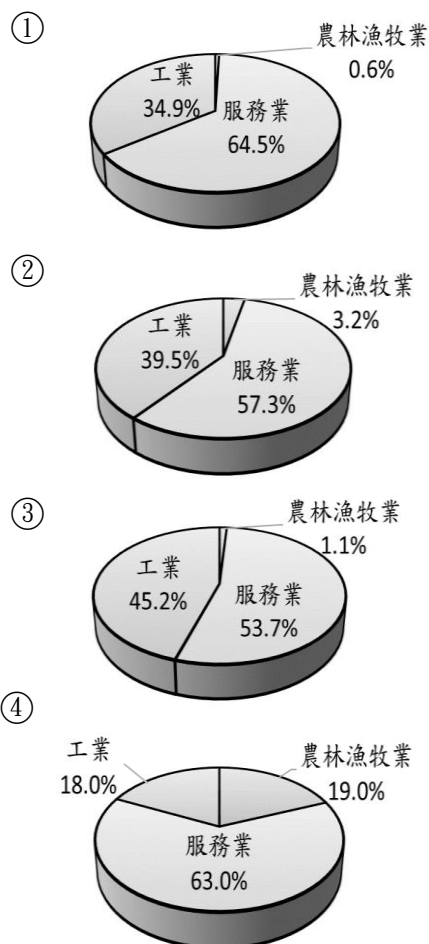
①104年 ②106年 ③107年 ④109年。
- () 9. 承上題，造成男女人口數量愈來愈接近的原因是？

①醫療不發達，男生壽命較短。
②達悟族重女輕男的傳統，讓族人喜歡生女兒。
③重男輕女的觀念被性別平等的觀念所取代。
④許多女生嚮往蘭嶼的生活而選擇搬入。
- () 10. 家鄉的建築各有不同的功能，地下屋具備的功能是下列哪一項？

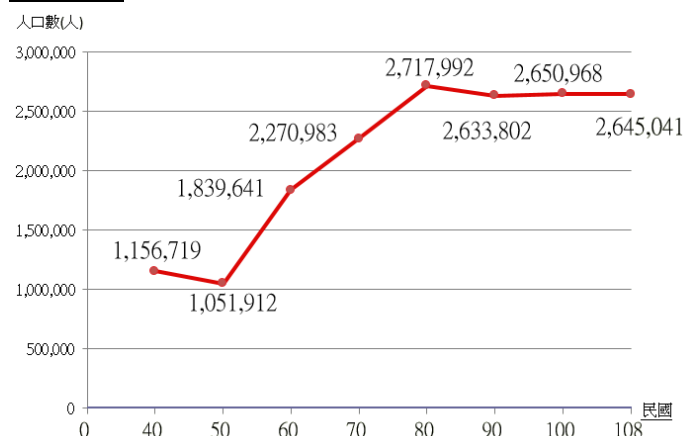
①提供居民居住。
②滿足居民生產需求。
③居民的信仰中心。
④滿足居民運輸需求。
- () 11. 許多人會透過實際行動為家鄉保存珍貴古蹟，蘭嶼文物館的成立是哪一種實際行動？

①古蹟遷移至別處保存 ②成立文物館
③編寫鄉土歷史 ④替老建築注入新生命

- () 12. 在蘭嶼文物館擔任導覽的工作是屬於下列哪一種產業活動？
 ①服務業 ②工業 ③漁業 ④農、牧業
- () 13. 在蘭嶼出海捕魚是屬於下列哪一種產業活動？
 ①服務業 ②工業 ③漁業 ④農、牧業
- () 14. 在蘭嶼經營民宿是屬於下列哪一種產業活動？
 ①服務業 ②工業 ③漁業 ④農、牧業
- () 15. 蘭嶼人近年來也開始使用動力漁船來捕魚，這樣的方式有什麼優點？
 ①比較省錢 ②比較環保 ③節省人力 ④友善魚類。
- () 16. 承上題，動力漁船的製造是屬於下列哪一種產業活動？
 ①服務業 ②工業 ③漁業 ④農、牧業
- () 17. 從文章中的描述，下列哪一個圖可能是蘭嶼的就業人口產業結構比例圖？



題組二



上圖為呈祐居住的臺北市人口歷年總數變化圖，請根據下圖回答問題。

- () 1. 從臺北市人口總數變化圖，你可以知道人口最多在哪一年？有多少人？
 ①民國 40 年，1,156,719 人。
 ②民國 50 年，1,051,912 人。
 ③民國 70 年，2,270,983 人。
 ④民國 80 年，2,717,992 人。
- () 2. 從臺北市人口總數變化圖，你可以知道人口最少在哪一年？有多少人？
 ①民國 40 年，1,156,719 人。
 ②民國 50 年，1,051,912 人。
 ③民國 70 年，2,270,983 人。
 ④民國 80 年，2,717,992 人。
- () 3. 從圖中，可以發現臺北市人口增加最快速是下列哪一個年代？
 ①民國 50~60 年。 ②民國 60~70 年。
 ③民國 70~80 年。 ④民國 80~90 年

4. 承上題，這時期人口增加快速的原因可能是下列哪一項？正確請打✓

- ☐ ①醫療進步，平均壽命延長，死亡率下降。
☐ ②交通建設完善，外地人方便前來。
☐ ③空氣品質佳，吸引許多外地人來居住。
☐ ④農業生產方式需要較多人力，因此出生率較高。

5. 人口大量移入的臺北市，容易有哪些問題？正確請打✓

- ☐ ①交通擁擠。
☐ ②環境污染。
☐ ③工作機會增加。
☐ ④公共設施不足。

6. 下列哪些說明比較符合民國 90 年以後臺北市的普遍現象？正確請打✓

- ☐ ①衛生環境不好，死亡率高。
☐ ②醫療技術進步，平均壽命延長。
☐ ③生育觀念改變，許多父母不願意多生小孩。
☐ ④照顧小孩的費用提高，父母生育小孩的意願降低。

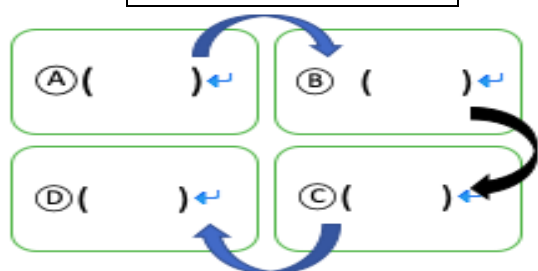
題組三 看到人口的變化後，呈祐想了解時代變遷下產業的變化，下列敘述正確請打✓。

1. 下列哪些敘述比較符合民國 40 年以前家鄉居民的工業生產方式？

- ☐ ①工業污染影響家鄉居民生活環境。
☐ ②使用新式機器，大量生產各式各樣的產品。
☐ ③日常用品大多是手工製作而成。
☐ ④生產過程耗時費力，且產量有限。

2. 下列哪些敘述比較符合民國 40 年以前家鄉的漁民捕魚的方式？
- ☐ ①乘坐小船、竹筏在近海撈魚。
- ☐ ②用先進的捕魚器具和冷凍設備，可到更遠的地方捕魚。
- ☐ ③用手投網在池塘或河川旁捕捉魚蝦。
- ☐ ④原住民族用竹編魚筓在溪流捕撈魚蝦。
3. 下列為現代化養雞的四個步驟，請你判斷正確順序將代號填入養雞流程圖中。
- ①將雞運到屠宰廠分類處理。
- ②用科學的方法飼養管理雞。
- ③從專業孵育場買小雞。
- ④將雞送到市場販賣。

現代化養雞流程圖



題組四

【節錄自國語日報鄉鎮拼圖專欄】



呈祐在國語日報上看到這幅圖，查了資料才知道是花蓮縣鳳林鎮有名的菸樓及百鬼夜行祭！

歷史記載，日本為解決人口壓力與農村問題，鼓勵日本人向海外移民，來臺灣開墾、種植經濟作物，尤其是被稱為「綠色黃金」的菸草更是被大為推廣，以增加花蓮、臺東地區日本移民村的收入，位在鳳林鎮的移民村便是栽種菸草、製菸的主要地區，這也是鳳林地區有許多菸樓的原因。

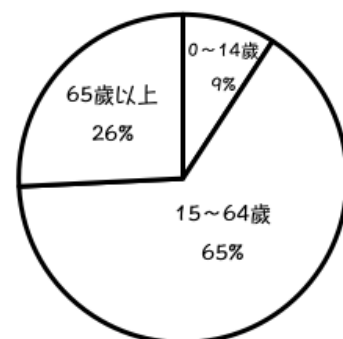
菸樓就是專用於烤乾菸草的「乾燥室」，用土角磚砌造而成，內部牆壁會加入稻梗、稻穀等材料，據說可以將白天太陽熱能及煙燻的熱度保存，節省柴燒費用。菸草的製作相當辛苦，採收菸葉後必須立刻放入菸樓裡連續燻烤八天八夜，不能斷火，精準控制溼度及溫度才能燻烤出

上等的菸草。因此菸農必須 24 小時輪班，適時翻動菸葉、注意火候，才能維持菸草品質，只要一個環節出了問題可能就烤焦了。

隨著製菸產業沒落，菸樓逐漸閒置，幸運留存下來的菸樓建築，為菸草歲月留下見證。近年來政府結合文史工作者，讓遊客可進一步了解製菸產業的興衰史，每逢農曆七月，還會舉辦鳳林菸樓迷路-百鬼夜行祭，扮鬼踩街、鬼屋體驗等活動，不僅吸引各地觀光客參加，也成為專屬鳳林菸樓的創意活動。

- () 1. 文章中提到的日本人可能是因為哪一項因素移入臺灣？
- ①就業 ②就學 ③公共設施 ④結婚。
- () 2. 在鳳林種植菸草是屬於下列哪一種產業活動？
- ①服務業 ②工業 ③漁業 ④農、牧業
- () 3. 家鄉的建築各有不同的功能，菸樓原本具備的功能是哪一項？
- ①提供居民居住 ②滿足居民生產需求 ③居民的信仰中心 ④保護居民安全
- () 4. 鳳林菸樓迷路-百鬼夜行祭的舉辦是屬於哪一種為家鄉保存古蹟的實際行動？
- ①提供研究，增加知名度 ②成立文物館 ③替老建築注入新生命 ④編寫鄉土歷史
- () 5. 國際上將 65 歲以上人口占總人口比率達到 7%稱為高齡化社會、14%稱為高齡社會及 20%稱為超高齡社會。請你從下圖判斷鳳林鎮屬於哪一種社會？

鳳林鎮2021年1月人口年齡結構比例圖



- ①壯年化社會。 ②高齡化社會。
- ③高齡社會。 ④超高齡社會。
6. 未來鳳林鎮將會遇到哪些問題？
- 正確請打✓
- ☐ ①需要重視老人照顧問題。
- ☐ ②經濟下滑，勞動人口增加。
- ☐ ③青壯年人口需扶養的人口減少。
- ☐ ④政府需投入醫療資源，公共支出增加。

題組五

呈祐正在吃好吃的夏威夷披薩，覺得上頭的鳳梨跟平常吃到的鳳梨不太一樣，上網搜尋找到了鳳梨片製造流程圖！




鳳梨原產自中南美洲，清朝時從夏威夷引進臺灣種植。



經由多年生產技術的研發、育種、品種改良，培育出有競爭力的品種來維持市場優勢，像是金鑽鳳梨、牛奶鳳梨、釋迦鳳梨等多種高甜度的鳳梨便是臺灣特色品種。



臺灣鳳梨雖然美味，但因為放久容易腐爛，因此如果想要延長新鮮度賣到國外，就得將新鮮鳳梨加工處理變成「鳳梨罐頭」。



鳳梨披薩

披薩店裡販售的夏威夷披薩，上頭的鳳梨便是使用鳳梨罐頭的鳳梨片。

() 1. 鳳梨的種植是屬於下列哪一種產業活動？

- ①服務業 ②工業 ③漁業 ④農、牧業

() 2. 「原來我們現在常吃的『土鳳梨』其實一點都不土，它可是從夏威夷飄洋過來的『洋鳳梨』」。從這句話你可以知道我們現在能吃到鳳梨是因為下列哪一項農業生產方式？

- ①引進新作物 ②交由專門的技術人員
③改良生產技術 ④以機器代勞操作

() 3. 我們在臺灣能吃到非常多品種的鳳梨主要是因為下列哪一項農業生產方式？

- ①以機器代勞操作 ②友善環境耕種
③改良生產技術 ④用大量人力耕種

() 4. 將鳳梨加工製成鳳梨罐頭是屬於下列哪一種產業活動？

- ①服務業 ②工業 ③漁業 ④農、牧業

() 5. 在披薩店販售夏威夷披薩是屬於下列哪一種產業活動？

- ①服務業 ②工業 ③漁業 ④農、牧業

題組六

2021 寶藏巖光節開跑了，此次參展藝術家以「個體之思」、「家屋之形」和「自然之境」三大主題做規劃，邀請大家在3月27日至5月9日這段期間，踏著腳下的光，在蜿蜒的小路上，尋找寶藏巖的歷史足跡。

呈祐看到寶藏巖光節的活動海報，好奇去查了寶藏巖的資料，原來故事要從清朝開始說起。當時虎空山上有一間供奉觀世音菩薩的佛寺—寶藏巖，是當地的信仰中心。

民國38年，有兩百萬軍民來臺灣，被安置在只規劃容納60萬人口的臺北，許多沒有官階的軍人跟家人，只能自力救濟，從寶藏巖附近，沿著山坡自力搭建住屋，因此形成寶藏巖小型聚落。

政府曾經想拆除寶藏巖的違建住宅，但遭到抗議，加上有歷史的意義，因此寶藏巖聚落才得以保留下來。

() 1. 請問形成寶藏巖聚落的居民來源，是下列哪一種情形？

- ①明清時代來臺的漢人。
②民國三十八年前後，來臺灣的軍民。
③原住民族—平埔族。
④原住民族—高山族。

() 2. 請問形成寶藏巖聚落中的居民，生活方式可能是下列哪一種情形？

- ①仍然保有傳統打獵的技能。
②居住在平原地區，種植水稻和甘藷。
③定居在沿海地區，從事捕魚活動。
④在政府機關擔任軍警人員。

() 3. 家鄉的建築各有不同的功能，寶藏巖聚落原本具備的功能是哪一項？

- ①提供居民居住 ②滿足居民生產需求
③居民的信仰中心 ④保護居民安全

() 4. 寶藏巖這間佛寺具備的功能是下列哪一項？

- ①提供居民居住 ②滿足居民生產需求
③居民的信仰中心 ④保護居民安全

() 5. 許多人透過實際行動為家鄉保存珍貴古蹟，寶藏巖光節的舉辦是屬於下列哪一種實際行動？

- ①成立文物館 ②古蹟遷移至別處保存
③替老建築注入新生命 ④編寫鄉土歷史

() 6. 寶藏巖光節展覽期間特別雇用清潔人員維持環境整潔，清潔人員是屬於下列哪一種產業活動？

- ①服務業 ②工業 ③漁業 ④農、牧業

試題結束，請仔細檢查