

新 北 市 板 橋 區 莒 光 國 民 小 學 109 學 年 度 第 二 學 期 第 一 次 定 期 評 量 試 題

科目	社會科	命題老師	六年級社會領域	年級	六年	班	座號	姓名		成績		家長簽章		100		70-79	
														90-99		70 以下	
														80-89		平均	

黑啤喜歡到世界各地旅遊，在旅遊過程中，他看到各個國家不同的宗教文化、風俗民情，只要有機會他會嘗試體驗當地人的不同生活。黑啤將不同國家的見聞、有趣的故事，記錄在他的旅遊筆記本裡。以下是黑啤旅遊筆記內容，請回答下列問題：

一、題組：

小朋友，請將《第 1-4 頁》的答案，依序抄寫在《第 5 頁》的【答案卷】裡，《第 5-6 頁》請直接作答。\*題號與答案要核對正確喔！

第(一)章、世界宗教篇：每題 2 分，共 12 分

黑啤熱愛宗教研究，他發現宗教與人類文化的發展有非常密切的關係。現在請跟著黑啤一起去體驗世界主要宗教之旅吧！

1.下列是黑啤對於宗教的敘述，哪一項是錯誤的？

- ①全世界的宗教都是一神信仰 ②宗教與人們的生活息息相關 ③各宗教均有其教義、戒律及活動方式 ④宗教源自於人對自然的畏懼與疑惑。

2.黑啤每天要面對聖地麥加禱告 5 次，絕對不吃豬肉，出門一定會佩戴頭巾、身穿罩袍等。請問黑啤所信仰的宗教起源於哪裡？ ①中國 ②以色列 ③印度④阿拉伯半島。

3.基督宗教主要奉行哪一部經典？ ①孝經 ②聖經 ③古蘭經 ④道德經。

4.下列有關宗教的敘述，正確請打 O，錯的打 X

甲、我們可以藉由宗教來認識世界各地的文化，世界上所有的宗教都有相同的儀式，例如：誦經。

乙、黑啤很自豪的告訴外國朋友說：「道教是中國古代就有的宗教，練氣功是中國人的養生方法之一。」

丙、黑啤是個專業的導遊，他正在向遊客介紹這個國家的虔誠佛教家庭，會讓男孩在青少年時短期出家，由此可知他們可能正在泰國觀光。

第(二)章、世界文化篇：每題 2 分，共 18 分

我們可以從歷史的長河中，看世界文化的淵源，以及現在文化的面貌。現在請跟著黑啤一起去體驗世界文化之旅吧！

5.「這個文化源遠流長，其中在文學、音樂、繪畫等方面的表現都很有特色，而孝道也是特色之一，祭拜祖先便是一種孝道的表現方式。」由上文可知，下面哪一項發明與這個文化無關？ ①火藥 ②指南針 ③楔形文字 ④造紙術。

6.黑啤在社會課時舉行隨堂測驗，他請各位同學寫出一項有關羅馬文化的敘述，請問下列哪一位同學的答案是錯誤的？

紅瑰：是西方文化的根源之一。  
白米：有許多城邦，斯巴達實施民主政治；  
雅典實施軍事統治。  
藍地：公共排水系統完善。  
小志：重視實用，大型的公共建設齊全。

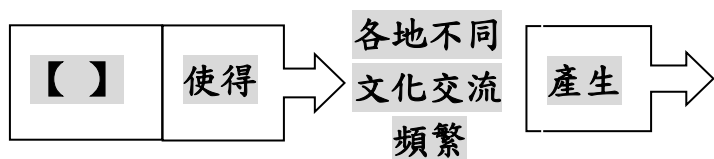
- ①紅瑰 ②白米 ③藍地 ④小志。

7.每年到了百貨公司的周年慶期間，各品牌就會推出許多吸引人的限量商品，或是價格十分優惠的折扣商品，讓許多人為之瘋狂，並掀起搶購熱潮。上述文字所描述的是關於現代社會哪一方面的影響？①平權思想的普及 ②科技文明的影響 ③大眾文化的出現 ④環保觀念的興起。

【背面還有試題。加油！】

8.「重男輕女」以及「男主外、女主內」，這些都是不符合什麼思想？①法家思想 ②儒家思想 ③民生思想 ④平權思想。

9.黑啤發現他在上社會課時，課堂討論關於「文化交流」所畫的概念圖筆記中，少寫了格子裡的文字，以下為黑啤的筆記內容：



### 文化衝突. 文化合作. 文化創新

請問【 】裡的內容，比較符合下列哪個選項？

- ①藉由高科技傳播媒體的快速發展 ②藉由人權價值的備受重視 ③藉由石油價格的日趨上漲 ④藉由恐怖攻擊的日益增加。

10.下列有關文化的敘述，正確請打○，錯的打X

甲、世界著名的奧林匹克運動會，起源於古代羅馬在祭典時舉辦的競技活動。

乙、東亞的幼發拉底河和底格里斯河之間的地區，稱為美索不達米亞。

丙、黑啤覺得印度人的發明很了不起，尤其阿拉伯數字在全世界通用，而它之所以被發明是為了建築的需要。

丁、現今 3C 產品盛行，且與大眾生活密不可分，然而愈來愈多的「低頭族」，也是一種社會隱憂。

### 第(三)章、文化交流篇：每題 2 分，共 20 分

黑啤認為文化交流是國際關係中的重要一環，它能促進彼此的進步，國際間都重視文化的交流。現在請跟著黑啤一起去認識國際間文化的交流吧！

11.黑啤每週都會收看「文化交流看世界」的頻道，下列是每一週的節目主題大綱，請問哪一週的內容是探討文化合作？

- 主題 A：華裔大提琴家馬友友曾籌畫「絲路計畫」，將古絲路介紹給世人。  
主題 B：以色列與周圍伊斯蘭教國家間因宗教文化不同而發生戰爭。  
主題 C：各國專家和團體運用先進的科學技術協助修護吳哥窟遺跡。  
主題 D：由於速食文化流行，因此以米食為主的東方國家研發出米漢堡。

- ① AB ② BD ③ AC ④ CD 。

12.關於各種不同建築的敘述，哪一項正確？

- ①臺灣的騎樓建築可以因應多雨的氣候，方便人們躲雨 ②因紐特人建造冰屋是為了抵擋洪水 ③臺北市的圓山大飯店結合了西方建築特色和原住民族藝術 ④美洲的原住民住在磚瓦屋裡，可以躲避敵人攻擊。

13.在資訊時代，世界各國的關係更為緊密，某一地區發生的事件，也會影響另一個地區居民的生活。以下各項敘述與哪一個事件有關

- A、影響全球的氣候與航空  
B、非洲國家農產品無法外銷，損失慘重  
C、飛機無法起飛，大批旅客夜宿機場

- ①撒哈拉沙漠缺水情況嚴重 ②冰島火山爆發 ③臺灣舉辦「飢餓三十」活動 ④世界各國領袖參與 G20 會議。

14.國際社會變化多端，可以帶給我們很大的啟示。德、法兩國在 19 世紀常因爭奪煤、鐵礦而發生衝突，請依照下列事件出現的先後順序，選出正確的代號？

- A 兩次世界大戰 B 歐洲煤鋼共同體  
C 歐洲聯盟 D 進入工業時代

- ①ABCD ②BACD ③CABD ④DABC 。

【第三頁還有試題，請繼續作答。加油！】

新北市板橋區莒光國民小學 109 學年度第二學期第一次定期評量試題

科目	社會	命題老師	六年級社會領域	年級	六年	班	座號	姓名	成績	家長簽章	100	70-79
											90-99	70 以下
											80-89	平均

15.在文化交流的過程中，人們常因宗教信仰的不同，會引發衝突或對抗的關係。例如：將用牛油炸過的薯條賣給哪一個國家的消費者，會使得視牛為聖物的當地民眾憤怒與抗議？

①以色列 ②希臘 ③阿拉伯 ④印度。

16.臺灣上半年發生乾旱缺水的危機，這是因為前一年的降雨量低而導致的旱災。於是開始進行區域限水措施。從這一例可以發現全球的問題，下列何者錯誤？ ①臺灣四周環海，可利用的水資源很多，要再建造更多水庫來儲水 ②去年臺灣中南部沒有颱風侵襲，導致降雨量低而旱災缺水 ③全球資源分配不均，不只有在臺灣，在非洲水資源缺水的問題也很嚴重 ④林義傑曾跑步橫越缺水地區，拍成紀錄片，期待喚起人們珍惜水資源愛護地球。

17.下列敘述，正確請打 O，錯的打 X

甲、生活在海岸與沙漠地區之間的突尼西亞柏柏人，為了遮蔽烈陽，開闢穴居屋居住。

乙、黑啤暑假計畫到法國、義大利、西班牙自助旅行，所以他應該準備三種貨幣，才能在旅行時方便使用。

丙、將某個地方原本的文化丟棄，再用外來文化直接替代，就是一種文化的創新。

丁、德國與法國是領土相鄰的國家，德國產鐵礦，法國產煤礦，在兩次世界大戰前，兩國彼此合作促進經濟和平發展。

#### 第(四)章、漫遊國際組織篇：每題 2 分，共 8 分

現在，國與國之間的關係愈來愈密切，所以參與國際社會是世界公民的重要責任。現在請跟著黑啤一起去漫遊國際組織吧！

18.黑啤在一本書上看到下面的旗幟，書裡有許多關於這個旗幟的詳細介紹，請問黑啤 不會看到哪一句介紹內容？



①這是聯合國會旗 ②所代表的國際組織主張以和平的方式解決國際間的爭端 ③所代表的國際組織是成立於第一次世界大戰之前 ④所代表的國際組織設有許多附屬組織，例如聯合國難民署。

19.黑啤今天在課堂上認識了下列國際組織：A 聯合國教科文組織、B 聯合國難民署、C 非政府間國際組織。考試時黑啤想用英文縮寫作答，應該怎麼寫才正確？

① A：UNESCO，B：UN，C：NGO  
 ② A：UN，B：UNESCO，C：WHO  
 ③ A：UNESCO，B：UNHCR，C：NGO  
 ④ A：WHO，B：UNHCR，C：UN。

20.有關國際組織的敘述，正確請打 O，錯的打 X

甲、雖然我國不是聯合國的一員，卻是世界衛生組織的會員國。

乙、國際間有許多由民間發起組成的非政府組織，例如：無國界醫生和臺灣路竹醫療和平會都是人道救援組織，有地區發生災難，它們會加入救援行動。

【背面還有試題。加油！】

二、配合題： 每格1分，共5分











黑啤喜歡蒐集各個國家的國旗、及國際組織的會旗。請根據下列題目敘述，找出相對應的旗幟圖案代號填入格子內。

小朋友，請將《第4頁》的答案，依序抄寫在《第5頁》的【答案卷】裡。

\*題號與答案要核對正確喔！

編	題目	代號
範例	最近，COVID-19疫情減緩，外交部推動對帛琉的觀光旅遊泡泡計畫，以促進經濟發展。請寫出與我國有邦交的帛琉國旗代號？	辛
1	我國從3月22日開始，施打COVID-19新冠肺炎的疫苗。為防治流行疾病、改善公共衛生，WHO將疫苗分送至有需要的國家。請寫出WHO的會旗代號？	
2	柬埔寨位於中南半島上的國家，境內擁有建築宏偉與浮雕細緻的廟宇而聞名。1992年，聯合國教科文組織將此列入世界文化遺產名錄，並鼓勵政府保護現場。請寫出柬埔寨國旗代號？	
3	請寫出以聯合國教科文組織的會旗代號？	
4	桃園 觀音 大潭藻礁是全球少數僅存的現生淺海藻礁，生態豐富。曾被國際知名的海洋保育組織「Mission Blue」（藍色任務）指名為全球「Hope Spots」（希望熱點）之一，具有世界級自然遺產的價值。環保團體發起「搶救藻礁」公投連署，引起大家對海洋生態環境保護的關注。請寫出與 <u>地球環境保護</u> 相關的國際組織會旗代號？	
5	由國際奧會主辦的 <u>奧運</u> ，2021年將在日本東京舉辦。 <u>國際奧林匹克運動會</u> 的會旗，象徵五大洲的團結涵意。請寫出 <u>奧運會</u> 旗代號？	

國旗、國際組織會旗旗幟

甲	乙
	
丙	丁
	
戊	己
	
庚	辛
	
壬	癸
	

【第五頁還有試題，請繼續作答。加油！】

新北市板橋區莒光國民小學 109 學年度第二學期第一次定期評量試題答案卷

科目	社會科	命題老師	六年級社會領域	年級	六年	班	座號	姓名	成績	家長簽章	100	70-79
											90-99	70 以下
											80-89	平均

一、題組：

第(一)章、世界宗教篇：每題 2 分，共 12 分

1.	2.	3.
----	----	----

4. 甲	乙.	丙.
------	----	----

第(二)章、世界文化篇：每題 2 分，共 18 分

5.	6.	7	8	9
----	----	---	---	---

10. 甲	乙	丙	丁
-------	---	---	---

第(三)章、文化交流篇：每題 2 分，共 20 分

11.	12.	13.	14.
-----	-----	-----	-----

15.	16.
-----	-----

17. 甲	乙	丙	丁
-------	---	---	---

第(四)章、漫遊國際組織篇：每題 2 分，共 8 分

18.	19.	20. 甲	乙
-----	-----	-------	---

二、配合題：每格 1 分，共 5 分

1.	2.	3	4	5
----	----	---	---	---

三、勾選題：每格 1 分，共 9 分

1. 因為有愈來愈多以環保、健康、服務為前提的大眾文化出現，因此，黑啤最近也加入了環保志工的行列。下列關於過去文化和現代文化差異的敘述，正確的請打✓。

- ( ) (1) 過去的社會，統治者高高在上，接受人民的跪拜，是平權思想的特色。
- ( ) (2) 人類科技發展日新月異，科技文明對於現代文化不一定是好的結果。

- ( ) (3) 過去社會裡上流階級的華麗穿著，表現了通俗、普及的大眾文化。
- ( ) (4) 現代社會發展的隱憂是民眾一味追求時尚、流行。
- ( ) (5) 現代社會平權思想普及，人民不分性別，都能從事喜歡的工作。

2. 黑啤在旅遊中觀察到許多不同文化交流的現象，請問文化交流後可能會產生什麼結果？你覺得有道理的請打✓。

- ( ) (1) 蘭嶼雅美族的椰油教堂，融合了西方建築與原住民族藝術的特性，這就是文化的創新。
- ( ) (2) 每個文化若都能包容其他不同的文化，我們的世界會更美好。
- ( ) (3) 不同文化的接觸，只會為世界帶來更多的糾紛，沒有任何好處。
- ( ) (4) 在文化交流的過程中，可能會因文化背景的差異與不尊重，更能產生豐富多樣的文化。

四、填代號：每格 1 分，共 9 分

1. 黑啤在寒假寫了一篇班上同學宗教信仰的專題報告，請你根據報告中的敘述填入正確的代號。

- A 基督宗教    B 伊斯蘭教    C 印度教  
D 佛教    E 道教

- ( ) (1) 紅瑰常和家人在星期日到教堂做禮拜，喜歡凡事感恩向上帝禱告。
- ( ) (2) 白米長年吃素，視釋迦牟尼為宗教的始祖，他有一顆慈悲心，不忍殺生。
- ( ) (3) 藍地是一位穆斯林，奉行古蘭經，每年必遵守齋戒月的戒律。
- ( ) (4) 臺灣水情告急，水利署商請道士舉辦祈雨儀式，祈求天降甘霖。

2. 將相對應的國際組織名稱和相關敘述連起來。

- A 世界貿易組織    B 聯合國教科文組織  
C 無國界醫生    D 國際紅十字會  
E 聯合國難民署    F 國際反地雷組織

- ( ) (1) 曾經頒發亞太文化資產保存獎給臺北市大龍峒保安宮。
- ( ) (2) 全球最大的人道救援組織，進行各地災難的救援行動。
- ( ) (3) 相信不分種族、宗教與政治立場，每個人都有獲得醫療保健的權利。
- ( ) (4) 曾經獲得諾貝爾和平獎，跛腳椅是全球的精神標誌。
- ( ) (5) 會員國間相互協議，降低關稅，促進商品自由貿易。【背後還有試題】

## 五、連連看：：每格 1 分，共 5 分

1. 隨著交通與傳播工具的快速發展，世界各國之間的關係更為緊密，需要透過國際合作來共同解決問題。請將相關的舉例連接起來。

- |        |   |                   |
|--------|---|-------------------|
| ① 疾病防治 | • | ㄅ. 林義傑為喚起環保意識而跑   |
| ② 拯救飢餓 | • | ㄆ. 舉辦「飢餓三十」各項活動   |
| ③ 環境保護 | • | ㄇ. 連日清協助非洲國家防治瘧疾  |
| ④ 經貿協定 | • | ㄋ. G20 會議各國討論經濟議題 |
| ⑤ 掃蕩犯罪 | • | ㄊ. 聯合國支持阿富汗女童受教育  |
| ⑥ 人權維護 | • |                   |

## 六、閱讀題：每題 2 分，共 8 分

1. 請仔細閱讀以下文章，並回答問題。

尼羅河孕育了埃及文化，留下了豐富的文化遺產，埃及文化中的象形文字、天文學、數學、建築學等偉大成就，在古代世界綻放出璀璨奪目的光輝。金字塔是古埃及的標誌，金字塔塔底基座為正方形，四面則是四個相等的三角形，側面看起來有點像國字的「金」字，所以中文稱為金字塔。其中矗立在吉薩高原的古夫金字塔是最古老也是最大的一座，同時也是古代世界七大奇蹟中，唯一尚存的建築物，高約 146 公尺，塔底基座每邊長約 230 公尺，占地約 52900 平方公尺，共用了大約 230 萬塊石材，塔內有國王和皇后的墓室，內置有木乃伊石棺，並陳設他們生前最珍愛的寶物、裝飾畫和雕塑。金字塔建築形式簡單，體積龐大，簡單的線條給人莊嚴穩重和雄偉的感覺，以顯示王權的神聖和強大。

古埃及人認為人死後可以復活，而復活的靈魂需要原先的身體，因此必須保存遺體以供死者復活所需。製作木乃伊需要先將遺體，浸過鹽水，填入乳香、桂皮等香料，把遺體浸入特製的防腐液中，經 35 天後取出，再裹上麻布，填入香料，塗上樹脂，就做成了木乃伊。

- ( ) 1. 從文章中可知，金字塔的建築材料是什麼？  
① 金屬 ② 木材 ③ 水泥 ④ 石材。
- ( ) 2. 黑啤發現古埃及人製作木乃伊的原因是什麼？  
① 死後復活的人需要身體 ② 作為得道成仙的證明 ③ 供後人瞻仰遺容 ④ 希望來世能夠過得更好。

- ( ) 3. 有關古埃及人的思想觀念，哪一項是錯誤的？  
① 崇拜尼羅河神 ② 相信靈魂不滅  
③ 重視倫理、講求中庸之道 ④ 認為法老是太陽神在世間的代表。

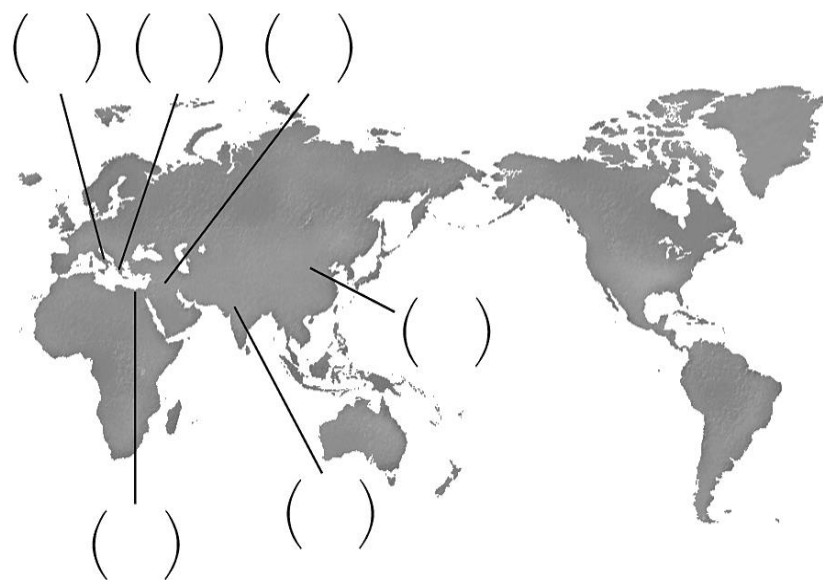
- ( ) 4. 黑啤利用暑假與朋友出國旅遊，下圖是他拍的旅遊照片，請問黑啤旅遊的地點是哪裡？  
① 希臘 ② 羅馬 ③ 埃及 ④ 印度。



## 七、圖表題：每格 1 分，共 6 分

1. 黑啤到世界各地旅遊，蒐集到許多古文化的相關資料與說明，請在 ( ) 中填入代號。

- |   |
|---|
| A. 因宗教需求，而發明 <u>阿拉伯</u> 數字和 <u>瑜伽</u>           |
| B. 火藥、指南針、印刷術與造紙術的發明                            |
| C. 大型公共建設非常齊全，例如： <u>羅馬競技場</u>                  |
| D. 從事農耕、建立國家、制定 <u>漢摩拉比法典</u>                   |
| E. <u>蘇格拉底</u> 、 <u>柏拉圖</u> 、 <u>亞里斯多德</u> 三位學者 |
| F. 利用植物製成莎草紙，可在上面繪圖、書寫                          |



【恭喜你，完成闖關了！  
期待下次也能看見你的旅遊故事趣聞。  
寫完了記得再檢查喔！】