

新北市板橋區莒光國民小學 109 學年度第二學期第一次定期考查試題											
科目	社會	命題老師	李居美	年級	五年	班	座號	姓名	成績	家長簽章	

小朋友，請將《第 1-2 頁》的答案，依序寫在第 4 頁的表格裡；《第 3-4 頁》請直接填答。

《第一站》、題組題：（每題 2 分，共 24 分）

◇ 以下是阿勇在臺灣生活遇到的情形，請閱讀他碰到的狀況，找出正確的答案。

鄭氏時代結束，西元 1684 年臺灣成為清朝統治的領土。阿勇是清代來臺的移民，他和一起渡海的同鄉移民們找到了一塊荒地，建立起聚落，辛勤的開墾土地、從事農耕，努力在臺灣建立新家園。

1. 阿勇當時來臺的漢人多來自於哪些地方？
①福建、廣東 ②湖北、廣西 ③廣東、湖北
④福建、廣西。
2. 下圖是清代時的歷史文物，根據圖片及內容判斷，當時什麼樣的人會需要申請這張驗票單？
①想來臺灣傳教的荷蘭人 ②想渡海來臺的漢人
③要開墾土地的原住民族 ④要來臺灣做生意的日本人。
3. 臺灣早期有句俗諺：「十去六死三留一回頭」，說明了清廷治臺初期，冒險偷渡移民來臺灣的過程非常艱辛。阿勇可能會遇到下列哪些危險？
甲、遭遇風災、發生船難 乙、被官兵追捕 丙、水土不服、感染疾病
①甲乙 ②甲丙 ③乙丙 ④甲乙丙。
4. 阿勇和同鄉的移民渡海來臺時，在不熟悉的環境中，心中難免充滿緊張及焦慮，可能會遭遇許多不可預知的天災與人禍，因此，為了祈求平安，從家鄉帶來了一尊神明，後來生活安頓下來後，村民便決定建廟來奉祀。他們奉祀的這尊神明被視為醫神，村民及附近聚落的移民若水土不服、生病，就會來祭拜、求藥籤並祈求健康平安。請問他們奉祀的是哪一位神明？
①保生大帝 ②開漳聖王 ③三山國王 ④媽祖。
5. 阿勇和清初來臺的單身男性移民(俗稱：羅漢腳)，初到臺灣時經常在港口從事哪一種工作謀生？
①商品買賣 ②教書講學 ③搬運貨物 ④種植藥材。



6. 阿勇經歷「曾經攻下臺灣 彰化城、諸羅城等地，規模最大的民變事件，但最後還是被鎮壓平定。」請問以上是指哪一項民變？
①朱一貴事件 ②林爽文事件 ③戴潮春事件 ④鄭成功事件。
7. 阿勇也經歷來自不同地方移民群體的閩 粵械鬥，請問，引發械鬥衝突的原因，可能有哪些？
甲、土地界線畫分有疑慮 乙、水源分配不均 丙、風俗習慣不同 丁、語言不同引起誤會
①甲乙丙 ②甲乙丁 ③乙丙丁 ④甲乙丙丁。
8. 臺北市 芝山岩的隘門是直轄市市定古蹟，這個古蹟的出現，反映了阿勇當時哪一種社會狀況？
①漳州人、泉州人共同合作開墾家園 ②發生漳泉械鬥，漳州人為抵擋泉州人所興建的防禦措施
③泉州人很會做生意，建隘門向經過的人收取過路費 ④社會治安不佳，政府興建隘門嚴格管理百姓。
9. 多年後，阿勇接到家鄉的來信，由於家鄉生活依舊貧困，他的弟弟阿武也決定搭船來臺謀生。阿勇深知渡海時的險惡，因此他向人打聽哪裡有祭拜海上的守護神的廟宇，請問，阿勇該向何者祈求平安？
①開漳聖王 ②保生大帝 ③三山國王 ④媽祖。
10. 阿勇後來在村民的介紹下與平埔族女子結婚生子，最大的遺憾是自己不識字，因此在兒子滿六歲時，他想送兒子去上學，他希望兒子念祖能識字懂禮，所以想送他上學。這時鄰鎮有間私人開辦的學校，他便讓念祖前往就讀。他打聽了一下，附近有家由私人開辦的學校，願意招收農家子弟，因此他帶著兒子前去拜師入學。請問，當時這種最普及的私人興辦的學校稱為什麼？
①府學 ②書院 ③私塾 ④縣學。
11. 承上題，念祖上學時不可能使用哪些教材？
①羅馬拼音與新港文書 ②千字文 ③百家姓
④三字經。
12. 過了一百二十多年後，到了西元 1812 年，與阿勇同鄉的數名青年，因為家鄉仍然貧困、討生活不易，決定一同渡海到臺灣發展，但仍等了一年才取得政府的批准。這幾名青年最後落腳於臺北盆地一帶。請問這是屬於哪一個行政區所管轄？
①臺灣縣 ②澎湖廳 ③淡水廳 ④鳳山縣。

【請翻開第 2 頁，繼續作答】

《第二站》、綜合題：（選擇題 2 分，共 44 分）

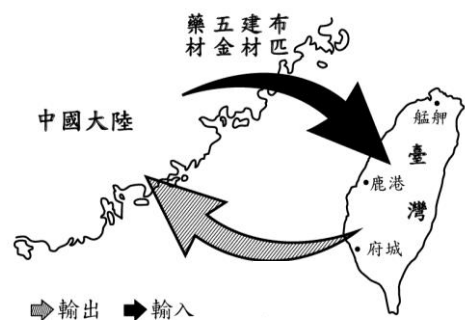
1. 吳沙帶領許多移民共同開墾宜蘭平原，以 1812 年的行政區來看，請問宜蘭平原屬於哪一個行政區管轄？ ①鳳山縣 ②嘉義縣 ③噶瑪蘭廳 ④淡水廳。

2. 在彰化縣的二水鄉，有一個傳承三百多年歷史的跑水祭，其由來是為了感念先人尋找灌溉水源、興築水圳的恩德，同時也向上天祈求來年能風調雨順、生產豐收。因此祭典每年都在這座清代全臺規模最大的水利工程處舉辦，近幾年更演變為跑水節活動。從以上說明推測，這座水圳指的是臺灣的哪一座深具歷史意義的水利工程？

①八堡圳 ②白冷圳 ③瑠公圳 ④曹公圳。

3. 拜登的社會筆記裡畫了一張關於清代的圖，但是他漏了從臺灣輸往中國大陸的主要商品，請問他應該補上什麼？

- ①稻米、茶葉
②茶葉、蔗糖
③鹿皮、稻米
④稻米、蔗糖。



4. 請閱讀文章並回答問題。

「一語道出千古事，十指搬弄百萬兵。」爺爺是傳統戲曲的操偶師傅，他最喜歡拿著手偶，講歷史故事給我聽。爺爺說，農曆二月十九日是觀世音菩薩誕辰紀念日，他得好好準備這場戲，讓觀眾和神明都看得歡喜。

- (1) 請問文章中提到的「傳統戲曲」是什麼？

①歌仔戲 ②布袋戲 ③採茶戲 ④傀儡戲。

- (2) 爺爺要演出的地點可能位於何處？

①新北市 林本源園邸 ②臺北市 龍山寺
③臺中市 磺溪書院 ④新竹縣 金廣福公館

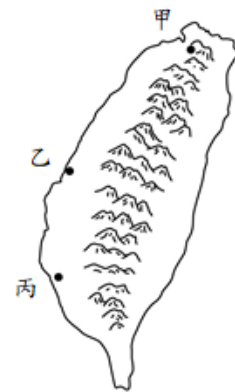
- (3) 我們進出廟宇時，要以人面對廟宇方向的（ ）邊進、（ ）邊出呵！（2 分）

5. 清末進財一家人住在臺灣的北部，請將他可能遇到的生活情形在□中打✓（每答 1 分，共 8 分）

- ☐ ①進財在理學堂大書院讀書。
☐ ②進財生病時會到看西街醫館看病。
☐ ③進財去貴德街附近可以看到許多洋行。
☐ ④進財走過安平港邊時，可能會看到船隻、貨物往來興盛的情形。
☐ ⑤進財的姐姐在大稻埕從事揀茶的工作。
☐ ⑥進財的爸爸是工人，要到山上砍伐樟木。
☐ ⑦進財可以閱讀每天出版的臺灣府城教會報。
☐ ⑧進財住家的附近，可能有寺廟也有教堂。

6. 清代時臺灣與中國大陸通航，當時有些港口快速繁榮起來，請對照右圖，將名稱和代號填寫出來。（4 分）

府城指的是現在的（ ）市，位於圖中的（ ）。



7. 清代末期，陸續發生強國侵擾臺灣的事件，清廷也被迫做出因應措施。請將下列相關的歷史事件，依發生的先後順序排列？ 甲、日本侵臺發生牡丹社事件 乙、清廷被迫開放臺灣港口 丙、法軍侵臺事件 ①甲→乙→丙 ②乙→甲→丙 ③甲→丙→乙 ④丙→乙→甲。

8. 清代時，臺灣被迫開放了通商港口後，帶來什麼影響？ ①漢人與原住民的衝突更激烈 ②臺灣又中斷了與世界各國的接觸 ③清廷頒布限制漢人來臺灣的規定 ④經濟重心由南部逐漸移至北部。

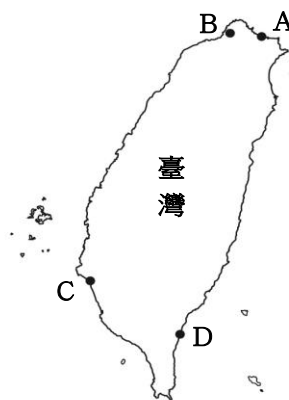
9. 假日時，梅根和家人去走了一段八通關古道，沿途上，爸爸告訴她許多八通關古道的歷史，回到家後，她從網路上下載了一張地圖，並記下筆記，下列哪一項內容可能是梅根寫錯的？

- ①是當時貫通臺灣北部、南部的主要道路
②由清代 沈葆楨修築八通關古道
③經過南投縣、花蓮縣
④開通之後，居民們的貨物運輸更為頻繁。

10. 錢老爺是清末住在臺灣北部的商人，他聽說火車的速度很快，因此想利用火車到各地經商。請問：如果錢老爺想要坐火車，他只能搭乘哪一段鐵路？ ①宜蘭到臺北 ②臺北到臺中 ③基隆到新竹 ④新竹到臺中。

11. 杰倫在社會筆記上寫著：「英國與法國利用戰爭，迫使清廷開放臺灣四處為通商港口」，並在臺灣地圖中標示位置，請問哪一個位置錯誤？

- ①A ②B
③C ④D。



12. 請閱讀文章並回答問題。

西元 1885 年，清廷將臺灣單獨設省，並任命劉銘傳為第一任巡撫。
劉銘傳在臺灣推動了許多現代化的建設，使得臺灣人民的生活更加的便利，成為當時在清廷統治下最進步的地區之一。

【請翻開第 3 頁，繼續作答】

新 北 市 板 橋 區 莒 光 國 民 小 學 109 學 年 度 第 二 學 期 第 一 次 定 期 考 查 試 題 答 案 卷												
科 目	社 會	命 題 老 師	李居美	年 級	五 年 班	座 號		姓 名		成 績		家 長 簽 章

- () (1) 清廷將臺灣單獨設為臺灣省，是受到哪個事件的影響？ ①鄭成功發動攻勢，反清復明 ②清廷與法國爆發戰爭 ③日本侵臺發生牡丹社事件 ④漢人與原住民族頻頻發生衝突。

(2) 哪些是屬於劉銘傳在臺灣的治理建設項目，請在正確的□內打✓。（每答1分，共8分）

- ☐ ①鋪設電報線、開辦郵政。
☐ ②興築億載金城。
☐ ③清查土地，增加賦稅收入。
☐ ④增設恆春縣和臺北府。
☐ ⑤創辦新式學堂，培育人才。
☐ ⑥廢除清初以來種種限制人民來臺的禁令。
☐ ⑦調整行政區以加強統治
☐ ⑧在臺北初設電燈。

《第三站》、生產與消費（每答2分，共32分）

- () 1. 鮭魚的爸爸是漁民，每天出海捕魚，將捕撈的漁獲販賣給餐廳、消費者，請問鮭魚爸爸從事工作時屬於下列哪一種身分？
 ①生產者 ②消費者 ③投資者 ④不屬於以上任何一種身分。

- () 2. 消費購物時，除了審慎評估能力，也要明辨廣告內容，下列哪一項物品的廣告內容可能含有誇大不實的效果？①巧克力 ②珍珠奶茶 ③軟糖 ④維他命。

廣告商品	廣 告 內 容
巧克力	<u>胖球</u> 巧克力，放鬆自在有活力。
珍珠奶茶	感到低落嗎？來一杯 <u>友獨珍</u> 奶。
軟 糖	<u>熊肥</u> 軟糖含在口，幸福在心頭。
維他命	<u>壯壯</u> 維他命，讓你身高一百八。

- () 3. 敬騰是一間包子店的老闆，最近天氣熱，買包子的人變少，所以他決定少做一點包子、多做一些冰豆漿，敬騰之所以這樣決定的原因是什麼？ ①配合政府的法令 ②考慮成本不斷上漲 ③考慮消費者的需求 ④評估自身的優勢。

- () 4. 近平升上五年級，原本的學校制服已經穿不下了，媽媽幫他購買新的制服。媽媽考慮的因素是下列何者？ ①流行時尚 ②價格優惠 ③環保商品 ④實際需要。

- () 5. 台中市 霧峰區農會取得全國第一號米產品碳標籤，在生產過程中做到減少二氧化碳，降低環境的負擔，被視為環保產品。我們應該選擇貼有哪一種標籤的白米？



- () 6. 紀錄片《看見臺灣》中，空拍的景象揭發多起臺灣工廠造成環境汙染的事件，這是因為生產者在從事生產時，忽略了哪一項？ ①消費者的責任 ②生產者的責任 ③消費者的期待 ④生產前的成本計算

- () 7. 請閱讀文章並回答問題。

在特別的節日，我們常準備許多禮物表達心意，但你知道嗎？有許多的禮物可能不合用，也可能只是一時流行，最後被堆積在角落。想一想，我們如何能讓過節更有意義，而不是只用『消費』來慶祝過節。

以上內容說明何者的重要性？ ①要注重消費者的權益 ②消費前應審慎思考 ③消費方式多元又便民 ④廣告促銷會影響消費行為。

8. 請閱讀文章並回答問題。

芊芊的媽媽上星期從網路購買了一支手機。昨天，媽媽接到了一通電話。「您好，您有在本公司購買手機，很抱歉因系統出錯，設定為12個月連續扣款，請您至提款機解除定期扣款的設定……」，芊芊聽了媽媽的轉述後，想起老師曾在課堂上分享的詐騙案例...

- () (1) 芊芊的媽媽收到手機後，隨即打開檢查，若她發現有瑕疵的狀況，應憑什麼物品向廠商請求處理？ ①購物網頁 ②購買發票 ③信用卡 ④網路宅配單
- (2) 芊芊的媽媽接到疑似詐騙電話，她可以撥打「()反詐騙諮詢專線」求證，避免受騙。(請填電話號碼)

【請翻開第4頁，繼續作答】

*請將《第1-2頁》的答案，依序寫在表格裡；
《第3-4頁》請直接填答。

《第一站》、題組題：（每題2分，共24分）

1.	2.	3.	4.
5.	6.	7.	8.
9.	10.	11.	12.

《第二站》、綜合題：（選擇題2分，共44分）

1.	2.	3.	4. (1)
4. (2)	4. (3) () 邊進、() 邊出		
5. ① <input type="checkbox"/>	② <input type="checkbox"/>	③ <input type="checkbox"/>	④ <input type="checkbox"/>
⑤ <input type="checkbox"/>	⑥ <input type="checkbox"/>	⑦ <input type="checkbox"/>	⑧ <input type="checkbox"/>
6. () 市，圖中的()			7.
8.	9.	10.	11.

9. 請閱讀文章並回答問題。

聰明最喜歡趁著大促銷時，用信用卡在網路商店購買許多優惠商品放在家裡，但也因為如此，所以家中囤積了許多用不到的物品。
這個月聰明收到了帳單，他才發現自己無法繳清所有的刷卡費用，不但讓生活受到影響，也使自己的信用受損，聰明非常後悔，並開始反省自己的消費方式。

- () (1) 如果聰明長期無法繳清卡費，且在未來有資金需求的話，可能會發生什麼狀況？
①銀行會調高聰明的存款利息
②銀行不願意借資金給聰明
③銀行會撥打1950請求協助
④銀行再發另一張信用卡給聰明。
- () (2) 衝動消費的卡債族聰明可以如何改善他的消費行為？
①有備無患，先買先享受
②盡情刷卡，當個精明消費者
③三思而後行，先購買需要的物品
④只要網路有廣告促銷一定要大量購買才划算。

10. 請閱讀文章並回答問題。

婕妤從小對於製作各種點心非常有興趣，所以進入餐飲學校就讀。畢業後曾在飯店的餐飲點心部實習，實習結束後她存了一筆錢，並進行點心的市場調查，調查後發現，市場上雖然已有點心烘焙屋，但點心市場仍然處於供不應求的狀況，所以她與擁有生產設備的朋友一起向銀行申請創業貸款，開設了一家點心烘焙屋，實現了從小立下的志願。

- () (1) 哪一項不是 婕妤開設點心烘焙屋擁有的優勢？
①市面上還沒有點心烘焙
②具有製作點心的專業技巧
③擁有在餐飲點心部的實習經驗
④與擁有生產設備的朋友一起創業。
- () (2) 下列哪一項不是 婕妤開設點心烘焙屋需要付出的生產成本？
①店面的租金
②員工的薪資
③點心烘焙屋每個月的水電費
④點心烘焙屋每日的利潤。
- () (3) 婕妤開設烘焙屋之前，發現購買製作餅乾的機器價格高昂，但她本身具有製作餅乾的技術，因此決定採用手工生產的方式。請問，婕妤做出這樣的決定與那些原因有關？
甲、資金 乙、學歷 丙、專長技術 丁、就業經驗
①甲乙丙丁 ②乙丙丁
③甲乙 ④甲丙。
- () (4) 在其他狀況不變的情況下，由於製作點心的原物料價格上漲，導致點心烘焙屋獲得的利潤減少。在顧及生產者應盡的責任和義務的前題下，婕妤 不應該嘗試以下哪一種提升利潤的做法？
①使用便宜的劣質原物料生產點心
②提高產品售價
③發揮巧思開發符合消費者需求的新產品
④節省各項開支。
- (5) 婕妤開設的點心烘焙屋生意日漸興隆，在獲取利潤後她想要發揮「取之於社會，用之於社會」的回饋精神，請你幫她想一個好方法。(2分)



【恭喜你完成試卷，請再仔細檢查喔！】