

新北市板橋區莒光國民小學 109 學年度第二學期第一次定期評量試題											
科目	數學	命題老師	領域小組	年級	二年 班	座號		姓名		成績	家長簽章

一、選出正確的答(每題 2 分，10%)

() 1. 關於「906」哪一個說法正確？

- ①讀作「九百六」
 ②是 9 個百和 6 個一合起來的
 ③讀作「九百六十六」
 ④是 9 個百和 6 個十合起來的

() 2. 「56+283」用直式計算，哪一個計算的方式是正確的？

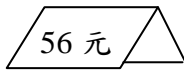
- ①
$$\begin{array}{r} 1 \\ 56 \\ + 283 \\ \hline 249 \end{array}$$
 ②
$$\begin{array}{r} 1 \\ 56 \\ + 283 \\ \hline 843 \end{array}$$

 ③
$$\begin{array}{r} 1 \\ 56 \\ + 283 \\ \hline 339 \end{array}$$
 ④
$$\begin{array}{r} 11 \\ 56 \\ + 283 \\ \hline 349 \end{array}$$

() 3. 估估看，右圖的杯子大約是幾十元？



- ①約 60 元 ②約 50 元
 ③約 40 元 ④約 30 元



() 4. 生活中，哪些物品可能比 1 公尺長？

- ①膠水 ②彩色筆
 ③跳繩 ④剪刀

() 5. $1\square4=4$ ， \square 中要填入 +、- 或 \times ，才能成為正確的算式？

- ①+ ②- ③ \times ④都不對

二、寫出直式算算看(每題 3 分，12%)

① $368 + 71 = ()$ ② $573 + 189 = ()$

③ $529 - 362 = ()$ ④ $234 - 64 = ()$

三、連連看(每個答(每題 2 分，8%)

每個數中的 7 是表示多少？

- 375 ● 7 個一
 817 ● 7 個十
 759 ● 7 個百
 407 ●

四、做做看(每個答(每題 2 分，34%)

1. $401 - 400 = () - 398 - 397$

2. 8 個百和 16 個十合起來是()。

3. 比比看，在 \square 裡填入 $>$ 或 $<$ ：

240 \square 420 \square 998 \square 989

3 公尺 30 公分 \square 333 公分

4. 用 0 9 4 2 6 數字卡排出最小的三位數是()，最大的三位數是()。

5. 圈出合理的答案：

(1) 妹妹的身高大約是 100 (公尺， 公分)。

(2) 黑板的長度大約是 4 (公尺， 公分)。

6. 一條繩子長 6 公尺 9 公分，可以說()公分。

7. 一條緞帶長 870 公分，可以說()公尺()公分。

8. 小明和小光參加跳遠比賽，小明跳了 1 公尺 95 公分，小光跳了 159 公分，請問誰跳得比較遠？

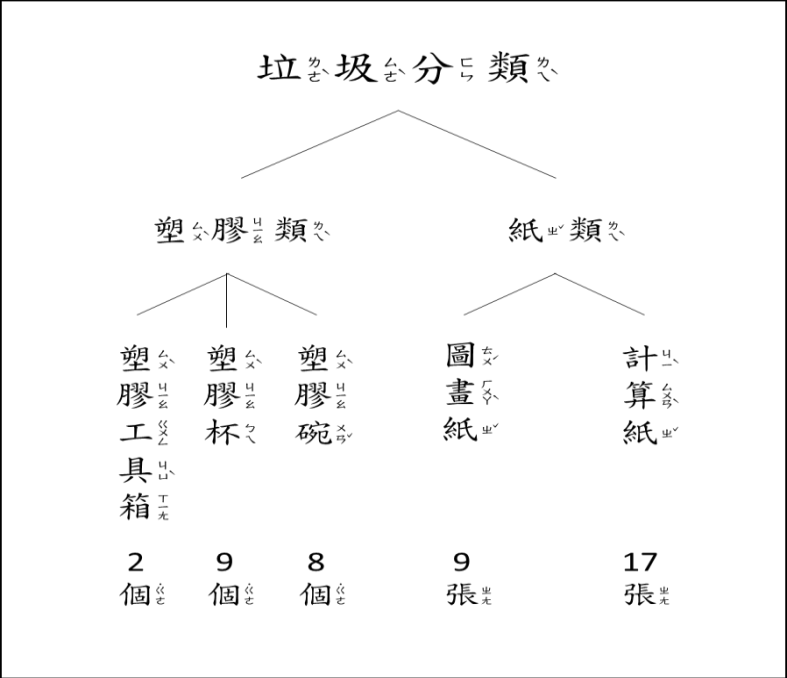
答：()

9. 請在括弧中填入正確的數字：

() $\times 9 = 0$ $1 \times () = 5$
 $10 \times 8 = ()$ $17 \times 6 = () \times 17$

五、看圖回答問題(每個答案 2 分，16%)

生活課減塑大戰中，發現了地球上有許多動物都因為過多的塑膠垃圾而受到傷害，莒光國小二年 19 班決定一起當減塑小達人，將教室的垃圾分類回收，我們一起來看看他們的分類紀錄吧！



- 1. 班上垃圾分類分成()類和()類。
- 2. 塑膠類中有塑膠工具箱、塑膠杯和()。
- 3. 塑膠類中垃圾數量最多的是()。
- 4. 在紙類中圖畫紙有()張，計算紙有()張，紙類中共有()張紙。
- 5. 塑膠類中，塑膠碗比塑膠杯少()個。

六、炭治郎和禰豆子要去拜訪義勇，請你回答下列問題，協助他們找到義勇吧！（每題 4 分，20 %）

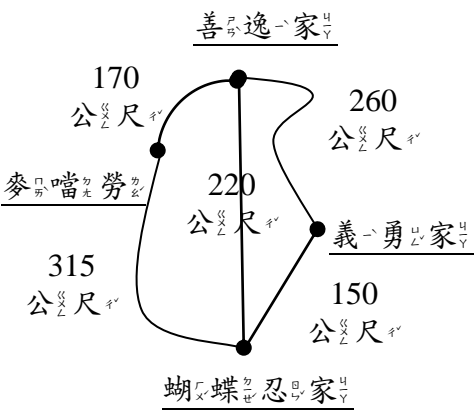
- 1. 出門前，炭治郎和禰豆子要先幫師父搬樹枝，兩人總共搬了 529 根樹枝，炭治郎搬了 272 根，請問禰豆子搬了幾根樹枝？

答：()根

- 2. 路途中，肚子餓的兩個人到了麥噹勞買午餐，一份大套餐 109 元，一份小套餐 97 元，各買一份，請問要付多少元？

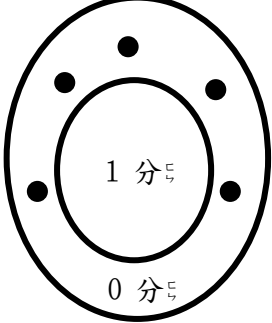
答：()元

- 3. 炭治郎從麥噹勞出發，路上還想去善逸跟蝴蝶忍家，最後再去義勇家。請幫炭治郎找出最短距離並算算共要走多少公尺？



答：()公尺

- 4. 到了義勇家，義勇邀請炭治郎玩投球遊戲，下面是炭治郎的投球結果，請問他獲得了幾分？（請用乘法算式表示）



答：()分

- 5. 回家前，義勇準備了小點心要送給炭治郎，一盒鳳梨酥有 10 塊，義勇送給炭治郎 3 盒，請問炭治郎拿到幾塊鳳梨酥？

答：()塊