
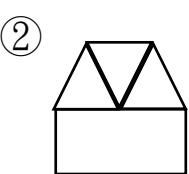
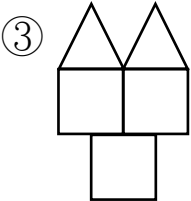



一、選出正確的答案。(每題 2 分) 10%




- 下面哪一個算式的和是 11？
① $5+7=$ ② $3+8=$ ③ $7+2=$
- 用 3 個三角形、2 個正方形，可以拼出哪一個圖形？
①  ②  ③ 
- 18 隻胖丁比 9 隻胖丁多幾隻胖丁？
① 9 隻 ② 8 隻 ③ 10 隻
- 下面哪個說法是正確的？
① 89 比 98 大 ② 50 少 1 是 51 ③ 63 比 73 小
-  2 枝鉛筆跟幾個迴紋針一樣長？
① 4 個 ② 6 個 ③ 8 個

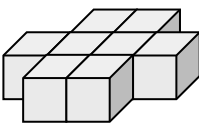
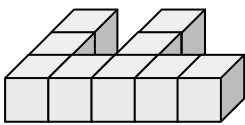
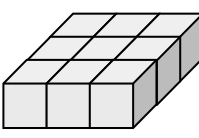
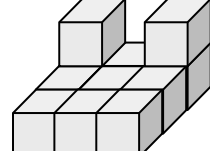
二、填填看看。(每格 2 分) 34%

- 按照順序填填看
 $50 \rightarrow () \rightarrow 54 \rightarrow () \rightarrow 58 \rightarrow 60$
- 想一想，填一填：

(1) $4+6=10$	(2) $12-5=7$
$4+7=()$	$13-5=()$
$4+8=()$	$14-5=()$
- 在 $11-2=9$ 的算式中，被減數是 ()，差是 ()。
- 3 個十和 13 個一合起來的二位數是 ()。

- 有一個二位數，它比 71 小，十位數字是 7，這個二位數是 ()。
- 每一個格子都一樣大，最長的鉛筆請打 \checkmark ，最短的鉛筆請打 \times 。

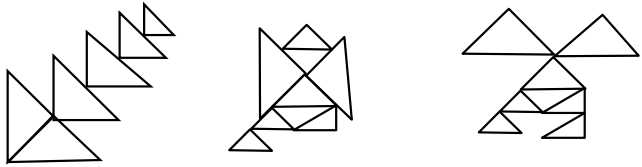
	()
	()
	()
- 下面哪些是用 9 個組成的？請在 () 內打 \checkmark 。

(1)  ()	(2)  ()
(3)  ()	(4)  ()

三、連連看看。(每線 2 分) 14%

- 把相同答案的算式連起來：

$11-4$	$5+7$	$9+6$	$18-5$
●	●	●	●

$20-7$	$2+5$	$8+4$	$18-3$
●	●	●	●
- 把正確的三角形數量連起來：


6	8	9
●	●	●

四、看圖回答問題。
(每題 2 分) 26%




- 一個鉛筆盒和 () 個橡皮擦一樣長。
- 一枝鉛筆和 () 個橡皮擦一樣長。
- 一個鉛筆盒和 () 枝鉛筆一樣長。

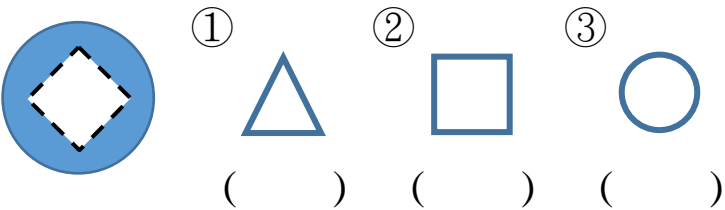
2. 請依照 51~90 的百數表，回答問題。

51	52	53	54	55	56	57	58	59	60
61	62	♥	64	65	66	67	68	69	☾
☼	72	73	74	75	76	77	78	79	80
81	82	83	84	85	86	87	88	☾	90

- 寫出百數表中符號所代表的數：
♥ 是 () ☾ 是 ()
☼ 是 () ☾ 是 ()
- 從 52 這一排往下讀，個位數字都是 ()。
- 屁屁偵探想去城堡探險，請看圖填入代號：



- () 的路線最長。
- () 的路線最短。
- 剪下的是哪一個圖形？
在 () 中打✓。



五、寫出算式做做看。
(每題 4 分) 16%

1. 春天來了，悅讀園旁的杜鵑花原本開了 7 朵白花，後來又開了 8 朵紅花，請問一共開了幾朵花？

算式：_____

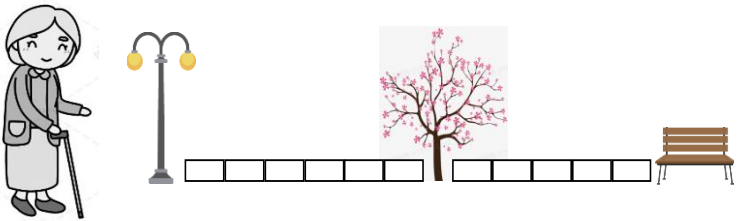
答：一共開了 () 朵花

2. 豬排有 9 張遊戲卡，蜥蜴有 4 張遊戲卡，兩隻小夥伴合起來有幾張遊戲卡？

算式：_____

答：共有 () 張遊戲卡

3. 奶奶到八德公園散步，從路燈開始走，經過櫻花樹下再走到椅子，奶奶共要走幾個 ？



算式：_____

答：共要走 () 個

4. 爺爺買了 13 瓶養樂多，小丸子每天喝一瓶，7 天後，還有幾瓶養樂多？

算式：_____

答：還有 () 瓶養樂多

