


新北市板橋區莒光國民小學 110 學年度第二學期第二次定期評量測驗

科目	數學	命題老師	領域教師	年級	一年	班	座號	姓名	成績	家長簽章
----	----	------	------	----	----	---	----	----	----	------

一、選出正確的答案。

(每題 2 分) 10%

1. ( 2 ) 如果今天是一星期，那昨天是星期幾？  
 ① 星期五 ② 星期六  
 ③ 星期一
2. ( 1 ) 下面是一百數表的部份，請問小鳥遮住哪一個數字？

44	45	46
54	55	
64	65	66


- ① 56 ② 57 ③ 58
3. ( 2 ) 爸爸買了 1 瓶 36 元的可樂，請問爸爸要用幾個 10 元錢幣來付才夠？  
 ① 3 個 ② 4 個 ③ 5 個
4. ( 2 ) 媽媽和姐姐在包水餃。媽媽包了 35 顆，媽媽比姐姐多包 16 顆水餃，請問姐姐包了幾顆水餃？  
 ① 51 顆 ② 19 顆 ③ 21 顆
5. ( 3 ) 16 個一和 6 個十，合起來是？  
 ① 22 ② 66 ③ 76

二、畫畫看看、圖圖看看。

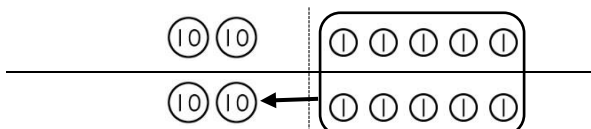
(每答 3 分) 12%

1. 畫畫和做做看看

- (1) 小明想要買一盒 74 元的餅乾，要如何付錢才剛好？




- (2)  $25 + 15 = ( 40 )$



- (3)  $46 - 3 = ( 43 )$



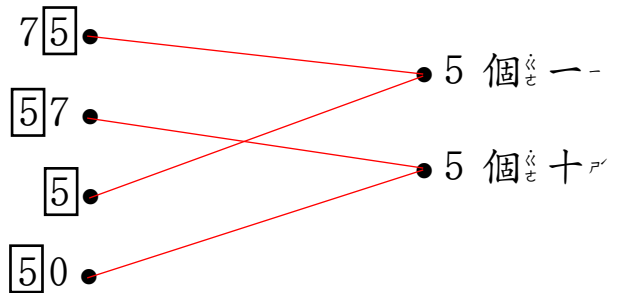
2. 爺爺給小如 59 元，奶奶又給她 9 元，小如共有幾元？請在下圖圈出來並寫出答案。



答：( 68 ) 元

三、連連看看。(每答 2 分) 8%

每個數中的 5 是表示多少？



四、做做看看。(每答 2 分) 34%

1.  $53 - ( 63 ) - 73 - 83$
2.  $( 100 ) - 98 - 96 - 94$
3.  $65 - 70 - ( 75 ) - 80$
4. 有一個數字比 70 大又比 80 小，十位數字加個位數字是 12，請問是哪一個數字？ 答：( 75 )
5. 請在括弧裡把比較小的數打√。

(1)	(2)
65      56	88      90
(   ) ( √ )	( √ ) (   )

6. 請在 (   ) 中寫出定位板上最大和最小的二位数。

十位	個位
6	?

最大數字：( 69 )

最小數字：( 60 )

7. 小真帶 50 元去買點心，她可以買哪一些買法？(請在 ☐ 中打 ☒，答案不只一個喔！)

☒ (1) 一盒 35 元的布丁。

☐ (2) 一包 51 元的餅乾。

☒ (3) 一個 29 元的麵包。

8. 小美想買一個 100 元的玩具，填填看。

(1) 用  來付，要付 ( 1 ) 張

(2) 用  來付，要付 ( 2 ) 個

(3) 用  來付，要付 ( 10 ) 個


9. 請將奇奇一家人的生日，按照一年中的先後順序，在下面的表格裡填入代號 1、2、3、4。

爸爸	3 月 19 日	1
媽媽	10 月 2 日	3
奇奇	12 月 5 日	4
弟弟	7 月 30 日	2

五、看圖回答問題。


(每答 2 分) 16%

1. 尼爾



( 63 ) 元

潔妮



( 36 ) 元

(1) 他們兩個人的錢合起來總共有 ( 99 ) 元。

(2) 尼爾和潔妮兩個人帶的錢，夠不夠一起買 97 元的玩具？( 夠 / 不夠 )。

2.

日	一	二	三	四	五	六
			1	2	3	4
5	6	7	8	9	10	11
12	13	14	15	16	17	18
19	20	21	22	23	24	25
26	27	28	29	30		

(1) 學校安排在 6 月的最後一天要大掃除，日期是 6 月 ( 30 ) 日星期 ( 四 )。

(2) 大掃除的前一天要帶袋子來裝學用品，所以我在 6 月 ( 29 ) 日星期 ( 三 ) 要帶袋子去學校。

六、寫出做法和答案。

(每題 4 分) 20%

1. 小杰到超市買了 43 杯奶茶和 26 杯紅茶，他一共買了幾杯飲料？

算式：  $43+26=69$

答： ( 69 ) 杯

2. 小杰到了麵包店時，架子上原本有 68 個麵包，前一位客人買走了 41 個，還剩下多少個麵包？

算式：  $68-41=27$

答： ( 27 ) 個

3. 回家前，小杰還買了 50 顆蘋果，一不小心撞壞了 18 顆，還剩下幾顆蘋果沒有被撞壞？

算式：  $50-18=32$

答： ( 32 ) 顆

4. 奶奶包了 9 顆肉粽和 36 顆甜粽，奶奶總共包了幾顆粽子？

算式：  $9+36=45$

答： ( 45 ) 顆

5. 小杰有 77 張寶可夢貼紙，因為今天認真幫忙，媽媽又送他 15 張，小杰現在有幾張貼紙？

算式：  $77+15=92$

答： ( 92 ) 張

