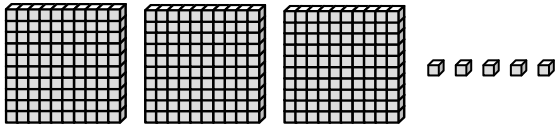




新北市板橋區莒光國民小學 108 學年度第二學期第一次定期評量試題													
科目	數學	命題老師	陳桂芬	年級	二年	班	座號		姓名		成績		家長簽章

一、選擇題(共 12 分)

- ( ) 901 的讀法是下列哪一個？  
 ① 九零一 ② 九百一  
 ③ 九百零一
- ( ) 一個漱口杯裝 10 cc 的漱口水，3 個漱口杯裝多少 cc 的漱口水，下列哪一個算式是錯的？  
 ①  $10 \times 3 = 30$  ②  $3 \times 10 = 30$   
 ③  $10 + 10 + 10 = 30$
- ( ) Forty 比 小莒 高，小莒 身高 136 公分，小光 身高 1 公尺 30 公分。他們三人，誰最高？  
 ① Forty ② 小莒 ③ 小光
- ( ) 數數看，有多少？  
  
 ① 315 ② 305 ③ 350
- ( ) 教室掃具櫃的高度比 1 公尺長還是短？  
 ① 跟 1 公尺一樣長  
 ② 比 1 公尺長  
 ③ 比 1 公尺短
- ( ) 比 699 多 1 的數是多少？  
 ① 698 ② 700 ③ 701

二、填填看(共 23 分)

1. 按照數的順序填填看。

- 
- 

- $10 \times 8$  比  $10 \times 2$  多 ( ) 個 10，是多 ( )。
- 5 公尺 6 公分是 ( ) 公分。
- 裡的數字是多少？  
 (1)  $\square 59 > 879$  (2)  $5\square 7 < 512$   
 □ 是 ( ) □ 是 ( )  
 (3)  $0 \times 9 = \square$  (4)  $1 \times \square = 10$   
 □ 是 ( ) □ 是 ( )
- 先將 10 顆糖果裝成 1 袋，再將 10 袋糖果裝成 1 盒。  
 (1) 1 盒有 ( ) 顆糖果。  
 (2) 7 盒又 3 袋共有 ( ) 顆糖果。  
 (3) 小莒 買了 1 盒又 6 袋，小光 買了 4 袋，兩人共買了 ( ) 盒，共有 ( ) 顆糖果。  
 (4) 580 顆糖果最多可以裝 ( ) 盒，剩下 的 可以裝成 ( ) 袋。

三、在 ( ) 裡填入「公尺」或「公分」。(共 8 分)

- 門的寬度大約是 1 ( )。
- 哥哥的身高大約是 137 ( )。
- 毛毛蟲身長大約是 5 ( )。
- 操場兩圈是 400 ( )。

四、寫成直式做做看。(共 12 分)

- $4 \times 9 = ( )$       2.  $8 \times 7 = ( )$
- $539 - 472 = ( )$       4.  $617 + 284 = ( )$

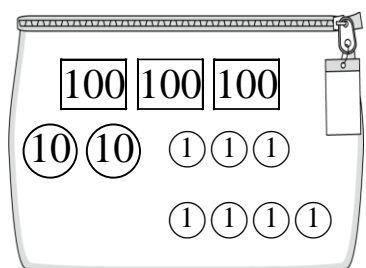
五、在□填入「>」、「<」或「=」。

(共 12 分)

1.  $631$  □  $613$
2.  $0 \times 7$  □  $0 \times 5$
3.  $46 + 27$  □  $100 - 27$
4.  $62$  □ 6個百2個十
5. 20公 $\frac{1}{2}$ 尺 □ 200公 $\frac{1}{2}$ 分
6. 503公 $\frac{1}{2}$ 分 □ 5公 $\frac{1}{2}$ 尺30公 $\frac{1}{2}$ 分

六、寫出算式，做做看看。(共 20 分)

1. 哥哥想買一盒 350 元的彩色筆，他不夠幾元？



2. 有 147 個人在排隊買口罩，小敏排在第 52 位，排在她的後面的人有幾個？

3. 一條緞帶長 280 公分，小美買了 2 條緞帶，2 條緞帶共長幾公分？

4. 一個信封裡有 0 張卡片，有 7 個信封，共有幾張卡片？

5. 一顆哈密瓜和 5 顆蘋果一樣重，一顆蘋果和 3 顆檸檬一樣重，一顆哈密瓜和幾顆檸檬一樣重？

七、先算什麼？再算什麼？

做做看看。(共 8 分)

1. 有一條繩子，第一次用掉 125 公分，第二次用掉 175 公分，剩下 100 公分，這條繩子原來有幾公分？

2. 一頂帽子賣 481 元，比一條圍巾多 26 元，帽子和圍巾合起來賣多少元？

八、老師用算式出了一道謎語，

每一個算式代表一個國字，請把正確的國字填入空格裡。(共 5 分)

$0 \times 7 \rightarrow$  趣       $163 + 37 \rightarrow$  數  
 $1 \times 6 \rightarrow$  學       $846 - 65 \rightarrow$  真  
 $10 \times 2 \rightarrow$  有

200	6	781	20	0

