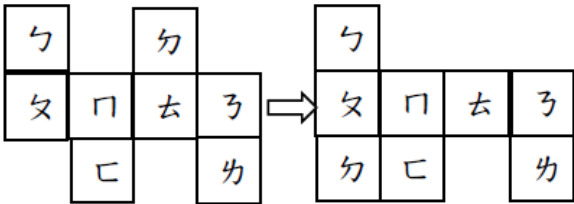


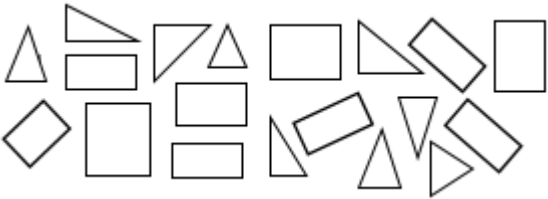
新北市板橋區莒光國民小學 108 學年度第二學期第一次定期評量試題											
科目	數學	命題老師	領域教師	年級	一年 班	座號		姓名		成績	家長簽章

一、 填填看看(每題 2 分， 共 10 分)

- (1) $8+7=15$ $7+8=(\quad)$
 (2) $4+9=13$ $9+4=(\quad)$
 (3) 請看下圖，移動了哪一塊圖形版本?把代號寫出來。我發現()被移動了!

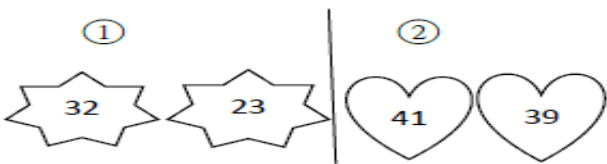


- (4) 將下面的圖形按形狀分成：
 三角形有()個，
 長方形有()個。

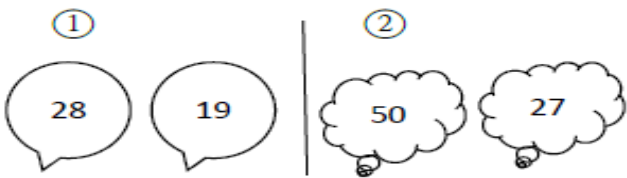


二、 圈圈看看(每題 2 分， 共 16 分)

- (1) 圈出比較大的數。



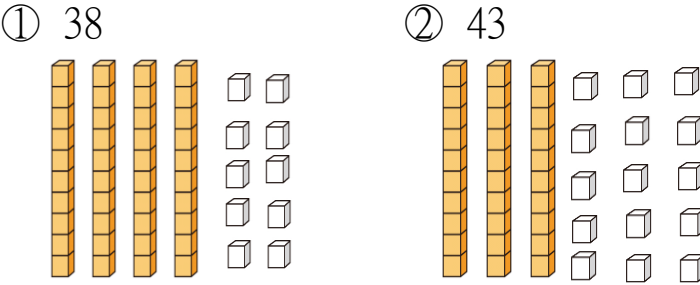
- (2) 圈出比較小的數。



- (3) 老師有 35 根，要分給 31 個學生，一個小朋友分 1 根，夠不夠?
 答: (夠， 不夠)

- (4) 一個箱子可以裝 40 顆蘋果，45 顆蘋果裝得進一個箱子裡嗎?
 答: (可以， 不可以)

- (5) 請圈出和題目數字一樣多的積木



三、 連連看看(每題 2 分， 共 8 分)

把答案一樣式的算式連起來。

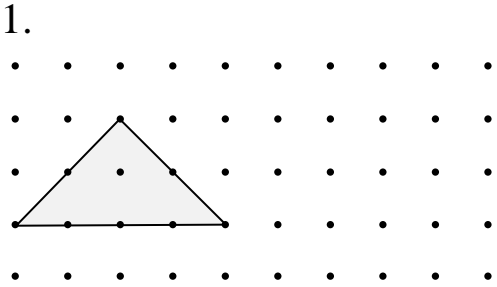
$5+9$	$17-6$
$18-7$	$16-9$
$15-8$	$6+7$
$8+5$	$9+5$

四、 算算看看(每題 3 分， 共 18 分)

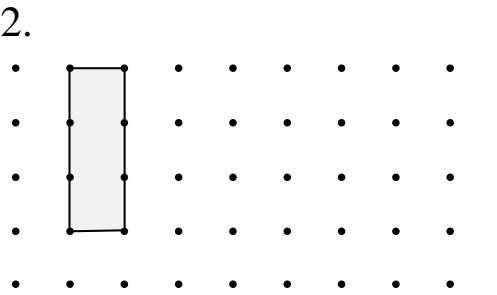
- (1) $13-4=(\quad)$ (2) $9+3=(\quad)$
 (3) $6+8=(\quad)$ (4) $12-7=(\quad)$
 (5) $14-9=(\quad)$ (6) $8+3=(\quad)$

五、 畫畫看看(每題 2 分， 共 8 分)

先畫出和左邊形狀大小一樣的圖形，再寫出圖形的名稱。



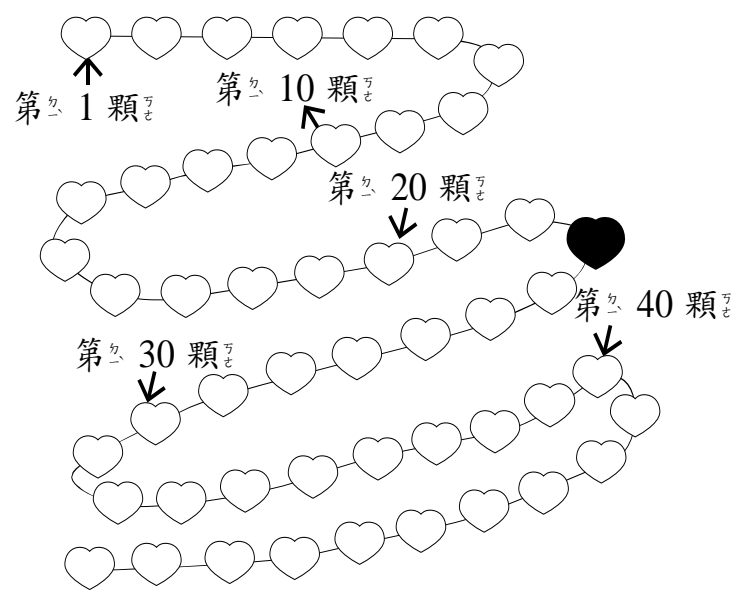
這是()形



這是()形





六、看圖回答問題











1. 數一數，做做看看。(每題 2 分，共 10 分)



- (1) 在第 42 顆心裡打 ☐。
- (2) 黑心排在第 () 個，它的前面有 () 個心。
- (3) 把排在黑心後面第 9 顆，用鉛筆圈起來，它是排在第 () 個。

2. 下表是老師桌上各種圖形的數量，先完成表格，再回答問題。(表格每格 1 分，問題每題 2 分，共 10 分)

			
正正	正正	正正	正正
() 個	() 個	() 個	() 個

- (1) 請圈出數量最多的圖形。
( ,  ,  , )
- (2) 請圈出數量最少的圖形。
( ,  ,  , )
- (3)  比  多 () 個。

七、寫出做法和答案(每題 4 分，共 20 分)

1. 公車上全部有 15 個人，後來有 9 個人下車，請問公車上現在有幾個個人？
算式：

答：() 個人

2. 老師帶了蘋果和橘子，分給小朋友後，蘋果剩下 8 顆，橘子剩下 9 顆，老師還剩下多少顆水果？
算式：

答：() 顆

3. 一個盒子裡有 9 片餅乾，2 個盒子裡有幾片餅乾？
算式：

答：() 片

4. 海邊有 14 個人在游泳，男生有 5 個人，女生有幾個個人？
算式：

答：() 個人

5. 水族箱裡有 7 隻孔雀魚，13 隻小金魚，小金魚比孔雀魚多幾隻？
算式：

答：() 隻