


新北市板橋區莒光國民小學 108 學年度第一學期第二次定期評量試題												
科目	數學	命題老師	張淑芬	年級	二年	班	座號		姓名		成績	家長簽章

一、選擇題(共 12 分)

- (①) 用相同的杯子測量，果汁可以倒滿 9 個，汽水可以倒滿 5 個，汽水的容量比果汁少幾個？
① 4 個 ② 5 個 ③ 9 個
- (③) 毛毛比豆豆重，豆豆比可可重，請問誰最輕？
① 豆豆 ② 毛毛 ③ 可可
- (③) $8 \times 3 = 24$ 算式中，哪一個數是積？ ① 8 ② 3 ③ 24
- (②) 9×6 的意思是代表 ① 9 加 6 ② 9 的 6 倍 ③ 6 的 9 倍。
- (②) 媽媽從下午 4 點看電影到下午 6 點，媽媽看電影花了幾小時？ ① 1 小時 ② 2 小時 ③ 3 小時
- (③) 鐘面上分成 12 大格，分針走 2 大格是幾分？
① 2 分 ② 5 分 ③ 10 分

二、填填看看(共 22 分)

1. 看圖填填看看：



- (1) 2 根香蕉和 (8) 顆蘋果一樣重。
 - (2) 1 顆鳳梨和 (5) 根香蕉一樣重。
 - (3) 1 顆鳳梨和 (20) 顆蘋果一樣重。
2. 一把剪刀 27 元，一本筆記本 49 元，小玲兩樣都買，最少要準備 (8) 個十元。

- 現在是下午 5 點，3 小時前是下午 (2) 點。
- 媽媽從下午 6 點開始煮晚餐，煮好晚餐時，長針正好走了 7 大格。
(1) 媽媽花了 (35) 分鐘煮晚餐。
(2) 媽媽煮好晚餐的時間是下午 (6) 點 (35) 分。
- 8 的 6 倍比 8 的 9 倍少 (24)。
- 4×8 比 4×4 多 (4) 個 4，是多 (16)。

三、正確的打√。(共 8 分)

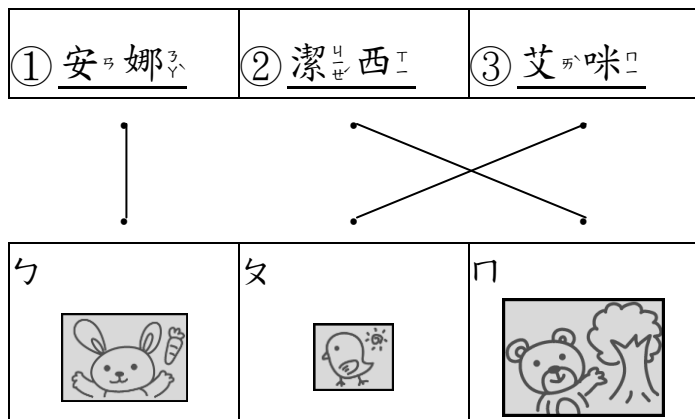
- 哪些是表示 $2 + 2 + 2 + 2 + 2 + 2$?
(√) (1) 2×6 () (2) 6 有 2 個
() (3) 6×2 (√) (4) 2 有 6 個
- 哪些是表示 5 的 3 倍？
() (1) $5 + 3$ (√) (2) $5 + 5 + 5$
(√) (3) 5×3 () (4) $3 + 3 + 3 + 3 + 3$

四、寫出鐘面上的時刻。(共 8 分)

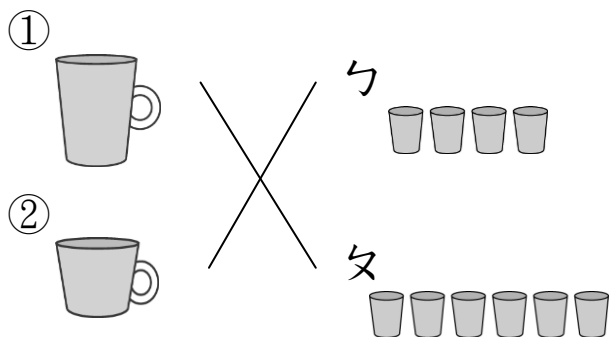
1. (7) 時 (45) 分	2. (8) 時 (30) 分
3. (11) 點 (57) 分	4. (1) 點 (19) 分

五、連連看(共 10 分)

1. 艾咪的卡片比安娜的小，安娜的卡片比潔西的小，潔西的卡片最大，請幫她們找到自己的卡片。



2. 想想看，下列的容器可以倒滿幾杯水？



六、寫出乘法算式和答案。(共 20 分)

1. 哥哥有 9 袋糖果，每一袋有 7 顆，哥哥共有幾顆糖果？

$$7 \times 9 = 63$$

答：63 顆

2. 教室裡黃色粉筆有 9 枝，白色粉筆是黃色粉筆的 3 倍，白色粉筆有幾枝？

$$9 \times 3 = 27$$

答：27 枝

3. 一串花枝丸有 4 顆，媽媽買了 5 串，一共有幾顆花枝丸？

$$4 \times 5 = 20$$

答：20 顆

4. 老師將色紙分給 7 個人，分完後每個人都拿到 6 張色紙，老師本來有多少張色紙？

$$6 \times 7 = 42$$

答：42 張

5. 1 組氣球有 3 顆，琪琪今天賣掉 6 組，她今天共賣掉幾顆氣球？

$$3 \times 6 = 18$$

答：18 顆

七、先算什麼？再算什麼？做看看。(共 20 分)

1. 桌上有 53 瓶果汁，其中柳橙汁有 16 瓶，葡萄汁有 27 瓶，剩下的都是蘋果汁，蘋果汁有幾瓶？

先算： $53 - 16 = 37$

再算： $37 - 27 = 10$

答：(10) 瓶

2. 安安有 28 元，姐姐有 46 元，兩人合買一枝 59 元的毛筆，後，還剩下多少元？

先算： $28 + 46 = 74$

再算： $74 - 59 = 15$

答：(15) 元

3. 農場有 33 隻綿羊，綿羊比山羊多 18 隻，農場中的綿羊和山羊共幾隻？

先算： $33 - 18 = 15$

再算： $33 + 15 = 48$

答：(48) 隻

4. 一個水壺可以倒滿 26 個杯子，3 個相同的水壺可以倒滿多少個杯子？

先算： $26 + 26 = 52$

再算： $52 + 26 = 78$

答：(78) 個

★寫完考卷記得要檢查呵！