

科目	社會	命題老師	社會領域教師	年級	五年班	座號		姓名		成績		家長簽章	
----	----	------	--------	----	-----	----	--	----	--	----	--	------	--

一、認識臺灣：臺灣是大家生活的家鄉，也是成長的地方，首先便讓我們來認識臺灣在哪裡吧！

(一)關於臺灣地理環境的敘述，請在正確的□中打V，每格1分，共6分

- ☐
- 1、臺灣和周邊島嶼總面積約 36000 平方公里。
- ☐
- 2、澎湖和馬祖是臺灣離中國大陸最近的離島
- ☐
- 3、臺灣海岸線總長約為 140 公里。
- ☐
- 4 高雄港和桃園國際機場是臺灣重要運輸中心
- ☐
- 5、在世界五大洲三大洋中，臺灣位居歐洲。
- ☐
- 6、臺灣是黑面琵鷺重要的度冬地點之一。

(二)觀察臺灣地理位置圖，將正確“名稱”填入〔 〕中，每格2分，共10分



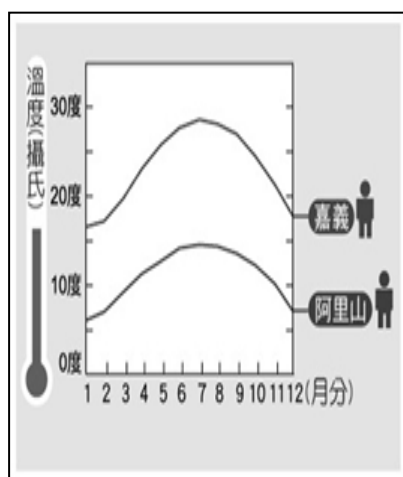
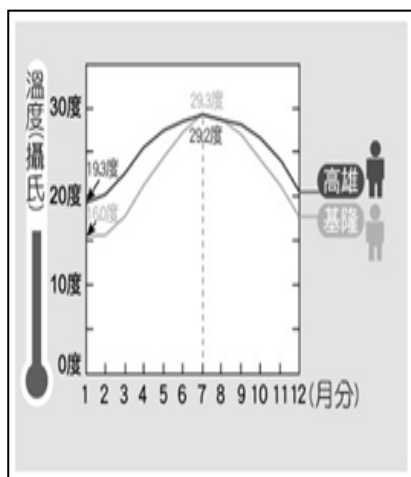
- () 8、臺灣島是由歐亞板塊和菲律賓海板塊互相推擠所形成。【是非】
- () 9、關於臺灣的山地地形，何者敘述有誤？
 ①多分布在島中央及東部 ②五大地形中所占面積最大 ③山脈大致呈南北走向 ④中央山地不包括雪山山脈。
- () 10、柯南說他的家鄉位於地勢稍高、頂部平坦的地區，根據他的說法，下列哪種地形最有可能？ ①丘陵 ②台地 ③平原 ④盆地。

(二)臺灣由於受到季風及地形的影響，造成豐富多樣的氣候變化，請依序回答下列問題，1~5 勾選每格 1 分，6~8 每題 2 分，共 11 分

*臺灣的氣候型態差異大，請將正確的敘述打 V

- ☐ 1、臺灣位於副熱帶與熱帶地區。
- ☐ 2、春、秋兩季是主要的颱風季節。
- ☐ 3、夏季受到水氣豐沛的東北季風影響。
- ☐ 4、冬季受到寒冷多雨的西南季風影響。
- ☐ 5、新竹 新埔的農民利用強風、日照曬柿餅。

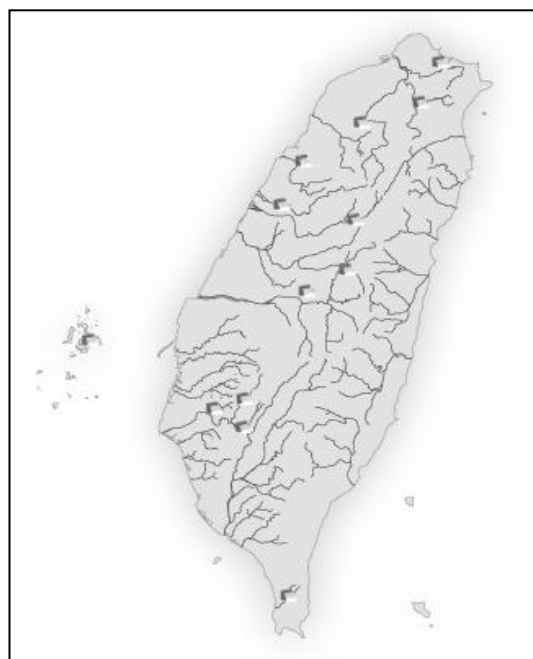
- () 6、蘭嶼的居民發展出地下屋傳統建築，主要是為了什麼原因？ ①防核能災害 ②防地震 ③防風 ④防火。
- () 7、關於臺灣各地區雨量的氣候特色，下列敘述何者正確？ ①阿里山雨量比嘉義市多 ②基隆平均雨量比高雄少 ③北部夏雨冬乾 ④南部全年有雨。
- () 8、觀察下面兩張月平均氣溫圖，判斷下列選項何者錯誤？ ①夏季除山地外普遍炎熱 ②冬季南部比北部溫暖 ③高雄冬、夏兩季溫差大於基隆 ④阿里山因地勢較高，四季氣溫皆低於嘉義市。



- (三)齊柏林導演曾說：「這片土地，是我們的家。當你看見這片土地的美麗與哀愁，才能真正祝福她。」學習尊重土地，讓臺灣的美延續下去
 1~10 每格 1 分，11~13 每個答案 2 分，共 18 分

*下圖是臺灣主要河川及水庫分布圖，請填入正確“代號”

- | | | |
|----------------|-----------------|----------------|
| ㄅ. <u>曾文水庫</u> | ㄆ. <u>日月潭水庫</u> | ㄇ. <u>翡翠水庫</u> |
| ㄨ. <u>淡水河</u> | ㄎ. <u>卑南溪</u> | ㄨ. <u>高屏溪</u> |
| ㄗ. <u>花蓮溪</u> | ㄌ. <u>濁水溪</u> | ㄩ. <u>蘭陽溪</u> |



水庫：

1. ()

2. ()

河川：

3. ()

4. ()

5. ()

6. ()

*根據臺灣海岸的比較，填入相對應的“代號”

- | |
|----------------------|
| ㄅ. 海岸線平直、海底平淺，多沙洲、潟湖 |
| ㄆ. 海水清澈、日照充足，珊瑚礁遍布 |
| ㄨ. 海岸筆直、斷崖連綿，山脈緊鄰海岸 |
| ㄗ. 海岸曲折，多海灣和奇形怪狀岩石 |

7. () 東部海岸 8. () 西部海岸

9. () 南部海岸 10. () 北部海岸

- () 11、關於臺灣河川特色的描述，下列何者有誤？ ①多發源於中央山地 ②淡水河最後流入臺灣海峽 ③季節流量變化大 ④東部主要河川多流入東海。
- () 12、臺灣離島景色優美，但形成原因稍有不同，下列哪項說明正確？ ①離島居民除漁業外，近年來也利用海洋資源發展觀光業 ②小琉球是由海底火山噴發形成 ③金門島是由珊瑚礁隆起所形成 ④龜山島是屬於花崗岩島嶼。

【還有第 3 頁~~注意考試時間囉！】

13、今年由於降雨量不足，導致目前多座水庫面臨缺水危機，因此我們更要珍惜水資源，請寫出兩項自己做得到的節約用水方法。

答：(1) _____

(2) _____

三、生活臺灣：為了讓人與人之間的相處更融洽，社會的發展更和諧、有秩序，所以我們也必須遵守生活中的各種規範喔！

1~14 每題 2 分，共 28 分

* 三藏、悟空、八戒、悟淨四位好友趁著假日好好聚聚，請從他們的聊天內容中，判斷分別屬於哪一種社會規範，並填入正確“代號”

甲. 法律	乙. 宗教信仰
丙. 倫理道德	丁. 風俗習慣

三藏：「中秋節我們全家團聚，一邊品嚐美味的月餅和柚子，一邊欣賞皎潔的明月。」

悟空：「這學期我們班上轉來一位行動不便的同學，大家都很樂意主動關懷幫助他。」

八戒：「放假時我常會跟隨奶奶，參與宗教團體的慈善活動。」

悟淨：「為了趕去參加國慶煙火晚會，結果老爸開車超速，被警察開了一張罰單。」

1. 三藏：() 2. 悟空：()

3. 八戒：() 4. 悟淨：()

() 5、東方人習慣以擁抱、親吻或貼臉頰的方式來打招呼。【是非】

() 6、日本習俗和臺灣差不多，一樣都習慣以紅包袋來裝禮金，表達祝賀之意。【是非】

() 7、伊斯蘭教的戒律可蘭經規定信徒每天須禮拜五次，並提倡仁慈與和平。【是非】

() 8、發現有人偷竊同學物品或霸凌同學時，我們應勇於告訴師長。而代替家長自行在試卷上簽名，因為是屬於個人行為，所以沒什麼大不了。【是非】

() 9、網路上散布不實言論、公布他人隱私、盜用他人著作，都是屬於違法行為。【是非】

※第 3 頁請繼續作答，並寫上班級、座號、姓名

班級：五年_____班 座號：_____號

姓名：_____

() 10、根據政府制訂的電影分級處理辦法，各位同學較適合觀賞的影片是 ①輔12級 ②保護級 ③限制級 ④輔15級。

() 11、身為一位優良駕駛人，下列何者是錯誤行為？ ①駕駛應繫上安全帶，後座乘客則可不用 ②騎乘機車要戴安全帽 ③禮讓行人，也不可酒駕 ④不可阻擋執行公務的救護車及消防車。

() 12、什麼行為雖未構成犯罪，但違反會遭到罰款？ ①胖虎販賣毒品給青少年 ②大雄心情不好隨意縱火 ③小玉深夜高歌妨害他人安寧 ④基德起貪念偷竊他人財物。

() 13、請根據下面這兩張圖，判斷與哪兩種社會規範有關？甲、風俗習慣 乙、倫理道德 丙、宗教信仰 丁、法律
① 甲、乙 ② 丙、丁 ③ 甲、丙
④ 乙、丁



() 14、政府制定法律來維護社會秩序，請問下列哪一項引用不正確？ ①為確保交通安全，制定道路交通管理處罰條例 ②為尊重動物生命，制定動物保護法 ③婚姻關係相關規定，規範於著作權法 ④搶劫行為是觸犯了刑法中的搶奪罪。

【考完一定要再用心檢查~~

盡多少努力~~得多少本事！】