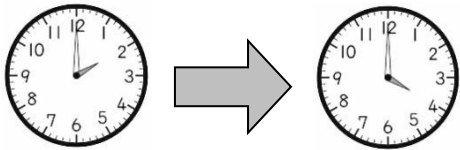


新北市 板橋區 莒光國民小學 109 學年度 第一學期 第一次定期評量試題												
科目	數學	命題老師	領域小組	年級	二年	班	座號		姓名		成績	家長簽章

一、填填看看：30 分（1 答 1 分）

- ( ) → 80 → 90 → ( ) → 110 → ( )
- ( ) → 154 → 156 → ( ) → 160 → ( )
- 在  $\square$  裡填入  $+$ 、 $-$  的符號。  
(1)  $38 \square 25 = 13$   
(2)  $8 \square 33 = 41$
- 「一百三十四六」記作( )。
- 170 是( )個百、( )個十和( )個一合起來的。
- 桌上有 116 顆糖果，拿走 1 顆，剩下( )顆；再拿走 10 顆，還剩下( )顆。
- 老師買一個 109 元的蛋糕，最少要付( )個  $\textcircled{10}$  元。
- 「118」讀作( )。
- 時針走一大格，是走了( )分鐘，也可以說是( )小時。
- 觀察右圖， $\text{ㄅ}$ 圖面積和( )個  $\square$  一樣大， $\text{ㄆ}$ 圖面積和( )個  $\square$  一樣大，哪一個圖形的面積比較大？(  $\text{ㄅ}$  圖，  $\text{ㄆ}$  圖 )。
- 爸爸下午去運動，請問爸爸運動了多久時間？



分針轉了( )圈，時針從( )走到( )，共走了( )大格，是運動了( )小時。

- 在  $\square$  裡填入  $<$ 、 $>$  或  $=$  的符號。  
(1)  $178 \square 187$  (3)  $130 \square 103$   
(2)  $124 \square 104$  (4)  $191 \square 119$

二、選擇題：6 分（1 題 2 分）

- ( ) 八點半的時候，鐘面上幾分針會指在哪裡？ $\textcircled{1}6$   $\textcircled{2}10$   $\textcircled{3}12$   $\textcircled{4}30$ 。
- ( ) 10 顆軟糖裝成一包，10 包裝成一盒，那麼一盒又 4 包一共有多少顆軟糖？ $\textcircled{1}14$  顆  $\textcircled{2}64$  顆  $\textcircled{3}104$  顆  $\textcircled{4}140$  顆。
- ( )  $75 + 28 = \square$ ， $\square$  的個位數字是幾？ $\textcircled{1}1$   $\textcircled{2}2$   $\textcircled{3}3$   $\textcircled{4}0$ 。

三、動動腦，做做看看：15 分（1 答 2 分）

- 從黑點開始，畫一條比 4 公分長，又比 7 公分短的直線。
- 奶奶買了一瓶 197 元的果汁，要怎麼付錢才會剛剛好？圈出看。  
 $\textcircled{100}$   $\textcircled{50}$   $\textcircled{50}$   
 $\textcircled{10}$   $\textcircled{10}$   $\textcircled{10}$   $\textcircled{10}$   $\textcircled{10}$   
 $\textcircled{1}$   $\textcircled{1}$   $\textcircled{1}$   $\textcircled{1}$   $\textcircled{1}$   $\textcircled{1}$   $\textcircled{1}$   $\textcircled{1}$
- 一枝鉛筆和 5 個橡皮擦一樣長，也和 7 個迴紋針一樣長。請圈出哪個比較長？(橡皮擦，迴紋針)。
- 圈出 106 枝筆。

5. 圈出下圖時鐘上現在的時分是：




- $\text{ㄅ.} 10:30$   $\text{ㄆ.} 6$  時 50 分  
 $\text{ㄇ.} 11:07$   $\text{ㄊ.} 7$  時 50 分

- 哪一種顏色面積比較大？把它圈起來。(白色，灰色)。  
  
★ ★ 請翻到背面寫第 2 頁，加油！

7. 用  $\boxed{100}$ 、 $\textcircled{10}$ 、 $\textcircled{1}$  畫畫看看。(3 分)

153 元



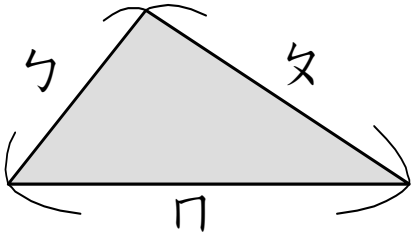
四、計算題，用直式計算看看：6 分

1. $38 + 65 = ( \quad )$	2. $9 + 15 = ( \quad )$
--------------------------	-------------------------

五、用直式計算看看，並驗算：5 分

1. $74 - 49 = ( \quad )$	驗算：
--------------------------	-----

六、量量看看，各是多長？6 分(1 答 2 分)




- (1) ㄅ 大約長( )公分。
- (2) ㄆ 大約長( )公分。
- (3) ㄇ 大約長( )公分。

七、寫寫看看：12 分(1.(1)-(3)2 分；2.3. 1 分)


1. 請把鐘面上面的時間寫在  $\boxed{\quad} : \boxed{\quad}$  裡。

(1)




$\boxed{\quad} : \boxed{\quad}$

(2)




$\boxed{\quad} : \boxed{\quad}$

(3)



$\boxed{\quad} : \boxed{\quad}$

2. 現在是上午 ，再過 2 小時遊樂園就開始營業，遊樂園開始營業的時間是上午( )時( )分。

3. 按照面積的大小，由小到大的，寫上 1、2、3、4。

( ) 一張借書證	( ) 數學課本封面
( ) 教室的黑板	( ) 一個 50 元硬幣

八、寫出做法和答案：20 分(1 題 4 分)

1. 風雨操場上女生有 8 人，男生有 52 人，風雨操場上共幾人？

答：

2. 姐姐原有 80 張貼紙，送給同學 59 張貼紙後，姐姐還剩下幾張貼紙？

答：

3. 老師發跳繩給 78 個小朋友，一個小朋友發 1 條，跳繩還多 33 條，老師原來有幾條跳繩？

答：

4. 一盒糖果 86 元，一盒餅乾比一盒糖果貴 47 元，一盒餅乾多少元？

答：

5. 在 49、81、50、96 這四個數中，最大和最小的數相差多少？

答：

★ ★ 小叮嚀：記得寫單位和檢查哦！