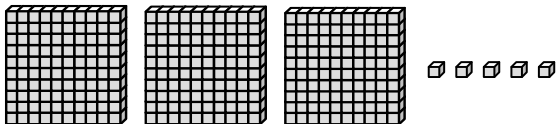


新北市板橋區莒光國民小學 108 學年度第二學期第一次定期評量試題													
科目	數學	命題老師	陳桂芬	年級	二年	班	座號		姓名		成績		家長簽章


一、選擇題(共 12 分)

- (3) 901 的讀法是下列哪一個？
 ① 九零一 ② 九百一
 ③ 九百零一
- (2) 一個漱口杯裝 10 cc 的漱口水，3 個漱口杯裝多少 cc 的漱口水，下列哪一個算式是錯的？
 ① $10 \times 3 = 30$ ② $3 \times 10 = 30$
 ③ $10 + 10 + 10 = 30$
- (1) Forty 比小莒高，小莒身高 136 公分，小光身高 1 公尺 30 公分。他們三人，誰最高？
 ① Forty ② 小莒 ③ 小光
- (2) 數數看，有多少？

 ① 315 ② 305 ③ 350
- (2) 教室掃具櫃的高度比1 公尺長還是短？
 ① 跟 1 公尺一樣長
 ② 比 1 公尺長
 ③ 比 1 公尺短
- (2) 比 699 多 1 的數是多少？
 ① 698 ② 700 ③ 701

二、填填看(共 23 分)

1. 按照數的順序填填看。

(1)



(2)



- 10×8 比 10×2 多 (6) 個 10，是多 (60)。
- 5 公尺 6 公分是 (506) 公分。
- 裡的數字是多少？
 (1) $\square 59 > 879$ (2) $5\square 7 < 512$
 □ 是 (9) □ 是 (0)
 (3) $0 \times 9 = \square$ (4) $1 \times \square = 10$
 □ 是 (0) □ 是 (10)
- 先將 10 顆糖果裝成 1 袋，再將 10 袋糖果裝成 1 盒。
 (1) 1 盒有 (100) 顆糖果。
 (2) 7 盒又 3 袋共有 (730) 顆糖果。
 (3) 小莒 買了 1 盒又 6 袋，小光 買了 4 袋，兩人共買了 (2) 盒，共有 (200) 顆糖果。
 (4) 580 顆糖果最多可以裝 (5) 盒，剩下的可以裝成 (8) 袋。

三、在()裡填入「公尺」或「公分」。(共 8 分)

- 門的寬度大約是 1 (公尺)。
- 哥哥的身高大約是 137 (公分)。
- 毛毛蟲身長大約是 5 (公分)。
- 操場兩圈是 400 (公尺)。

四、寫成直式做做看。(共 12 分)

1. $4 \times 9 = (36)$ 2. $8 \times 7 = (56)$

3. $539 - 472 = (67)$ 4. $617 + 284 = (90)$

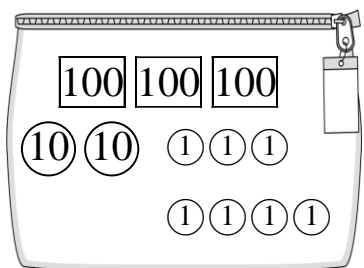
五、在□填入「>」、「<」或「=」。

(共 12 分)

1. $631 \square 613$
2. $0 \times 7 \square 0 \times 5$
3. $46 + 27 \square 100 - 27$
4. $62 \square 6 \text{ 個百 } 2 \text{ 個十}$
5. $20 \text{ 公尺} \square 200 \text{ 公分}$
6. $503 \text{ 公分} \square 5 \text{ 公尺 } 30 \text{ 公分}$

六、寫出算式，做做看看。(共 20 分)

1. 哥哥想買一盒 350 元的彩色筆，他不夠幾元？



$$350 - 320 = 30$$

答：30 元

2. 有 147 個人在排隊買口罩，小敏排在第 52 位，排在她的後面有幾個？

$$147 - 52 = 95$$

答：95 個人

3. 一條緞帶長 280 公分，小美買了 2 條緞帶，2 條緞帶共長幾公尺幾公分？

$$280 + 280 = 560$$

答：5 公尺 60 公分

4. 一個信封裡有 0 張卡片，有 7 個信封，共有幾張卡片？

$$0 \times 7 = 0$$

答：0 張

5. 一顆哈密瓜和 5 顆蘋果一樣重，一顆蘋果和 3 顆檸檬一樣重，一顆哈密瓜和幾顆檸檬一樣重？

$$3 \times 5 = 15$$

答：15 顆

七、先算什麼？再算什麼？

做做看看。(共 8 分)

1. 有一條繩子，第一次用掉 125 公分，第二次用掉 175 公分，剩下 100 公分，這條繩子原來有幾公分？

$$125 + 175 = 300$$
$$300 + 100 = 400$$

答：400 公分

2. 一頂帽子賣 481 元，比一條圍巾多 26 元，帽子和圍巾合起來賣多少元？

$$481 - 26 = 455$$
$$455 + 481 = 936$$

答：936 元

八、老師用算式出了一道謎語，每一個算式代表一個國字，請把正確的國字填入空格裡。(共 5 分)

$0 \times 7 \rightarrow$ 趣				
$1 \times 6 \rightarrow$ 學				
$10 \times 2 \rightarrow$ 有				
$163 + 37 \rightarrow$ 數				
$846 - 65 \rightarrow$ 真				
200	6	781	20	0
數	學	真	有	趣

