

新北市板橋區莒光國民小學 110 學年度第二學期第二次定期評量試題													
科目	社會	命題老師	社會領域	年級	五年 班	座號		姓名		成績		家長簽章	

★ 請將題組一至四的答案填寫在第三頁**答案區**，  
書寫於**題目卷**（第一、二頁）不予計分。

◎ 題組一：請惠賜一票 每答 3 分，共 18 分

請仔細閱讀以下圖片並回答問題。

（資料來源：張源清臉書競選專頁）



- ( ) 1. 圖片中的候選人，參加下列哪項選舉？  
 ①中央行政機關首長 ②中央民意代表  
 ③地方行政機關首長 ④地方民意代表
- ( ) 2. 從圖片背景及文字判斷，該候選人所屬的選區，主要應屬下列哪種聚落？  
 ①農村 ②漁村 ③市鎮 ④都市
- ( ) 3. 文案中提到「給新人一個機會」，依據規定，該候選人為何可以擁有被選機會？  
 ①他具有博士學歷 ②法律賦予參選權  
 ③他是二水鄉子弟 ④依法有考公職權
- ( ) 4. 從海報內容推論，該候選人**沒有**運用何種法定權利？ ①受教權 ②參政權  
 ③參加黨派自由 ④言論自由
- ( ) 5. 候選人在選舉公報上，有一項政見：「促進產業升級及農產品銷售轉型，開創行銷通路，增加就業機會。」，此政見應是為實踐圖中哪個標語？ ①關心教育 ②發展觀光  
 ③社會福利 ④人才返鄉
- ( ) 6. 若該候選人當選，以下哪種作為幫助他落實「發展觀光」的政見最可行？  
 ①結合在地文化特色 ②對全國發放觀光券  
 ③嚴格要求縣市首長 ④建設世界級遊樂園

◎ 題組二：決戰新北市 每答 3 分，共 24 分

以下為今年新北市議員可當選的議員席次，  
請仔細閱讀圖片並回答問題。（資料來源：東森新聞）

## 2022新北市議員席次





	戶籍地在這裡	席次
第一選區	淡水區、三芝區、石門區、八里區	4席
第二選區	五股區、泰山區、林口區	4席
第三選區	新莊區	7席
第四選區	三重區、蘆洲區	9席
第五選區	板橋區	9席
第六選區	中和區	6席
第七選區	永和區	3席
第八選區	樹林區、鶯歌區、三峽區、土城區	10席
第九選區	新店區、深區、石碇區、坪林區、烏來區	5席
第十選區	瑞芳區、平溪區、雙溪區、貢寮區	1席
第十一選區	汐止區、金山區、萬里區	4席
第十二選區	平地原住民選區	3席
第十三選區	山地原住民選區	1席

- ( ) 1. 關於圖片敘述，下列何者正確？  
 ①新北市共有十三個行政區 ②板橋區選民屬於第五選區 ③原住民集中住在新北市的某兩區 ④地圖中間的空缺是基隆市
- ( ) 2. 照以前的區域畫分，新北市應屬於何者？  
 ①頂港 ②下港 ③北山 ④後山
- ( ) 3. 以下何者為議員職責？ ①制定國家政策 ②審查行政院預算 ③辦理新北市自治事項 ④監督新北市政府
- ( ) 4. 議員當選後，若有嚴重失職的行為，我們可以怎麼做最恰當？ ①依法定程序罷免他 ②向新聞媒體爆料 ③打電話到警局報案 ④向新北市政府投訴
- ( ) 5. 當選席次越多，選區內選民也越多，由此推論：以下哪個區的選民人數最多？  
 ①樹林區 ②三重區 ③板橋區 ④永和區
- ( ) 6. 第十選區包含瑞芳、平溪等四個行政區，僅有一個議員席次，以下哪個推論較合理？  
 ①新北市政府不看重此選區發展 ②此選區可能仍以鄉村聚落為主 ③此選區裡願意參選的人非常少 ④市政府並不重視此區選民意見

( ) 7. 第九選區議員曾協助 A 地居民，發展茶鄉特色，重振觀光。請問 A 地應是指哪裡？

- ①新店區 ②深坑區 ③坪林區 ④烏來區

( ) 8. 承上題，A 地因為交通轉運功能被取代，導致觀光人數銳減。取代當地交通功能的新建設，是下列圖示中的哪一個？

- ①  ②  ③  ④ 

◎ 題組三：真假在地人 每答 3 分，共 15 分

連鎖超市全聯於近日推出新系列廣告，內容以街訪揪出假在地人為趣味題材。請仔細閱讀以下圖片，並回答問題。(資料來源：全聯福利中心臉書專頁)



( ) 1. 左圖的何同學如果沒有說謊，請問他下車的「南投站」，可能是指搭乘下列何種交通工具？

- ①高鐵 ②鐵路 ③遊艇 ④客運

( ) 2. 何同學若選擇離鄉至中部的核心都市就學，最可能是到下列哪個都市？

- ①臺北 ②臺中 ③臺南 ④高雄

( ) 3. 有關何同學家鄉所屬的中部區域，下列何者正確？ ①彰化擁有全臺最大果菜集散市場 ②苗栗有多元原住民文化 ③南投的武陵農場盛產高山水果 ④雲林麥寮工業區造成環境破壞

( ) 4. 廣告戲稱右圖的陳先生是假台北人，可能是因為大眾對都市居民有何印象？

- ①人際關係疏離 ②多居住於街屋 ③鄰居互動密切 ④家族普遍聚居

( ) 5. 陳先生若真住臺北，最可能遭遇何事？

- ①每天開車到鄰近的麥寮工業區上班 ②到離家最近的高雄航空站搭機出國 ③參加社區活動以藍色公路搭船遊覽 ④週末時搭乘捷運一路到宜蘭一日遊

◎ 題組四：五星級首長 每答 3 分，共 18 分

《遠見雜誌》公佈 2022 年縣市長施政滿意度調查結果，共有六位被評為 5 星首長，包括：新北市長侯友宜、嘉義縣長翁章梁、嘉義市長黃敏惠、屏東縣長潘孟安、花蓮縣長徐榛蔚、連江縣長劉增應。其中，屏東縣長滿意度全臺第一，新北市市長的負面評價全臺最少。請依上述內容回答問題：



( ) 1. 今年獲選五星評等的首長中，不包含下列哪個區域？ ①北部 ②中部 ③南部 ④東部

( ) 2. 劉縣長連續七年獲得五星評等，他執政的連江縣即是馬祖，何者不會是他推動馬祖觀光的重點？ ①倚山海建成的芹壁村石頭屋 ②軍事據點的戰地遺跡 ③立海上的跨海大橋 ④夜裡燦爛海岸的藍眼淚

( ) 3. 若金門縣長想與劉縣長商討合作發展觀光，兩地有何共通之處？ ①都屬於東部區域 ②皆是鄰近中國的島嶼 ③兩地皆視風獅爺為守護神 ④貢糖及鋼刀是金馬特產

( ) 4. 屏東 潘縣長積極推動地方產業，深受肯定，下列何者不是該縣特色？ ①大理石蘊藏豐富 ②獨特珊瑚礁海岸地形 ③盛產蓮霧、鳳梨等熱帶水果 ④黑鮪魚、櫻花蝦等漁獲豐富

( ) 5. 文中哪位首長比較需要煩惱「聚落人口密集導致休閒空間不足」的問題？ ①黃敏惠市長 ②侯友宜市長 ③徐榛蔚縣長 ④翁章梁縣長

( ) 6. 嘉義縣長領獎時提到：「嘉義縣發展不容易，因為高齡化全臺第一，老年人口達 21%，為超高齡化社會。」，此處老年人口是指幾歲以上？ ①55 歲 ②60 歲 ③65 歲 ④70 歲

新北市板橋區莒光國民小學 110 學年度第二學期第二次定期評量試題												
科目	社會	命題老師	社會領域	年級	五年 班	座號		姓名		成績		家長簽章

◎ 題組五：公衛救孩童 每答 3 分，共 15 分

請仔細閱讀文章並直接於（ ）中回答問題。

小紐約客的生存危機

19 世紀末，微生物學開始發展不久，人們缺乏公衛觀念，傳染病常大肆流行，往往造成大量死亡，尤其是抵抗力較弱的兒童。曾任美國紐約市兒童衛生部主任的貝克醫師除了設法提供學童營養、加強疾病醫治，更積極檢查學校中生病的孩童，把病童送回家，設法控制傳染病在校中蔓延。

當時，紐約市各學校肆虐多年的頭蝨和砂眼問題，在她的規劃下逐漸消失。此外，紐約市新生嬰兒死亡率大幅降低，成為當時世界各大都市的典範。

（資料來源：科學發展 468 期）

- （ ） 1. 文中紐約市因公共衛生改善，使得死亡率降低，與臺灣哪個時期的情況一樣？  
①劉銘傳治臺時 ②日治時代中期  
③戰後民國初期 ④民國百年至今
- （ ） 2. 有關出生率，以下敘述何者正確？  
①日治時期臺灣的出生率先升高後走低  
②紐約市的新生兒死亡率至今仍在攀高  
③民國五十年代家庭計畫鼓勵控制生育  
④現今臺灣少子化原因與紐約早期一樣
- （ ） 3. 以下何者無助於解決少子化問題？  
①保障婦女工作權 ②設公立託育中心  
③落實育嬰假制度 ④贈送新生兒禮物
- （ ） 4. 文中的醫療及公衛觀念進步，也影響下列何者？ ①移出人口增加 ②高齡化社會  
③總人口減少 ④鄉村人口外流
- （ ） 5. 在現今的臺灣，家長是否能因為擔心傳染疾病，選擇將孩子留在家中？ ①能，家長有權為孩子做任何決定。 ②不能，只有孩子生重病才可以。 ③能，但需請假或政令同意，因為受國民教育是義務。 ④不一定，只有憲法規定的弱勢族群享有權利。

◎ 連連看：政府齊抗疫 每答 2 分，共 10 分

請將左側政府單位與其主要負責的事務，用直尺畫線連在一起。

總統	●	● 發布國內防疫相關規定
行政院	●	● 審查行政院所規畫的防疫相關預算
立法院	●	● 彈劾執行防疫工作時涉及不法行為的公務員
監察院	●	● 防疫規定若有牴觸憲法疑慮時，負責解釋憲法。
司法院	●	● 若疫情失控導致人民陷於緊急危難，可發布緊急命令。

答案區

※ 請將題組一至題組四的答案依題號填寫在下方。

題組一（18%）

1.	2.	3.	4.	5.	6.
----	----	----	----	----	----

題組二（24%）

1.	2.	3.	4.	5.	6.
7.	8.				

題組三（15%）

1.	2.	3.	4.	5.
----	----	----	----	----

題組四（18%）

1.	2.	3.	4.	5.	6.
----	----	----	----	----	----