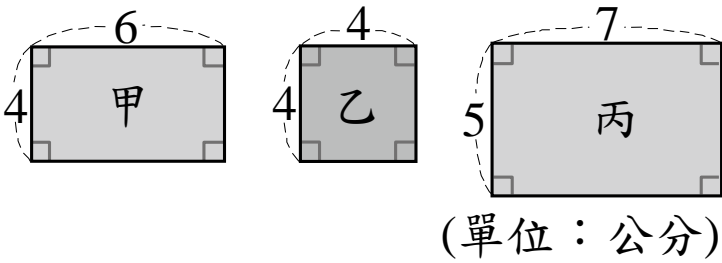


- 一、比大小：（每題 2 分，共 6 分）
- (1) 1440000 平方公分 12 公尺×12 公尺
- (2) 邊長 2 公分的正方體 9 cm³的長方體
- (3) 685 秒鐘 11 分鐘 30 秒鐘

- 二、填填看：
- (1~4 題每格 2 分，5~11 題每格 1 分，共 37 分)
1. 5 小時 22 分鐘=() 分鐘。
2. 160 小時=() 日() 小時。
3. 下面圖形中，甲和丙是長方形，乙是正方形。



- (單位：公分)
- (1)甲圖的周長是()公分；乙圖的周長是()公分；丙圖的周長是()公分。
- (2)甲圖的面積是() cm²；乙圖的面積是() cm²；丙圖的面積是() cm²。
4. 完成下面表格：

原來的數	無條件捨去法 取概數到萬位	無條件進入法 取概數到萬位
159875		
2434982		

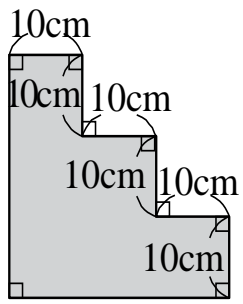
5. 「65.56」中：
- (1)左邊的 6 是右邊的 6 的()倍。
- (2)個位 5 是十分位 5 的()倍。
6. 把 12.34 用「數的十進位表示法」記成：
- 12.34=_____

7. 63 平方公尺=()平方公分。
8. 一臺電視機的售價是 5670 元，若全部用千元鈔票付錢，至少要付()張才夠，也就是()元。
9. 下面哪一個數用「四捨五入法」取概數到百位的結果是 6700？把它圈出來。
- 6580 6750 6660 6760 6800
10. 想一想，362×18=6516：
- (1)36.2×18=()
- (2)36.2×180=()
- (3)3.62×180=()
11. 媽媽幫小澤切蛋糕慶生，把一個蛋糕切成 8 塊，請問蛋糕切開前和切開後的體積是變大、變小，還是不變？()

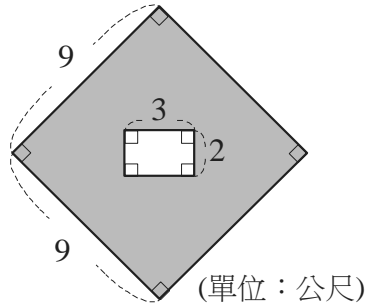
- 三、列出過程算算看：（每題 3 分，共 21 分）
- (1) 3.25×26=() (2) 5.7×40=()

- | | |
|--------------------------------------|--------------------------------------|
| (3) 15 時—7 時 43 分
=() | (4) 12 日 18 時+9 時
=() |
|--------------------------------------|--------------------------------------|

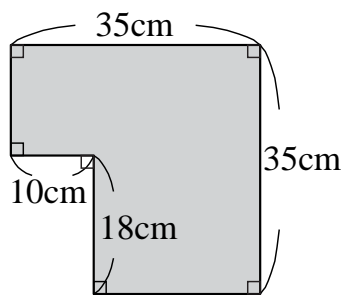
(5) 鋪色部分的面積是多少？




(6) 鋪色部分的面積是多少？

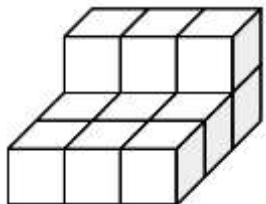


(7) 鋪色部分的面積是多少？



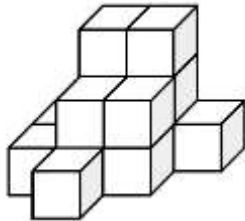
四、數數看：每個  的體積是 1cm^3 ，下面形體的體積各是多少？(每格 3 分，共 12 分)

1.



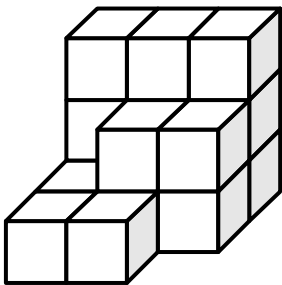
() cm^3

2.



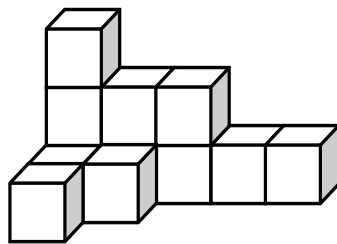
() cm^3

3.



() cm^3

4.



() cm^3

五、應用題：(每題 4 分，共 24 分)

1. 小綸用一條長 84 公尺的繩子，圍成一個正方形，正方形的面積是多少平方公尺？

2. 莒光餐廳在去年的營收有 6734100 元，在今年有 8489400 元。先用四捨五入法取到萬位，再算算看，莒光餐廳 這兩年營收大約相差多少萬元？

3. 小珍準備了一袋 20 公斤的白米，平均每天用掉 0.63 公斤，兩個星期後，還剩下多少公斤的白米？

4. 星期日小晴到莒光遊樂園玩，從上午 10 時 30 分進入莒光遊樂園，到下午 3 時才離開，請問小晴在莒光遊樂園停留了幾小時幾分鐘？

5. 莒光國小播放聖誕音樂劇，放映時間是 1 小時 52 分鐘，從下午 1 時 30 分開始放映，請問下午什麼時候才會結束？

6. 荷利颱風滯留臺灣的時間長達 18 小時，中央氣象局在 7 月 20 日下午 3 時解除陸上颱風警報，那麼荷利颱風在 7 月幾日幾時登臺？