

新北市板橋區莒光國民小學 110 學年度第二學期第二次定期評量試題												
科目	數學	命題老師	數學領域	年級	二年	班	座號		姓名		成績	家長簽章

一、防疫大作戰(每答2分，20%)

五月時，Covid-19 疫情升溫，防疫專家提醒我們要勤洗手、戴口罩和保持社交距離，減少染疫的風險。

5月							6月						
日	一	二	三	四	五	六	日	一	二	三	四	五	六
1	2	3	4	5	6	7				1	2	3	4
8	9	10	11	12	13	14	5	6	7	8	9	10	11
15	16	17	18	19	20	21	12	13	14	15	16	17	18
22	23	24	25	26	27	28	19	20	21	22	23	24	25
29	30	31					26	27	28	29	30		





- 保持社交距離 1 公尺 50 公分也可以說是()公分。
- 5 月有()天，也可以說是()個星期又()天。
- 如果小光確診，需要居家隔離一星期，從 5 月 23 日開始，()月()日是最後一天。
- 學校線上課程從 5 月 30 日到 6 月 2 日，共有()天。
- Covid-19 疫情爆發到現在，已經過了 2 年 7 個月，也可以說是()個月。
- 圈圈看，今年 2 月有 28 天，所以是(平年、 閏年)。

二、我的防疫物資。(每題2分，6%)

- 口罩的長邊大約是 15 (公分、 公尺)。
- 防疫隔板展開後長邊大約是 1 (公分、 公尺)。
- 額溫槍大約是 1 (叔、 手肘) 長。

三、種豆成長日記，按順序填入

1、2、3、4。(每格2分，8%)

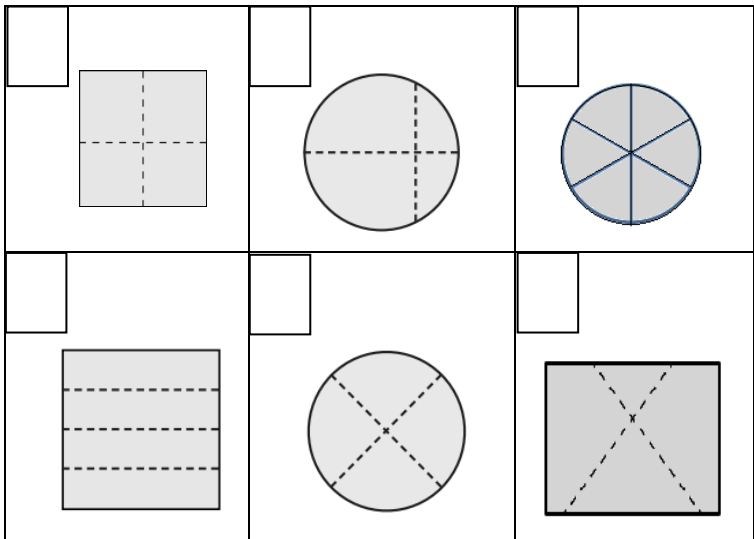
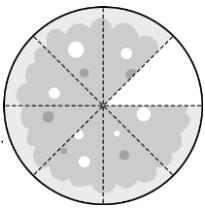
							
4月15日		5月3日		3月20日		3月15日	

四、米食大集合：乘與加減兩步驟(每題5分，20%)

- 一盒海苔壽司有 6 個，小莒吃了 2 盒又 3 個，他共吃了幾個海苔壽司？
先算
再算
答：()個
- 炒米粉一份 30 元，年糕一片 10 元，小莒買了 5 片年糕和一份炒米粉，共要付多少元？
先算
再算
答：()元
- 一串粽子有 9 個，媽媽買 4 串甜粽和 4 串鹹粽，共有幾個粽子？
先算
再算
答：()個
- 一盒紅豆麻糬有 5 顆，小莒買了 7 盒，分給弟弟 3 盒，他還剩下幾顆紅豆麻糬？
先算
再算
答：()顆

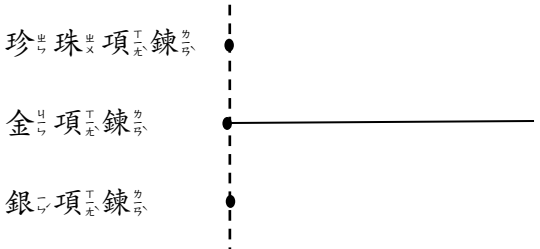
五、節慶活動(每答2分，18%)

1. 母親節到了，爸爸買了一個蛋糕等分成4份，小光吃了其中的1份，是()個蛋糕。
2. 媽媽買了一個披薩慶祝兒童節，披薩等分成()份，白色的部分分是()個披薩。
3. 下圖中，有等分分的打V，沒有等分分的打X。




六、故事接龍(每答2分，10%)

1. 國王珍珠寶盒裡，珍珠項鍊比金項鍊長，銀項鍊比金項鍊短，請小朋友用直線畫一畫。
2. 皮可在森林迷宮追蝴蝶，他走了905公分，也可以說是()公尺()公分。
3. 小怪獸的叔叔大約12公分，樹洞的寬度和3叔叔差不多，大約是()公分。



七、期末同樂會(第一題6分，其餘4分，18%)

1. 有4顆巧克力平分給2個人，每個人到幾顆？連連看。
2. 大家來玩圖卡配對，有18張動物圖卡，每3張分給1個人，可以分給幾個？圈圈看看。



3. 老師準備了20支冰棒
- (1) 每個盒子放4支，需要準備()個盒子。
- (2) 每個盒子放10支，需要準備()個盒子。
4. 小光有21個布丁，平分給7個同學，每個人有幾個布丁？把做法用減法算式記下來。
- 算式：
- 答：()盒

寫完了別忘了檢查喔！