


新北市板橋區莒光國民小學 110 學年度第二學期第二次定期評量測驗

科目	數學	命題老師	領域教師	年級	一年	班	座號	姓名	成績	家長簽章
----	----	------	------	----	----	---	----	----	----	------

一、選出正確的答案。

(每題 2 分) 10%

1. () 如果今天星期日是，那昨天是星期幾？
 ① 星期五 ② 星期六
 ③ 星期一
2. () 下面是一百數表的部份，請問小鳥遮住哪一個數字？

44	45	46
54	55	
64	65	66

- ① 56 ② 57 ③ 58
3. () 爸爸買了 1 瓶 36 元的可樂，請問爸爸要用幾個 10 元錢幣來付才夠？
 ① 3 個 ② 4 個 ③ 5 個
4. () 媽媽和姐姐在包水餃。媽媽包了 35 顆，媽媽比姐姐多包 16 顆水餃，請問姐姐包了幾顆水餃？
 ① 51 顆 ② 19 顆 ③ 21 顆
5. () 16 個一和 6 個十，合起來是？
 ① 22 ② 66 ③ 76

二、畫畫看看、圖圖看看。

(每答 3 分) 12%

1. 畫⑩和①做做看看

- (1) 小明想要買一盒 74 元的餅乾，要如何付錢才會剛好？

(2) $25 + 15 = ()$

(3) $46 - 3 = ()$

2. 爺爺給小如 59 元，奶奶又給她 9 元，小如共有幾元？請在下圖圈出來並寫出答案。

⑩ ⑩ ⑩ ⑩
 ⑤ ⑤ ⑤ ⑤ ⑤
 ① ① ① ①

答：() 元

三、連連看看。(每答 2 分) 8%

每個數中的 5 是表示多少？

- 7⑤ • 5 個一
 ⑤7 • 5 個十
 ⑤ • 5 個一
 ⑤0 • 5 個十

四、做做看看。(每答 2 分) 34%

1. $53 - () - 73 - 83$
2. $() - 98 - 96 - 94$
3. $65 - 70 - () - 80$
4. 有一個數字比 70 大又比 80 小，十位數字加一個位數字是 12，請問是哪一個數字？ 答：()
5. 請在括弧裡把比較小的數打√。

(1)	(2)
65 56	88 90
() ()	() ()

6. 請在()中寫出定位板上最大和最小的二個數字。

十位	個位
6	?

最大數字：()

最小數字：()

7. 小真帶 50 元去買點心，她可以一有哪些買法？(請在 ☐ 中打 \checkmark ，答案不只一個喔！)

☐ (1) 一盒 35 元的布丁。

☐ (2) 一包 51 元的餅乾。

☐ (3) 一個 29 元的麵包。

8. 小美想買一個 100 元的玩具，填填看。

(1) 用 100 來付，要付 () 張

(2) 用 50 來付，要付 () 個

(3) 用 10 來付，要付 () 個

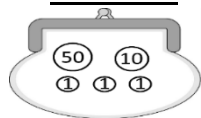
9. 請將奇奇一家人的生日，按照一年中的先後順序，在下面的表格裡填入代號 1、2、3、4。

爸爸	3 月 19 日	
媽媽	10 月 2 日	
奇奇	12 月 5 日	
弟弟	7 月 30 日	

五、看圖回答問題。


(每答 2 分) 16%

1. 尼爾



() 元

潔妮



() 元

(1) 他們兩個人錢合起來總共有 () 元。

(2) 尼爾和潔妮兩個人帶的錢，夠不夠一起買 97 元的玩具？(夠 / 不夠)。

2. 6 月

日	一	二	三	四	五	六
			1	2	3	4
5	6	7	8	9	10	11
12	13	14	15	16	17	18
19	20	21	22	23	24	25
26	27	28	29	30		

(1) 學校安排在 6 月的最後一天要大掃除，日期是 6 月 () 日星期 ()。

(2) 大掃除的前一天要帶袋子來裝學用品，所以我 6 月 () 日星期 () 要帶袋子去學校。

六、寫出做法和答案。

(每題 4 分) 20%

1. 小杰到超市買了 43 杯奶茶和 26 杯紅茶，他一共買了幾杯飲料？

算式：

答：() 杯

2. 小杰到了麵包店時，架子上原本有 68 個麵包，前一位客人買走了 41 個，還剩下多少個麵包？

算式：

答：() 個

3. 回家前，小杰還買了 50 顆蘋果，一不小心撞壞了 18 顆，還剩下幾顆蘋果沒有被撞壞？

算式：

答：() 顆

4. 奶奶包了 9 顆肉粽和 36 顆甜粽，奶奶總共包了幾顆粽子？

算式：

答：() 顆

5. 小杰有 77 張寶可夢貼紙，因為今天認真幫忙，媽媽又送他 15 張，小杰現在有幾張貼紙？

算式：

答：() 張

