


新北市板橋區莒光國民小學 110 學年度第二學期第二次定期評量試題												
科目	社會	命題老師	社會領域老師	年級	三年 班	座號		姓名		成績		家長簽章

一、買東西大挑戰(每格 2 分，共 14 分)


琦琦和家人 2022 年 6 月 1 日去參加五月天演唱會，瘋狂唱歌唱到口渴，想到便利商店買一罐養樂多，請大家幫她找找看，購買商品時所需要注意的標示，將代號填入()中，並回答後面問題。

甲、有效日期 乙、成分和原料 丙、認證標章 丁、保存條件 戊、產地 己、封口



1.()

2.()



3.()

4.()

5.()

2022.04.09

品名：養樂多活菌發酵乳 容量：100ml
(品類符合 CNS 58 稀釋發酵乳規定)
原料：水、砂糖液糖、果糖液糖、生乳、
脫脂乳粉、天然香料
成分：非脂肪乳固形物 3.0%~8.0%、
乳脂肪 0.5% 以下
保存期限：21 日 (要冷藏 7°C 以下)
有效日期：標示於瓶身 (民國年、月、日)
養樂多股份有限公司(工廠：99-621418-00)
中壢廠 製造 桃園縣中壢市自強一路 4 號
消費者服務專線：0800-008-960

保存條件：冷藏需在 7 度以下

6. 檢查養樂多商品重要標示之後，琦琦可以購買此罐養樂多嗎？(請回答可以或不可以)







答：()。

7. 承上題，請你說明理由。

答：()。

二、小事物大發現(每格 2 分，共 16 分)

1. 請你判斷以下標章的名稱，並將正確配對答案連起來。

					
臺灣優良農產品	省水標章	臺灣優良食品	環保標章	CNS 合格檢驗標誌	節能標章

2. 承上題，班班有冷氣，如果你要採買教室冷氣，你會買有哪些標章的冷氣呢？(寫出標章名稱)

答：()、()。

三、地名配對連連看(每題 2 分，共 20 分)

1. 下列地名是因為哪種自然環境的關係而命名的，請將正確配對答案連起來。

- | | |
|------------|--------|
| ① 南投縣 荖桐 · | · 甲、地形 |
| ② 新北市 石門 · | |
| ③ 屏東縣 恆春 · | · 乙、植物 |
| ④ 南投縣 竹山 · | |
| ⑤ 新竹縣 五峰 · | · 丙、氣候 |
| ⑥ 苗栗縣 三灣 · | |

2. 下列地名是因為哪種居民活動的關係而命名，請將正確配對答案連起來。

- | | |
|------------|----------|
| ① 高雄市 鹽埕 · | · 甲、原住民族 |
| ② 屏東縣 牡丹 · | · 乙、生產活動 |
| ③ 新竹縣 新埔 · | · 丙、重要建築 |
| ④ 澎湖縣 馬公 · | · 丁、開墾活動 |

四、探索家鄉地名(第 1 題組 A 每格 2 分，第 2 題組每個選項 1 分，共 22 分)

1. 三年 19 班正在進行探索家鄉地名的活動，以下是他們上課討論情形，請依據各題敘述回答問題。

A、老師在黑板寫出探索地名的四項重點，請您依據步驟，將代號順序排出來。

甲、發表感想 乙、蒐集資料 丙、整理資料 丁、選擇探索的地名

答：() → () → () → ()

B、

左圖的阿鄧，他是利用什麼方法來蒐集資料？請在□中打勾。



- | | |
|------------------------------------|-------------------------------------|
| <input type="checkbox"/> ①到圖書館找書籍。 | <input type="checkbox"/> ②利用搜尋網站查找。 |
| <input type="checkbox"/> ③詢問長輩。 | <input type="checkbox"/> ④詢問老師。 |

2. 三年 19 班進行上臺分享自己所查到地名的由來，下面文章是小歆上臺分享的資料。請依據小歆找到的文章回答問題。

嘉義民雄地名的由來

◎查詢方式：到圖書館找資料

◎書名：臺灣地名故事

◎內容：

在漢人未移居臺灣前，嘉義縣 民雄鄉是平埔族活動的地方，原住民族語叫「Taneaw」。後來，漢人進入後，覺得 Taneaw 念起來很像閩南語的「打貓」，便將當地平埔族的聚落稱為打貓社，從此以後，就將當地稱作為打貓。到了西元 1920 年，日本政府覺得「打貓」這個地名不文雅，於是用念起來很像打貓發音的日語發音 TAMIO，稱作「民雄」，而一直沿用到現在。

有關嘉義縣民雄鄉的敘述何者正確，請在□中打√。

- ☐①從以前到現在，民雄的地名沒有改變過。
- ☐②以前民雄叫作「打貓」。
- ☐③西元 1920 年之後，才改名為民雄的。
- ☐④民雄曾經有日本人居住過。
- ☐⑤地名可能會因不同的時代或族群而有不同的稱呼。
- ☐⑥地名可以改變的。

五、家鄉故事題組(每個選項 1 分，共 17 分)

先民為我們留下許多珍貴的故事。下列是關於家鄉故事的問題，請回答以下問題。

1.



A、上圖為苗栗縣苑裡鎮 洪鳶學習了某種技術傳授給當地婦女，也帶動當地的發展。請問此種技術為何？將正確代號填入()中。

- 甲、蘭草編織
- 乙、油紙傘製作
- 丙、陶藝製作

答：()。

B、承上題，她將編織技術傳授給當地婦女，帶來什麼影響？將正確代號填入()中。

- 甲、提高婦女社會的地位
- 乙、增加婦女的收入
- 丙、延長當地人的壽命

答：()。

C、若我們身為苑裡鎮的居民，我們要如何做，才能讓家鄉呈現豐富的人文風貌？將正確代號填入()中，複選。

- 甲、舉辦蘭草文化節活動，推廣與傳承蘭草文化。
- 乙、年輕人回到家鄉，投入當地蘭草文化、農業及建築發展。
- 丙、拆除所有舊建築物，興建成高樓大廈。
- 丁、將苑裡鎮的閒置空間，設計成蘭草文物館，結合觀光，介紹更多人認識及欣賞傳統文化之美。

答：()。

2.



A、上圖為高雄半屏山的傳說故事，下列何者敘述正確？請在□中打√。

☐①相傳，仙人將半屏山的泥土變成湯圓，化身為老人賣湯圓。

☐②這個傳說是為了提醒人們「不要貪心」。

☐③半屏山的傳說是被挖土機挖掉一半，才有半屏山之稱。

B、家鄉的傳說故事可以透過哪些管道流傳下來？將正確代號填入()中，複選。

甲、網路


乙、書籍

丙、歌曲

丁、口述

答：()。

六、家鄉新發現(每個選項1分，共6分)



1. 上圖為后豐鐵馬道，是由什麼改建成的自行車道呢？將正確代號填入()中。

甲、天橋

乙、廢棄舊山線鐵道

丙、廢棄高鐵鐵道

答：()。

2. 從后豐鐵馬道知道將閒置空間活化，改變設施原本用途，提供居民觀光與休閒的環境。

下列哪些選項，符合「將閒置空間活化」的狀況，將正確代號填入()中，複選。

甲、冬山車站是高架車站，將橋下規畫為兒童遊戲區。

乙、山腳國小將沒有使用的日式建築，改建成社區教學場地。

丙、拆除可以使用的車站，當遊戲場所。

答：()。

七、家鄉大改造(共5分)



南投縣 竹山客運站改造成商店及餐廳。上圖為一座廢棄酒廠，我們試著當小小設計師，將這閒置空間活化一下吧！請回答以下問題。

1. 請問你可以把這座廢棄酒廠變成什麼呢？(2分)

答：()。

2. 請問經由你重新規劃後，它目前具備什麼功能？至少寫出兩種功能。(3分)

答：

1. _____

2. _____

考卷寫完請多多檢查，祝大家考試順利唷！