

新北市板橋區莒光國民小學 109 學年度第一學期第二次定期考查試題												
科目	社會	命題老師	李居美	年級	五年 班	座號		姓名		成績		家長簽章

小朋友，請將《第一站》到《第三站》的答案，依序抄寫在第 4 頁的【答案表】裡。

**\*題號與答案要核對正確喔！**

《第一站》、小朋友，我們在民主法治的國家生活是何其幸福！現在，就讓我們來探討【人民的權利與義務】吧！

一、請在( )中填入代號：(每答 2 分，共 12 分)

1. 生活中我們享受了憲法所保障的哪些權利，你能加以分辨嗎？

- |       |       |
|-------|-------|
| A、平等權 | B、自由權 |
| C、受益權 | D、參政權 |

- ①艾福悟希望長大後，能當民意代表，為民服務，現在他年齡資格符合規定了，終於可以依法登記參加屏東縣縣議員的選舉。( )
- ②佳玉是基督徒，在用餐前會默默的禱告。世偉是佛教徒，盡量素食以實踐慈悲心。( )
- ③王大帥和李美眉兩人在同一家公司上班，因為職級相同，薪水也一樣多；這說明兩人收入不因性別不同，而有所差異。.....( )
- ④政府有改善人民生活品質的責任，因此，我們可以要求政府推動各項公共建設，如設置公園、改善停車問題、提升道路品質等。( )
- ⑤中華民國國民不分性別、種族和宗教信仰，只要年齡與資格符合，都可藉由投票參與政治活動。.....( )、( )

二、題組題：(每題 2 分，共 8 分)

【記者金胖虎報導】大選結果出爐，宜蘭縣 冬山鄉、桃園市 中壢區和臺北市 中山區、大同區，分別出現 25 歲的「全國最年輕議員」、26 歲的「網路人氣王議員」和 29 歲的「臺北市最年輕議員」，顯現年輕世代相當積極把握年滿 23 歲可參選民意代表的權利。

- ( ) 1. 根據報導，大選結果全國最年輕的議員是幾歲？ ①23 歲 ②25 歲 ③26 歲 ④29 歲。
- ( ) 2. 報導中「參選民意代表的權利」，是指憲法保障人民的哪種權利？ ①參政權 ②自由權 ③平等權 ④受益權。

- ( ) 3. 年滿幾歲後，人民開始有被選舉權？  
①18 歲 ②20 歲 ③23 歲 ④25 歲。
- ( ) 4. 如果有人想競選新北市市長，須年滿幾歲以上才有資格登記成為候選人？  
①23 歲 ②26 歲 ③30 歲 ④40 歲。

三、看圖填充題：(每答 2 分，共 8 分)

1. 下圖分別是國民應盡的哪一種義務？



甲. ( ) 的義務 乙. ( ) 的義務

2. 下圖可說明憲法保障人民享有哪一種自由權？



丙. ( ) 的自由 丁. ( ) 的自由

四、思考題：(每題 2 分，共 6 分)

- ( ) 1. 我國人民每到五月就要申報綜合所得稅，其他還有房屋稅、地價稅、牌照稅、贈與稅、遺產稅等，視個人的財產與行為繳納各種不同的稅金。想想看，下列哪一項不是稅金的正確用途？ ①用於公共建設的經費 ②採購武器保護國家安全 ③提供社會福利的正常運作 ④平均分配給五院首長。
- ( ) 2. 我國的教育從九年延長到十二年，產生這樣的變革，主要是因為一國國民的教育水準與什麼息息相關？ ①國家的富強 ②稅金的多寡 ③糧食的增加 ④氣候的變遷。
- ( ) 3. 西元 2020 年爆發新冠肺炎疫情，衝擊到國內許多產業，有不少勞工因此失業。政府除了原有的失業給付外，還增辦失業勞工子女就學補助，並研議保障勞工失業期間能維持基本生活的辦法。政府規畫這些政策，與人民享有哪一種基本權利有關？ ①平等權 ②自由權 ③受益權 ④參政權。

【請翻第 2 頁，繼續作答】

《第二站》、小朋友，現在讓我們一起搭乘哆啦A夢的時光機，回到無文字的史前時代去探險吧！

一、題組題：（每題 2 分，共 8 分）

加魯起床了之後，媽媽叫他來吃昨天他和爸爸打獵回來的山豬肉湯。吃飽之後，他開始把昨天的石矛再反覆磨鋒利點。

磨好石矛之後，他把昨天去小溪捕魚、撈貝類時發現的玉石，偷偷的藏到一個陶壺之中。這個陶壺是爸爸做的，上面還有繩紋的圖案，加魯常常把他的寶貝收藏到裡面去。

- ( ) 1. 從文章中我們可以知道加魯可能是什麼時期的人？ ①舊石器時代 ②新石器時代 ③金屬器時代。
- ( ) 2. 承上題，關於你所推測出的時代，下列哪一項不是判斷的因素？ ①已會打獵 ②使用磨製的石矛 ③有繩紋的陶壺。
- ( ) 3. 加魯當時所生活的聚落對於生命非常的尊重，表現在當人死亡後，會將逝者放入石棺中埋葬，並以精美的玉器陪葬。加魯可能是哪一個史前文化的成員？ ①長濱文化 ②十三行文化 ③圓山文化 ④卑南文化。
- ( ) 4. 有學者說，人類的文明開始於用火，人類在哪一個時期開始會用火呢？ ①舊石器時代 ②新石器時代 ③金屬器時代

二、是非題：關於圓山文化的敘述，正確請打 O，錯誤請打 X（每題 1 分，共 5 分）

- ( ) ①距今約七千年前。
- ( ) ②已經懂得煉鐵。
- ( ) ③出土的文物有玻璃製品、瓷器和錢幣
- ( ) ④會製作陶器來儲存東西。
- ( ) ⑤有大量出土的貝塚。

三、填代號：下列是史前時代人類活動遺址，請找出它們分別代表哪一個時代？將答案填入 ( ) 中。（每題 1 分，共 4 分）

A.舊石器時代 B.新石器時代 C.金屬器時代


- ( ) ①臺東縣 卑南遺址。
- ( ) ②新北市 八里區 十三行遺址。
- ( ) ③臺北市 圓山遺址。
- ( ) ④臺東縣 長濱鄉 八仙洞遺址。

《第三站》、旅遊計畫：快放寒假囉！小朋友，可以和家人一起規劃去臺灣的原住民族部落或博物館探險喔！

一、題組題：（每答 2 分，共 16 分）

愛丸對臺灣原住民族的文化深感好奇，於是從圖書館借回相關書籍和光碟加以研究，並且和家人一起去旅行，深入了解與親自體驗原住民族各部落的文化特色。

1. 愛丸在旅行時畫了兩張圖，請你推測，她所到之處可能是哪一族原住民的村落？



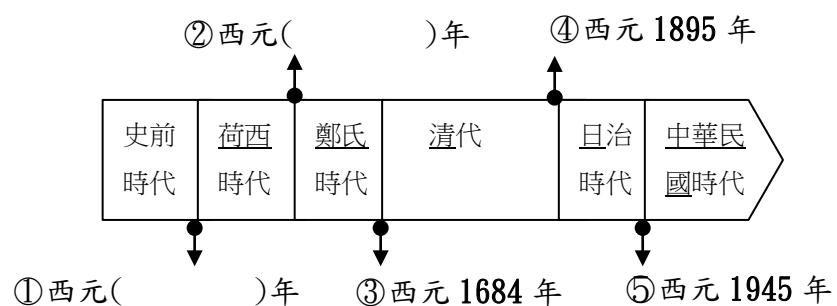
①拼板舟 ( ) 族

②百步蛇圖樣 ( ) 族或 ( ) 族

- ( ) 2. 愛丸在書籍上讀到：「中央山脈、打耳祭、八部合音」三個提示，是描述臺灣原住民族的分布地、祭典與文化特色，請問這指的是哪一原住民族？ ①賽德克族 ②鄒族 ③布農族 ④邵族。
- ( ) 3. 愛丸發現：就像漢人社會在清明節時會掃墓祭祖，表達慎終追遠的精神，臺灣的原住民族中，有許多族群也都會舉行類似的祭典活動。哪一種祭典較符合上述精神？ ①戰祭 ②祖靈祭 ③大獵祭 ④飛魚季。
- ( ) 4. 愛丸的美國朋友想到臺灣認識原住民族文化，愛丸可以向他介紹什麼內容？ ①音樂 ②舞蹈 ③服飾 ④以上皆是
- ( ) 5. 愛丸獲邀參與一場名為「矮靈祭」的祭典，在現場她還看到該族原住民穿戴臀鈴跳舞。請問，她所參與的是哪一族原住民的祭典活動？ ①賽夏族 ②卑南族 ③太魯閣族 ④泰雅族。
- ( ) 6. 阿美族朋友邀請愛丸一同參加豐年祭，在祭典開始之前，不管男女老少都鄭重的穿上阿美族的傳統服飾，在祭典活動時更是表現出最好的跳舞與歌唱。愛丸很好奇在沒有任何約束下，每一位阿美族族人都如此賣力的表現，其目的是什麼？ ①向外國觀眾展現臺灣文化 ②族人表達對神靈的崇敬 ③爭取政府對部落的補助 ④族人都想吸引電視報導一炮而紅。【請翻第 3 頁，繼續作答】

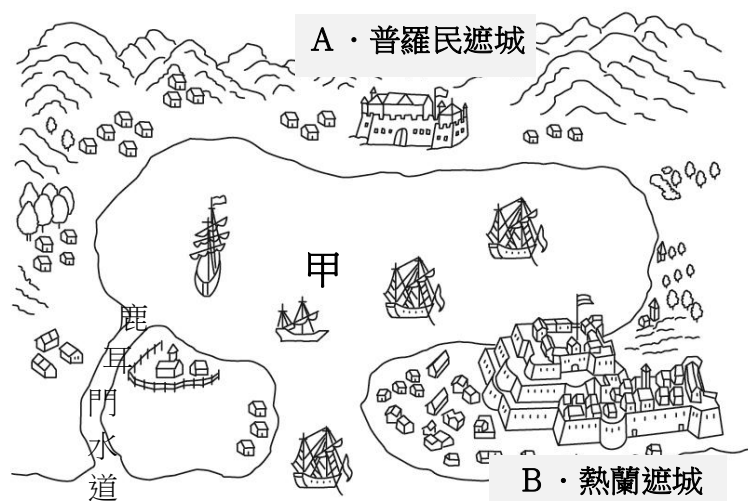
《第四站》、小朋友，在臺灣歷史上，荷蘭人曾經統治臺灣約 38 年，同時期西班牙統治北臺灣約 17 年，之後，鄭氏經營臺灣約 22 年，我們一起來回顧各時代所留下的歷史意義吧！

一、時光年表大挑戰：（每答 2 分，共 4 分）



二、看圖回答問題：（每答 1 分，共 5 分）

這是一幅十七世紀臺灣某個地方的地圖，仔細觀察圖中的建築及名稱，回想當時發生的歷史，並回答下列問題。



1. 這幅地圖繪製的地方是在臺灣東、西、南、北哪一處？答：臺灣 ( ) 部
2. 當時該地是由誰所統治，並設立了這兩座城？  
☐ ① 葡萄牙人    ☐ ② 西班牙人    ☐ ③ 荷蘭人
3. 圖中兩座城堡之間的(甲)海域 稱為什麼？  
☐ ① 臺灣海峽    ☐ ② 台江內海    ☐ ③ 南海
4. 當時的統治者將行政中心和商業中心分別設於哪一地？以 A、B 代號 作答。  
 答：(1) 行政中心位於 ( ) 地  
 (2) 商業中心位於 ( ) 地

三、思考題：（每題 2 分，共 8 分）

- ( ) 1. 五年 1 班校外教學到基隆的和平島公園遊玩，發現一處海蝕洞，洞的上方標示著「蕃字洞」三個字。原來此處雖然以海蝕地形聞名，但這個海蝕洞卻具有歷史意義，因為這是臺灣歷史上哪一種人留下的遺跡？ ① 高山族 ② 平埔族 ③ 荷蘭人 ④ 西班牙人。

- ( ) 2. 樂樂到新北市 淡水區探訪紅毛城，這是臺灣仍可見到最早是由西班牙人所建的歷史遺跡。請問：淡水的舊稱是什麼？ ① 雞籠 ② 艋舺 ③ 社寮 ④ 滬尾。
- ( ) 3. 忠勇是生活在十七世紀的臺灣人，當時他的家鄉被外國人統治，又因地理位置重要而建立了聖薩爾瓦多城，用來發展對中國大陸和日本的貿易。忠勇的家附近也多了不少宣揚天主教的教堂。依據上面文字描述，當時忠勇的家鄉是在哪一國人的統治之下呢？ ① 葡萄牙人 ② 日本人 ③ 荷蘭人 ④ 西班牙人。
- ( ) 4. 荷蘭人統治臺灣期間對臺灣最大的貢獻是什麼？ ① 使臺灣成為國際貿易的重要據點 ② 使臺灣全島都信奉基督教 ③ 提升原住民族的地位 ④ 使臺灣成為軍事基地。

《第五站》、小朋友，讓我們重回三百多年前，探尋鄭氏時代當年的足跡吧！

一、勾選題：請在 ☐ 中打 ☒：（每題 1 分，共 8 分）

1. 鄭成功從福建率軍渡海來臺的目的：  
☐ ① 取得反清復明的基地  
☐ ② 尋找原住民族的寶藏
2. 鄭成功攻取臺灣的方式：  
☐ ① 從基隆一帶登陸  
☐ ② 從臺南 安平附近登陸
3. 鄭成功統治臺灣，驅逐  
☐ ① 荷蘭人    ☐ ② 西班牙人
4. 鄭成功設立最高行政機構，作為統治中心：  
☐ ① 臺灣府    ☐ ② 承天府
5. 鄭氏父子解決軍隊糧食不足的方法：  
☐ ① 從中國大陸進口糧食  
☐ ② 積極展開土地拓墾
6. 經濟政策：  
☐ ① 運用臺灣優越的地理位置，進行貿易  
☐ ② 將蔗糖、稻米賣給原住民，並購買軍械
7. 文教措施：  
☐ ① 興建教堂，傳播基督教  
☐ ② 興建孔廟，設立學校
8. 輔佐鄭經推動經濟與文教政策的「鄭氏諸葛」：  
☐ ① 鄭克塽    ☐ ② 陳永華

【請翻第 4 頁，繼續作答】



五年( )班 ( )號姓名: \_\_\_\_\_

成績: \_\_\_\_\_

二、思考題: (每題 2 分, 共 8 分)

- ( ) 1. 關於荷蘭人和鄭氏父子經營臺灣的政策, 下列哪一項敘述錯誤? ①兩者皆曾招募漢人來臺開墾 ②兩者都曾拓展海外貿易 ③兩者皆曾輸出過蔗糖、鹿皮到國外 ④兩者皆曾制定過考試制度, 以選拔人才。
- ( ) 2. 下列哪一項不是 鄭氏時代對外貿易的地區? ①中國大陸 ②美國 ③日本 ④東南亞。
- ( ) 3. 「他曾經是一名海盜也是一名商人, 生於大陸福建, 足跡到過日本、臺灣, 他是延平郡王的父親, 同時也是漢人開墾臺灣的先驅。」以上短文中的「他」最有可能指的是下列哪一位歷史人物? ①郭懷一 ②顏思齊 ③鄭芝龍 ④施琅。
- ( ) 4. 欣喜住在臺南市的新營, 在她家鄉的附近, 還有柳營、下營、林鳳營等地名, 這代表她的家鄉及其附近, 在歷史上曾經都是什麼樣的地方? ①文士匯集之地 ②軍隊屯墾之地 ③貿易商港所在 ④政府機關所在。

【恭喜你, 完成闖關了!】

請再仔細檢查~ 題號與答案要核對正確喔!

祝大家有個充實、愉快的~美好寒假!



## 【 答 案 表 】

\*僅以【答案表】計算成績喔! 《第一站》

一、請在( )中填入代號。(每答 2 分, 共 12 分)

①	②	③
④	⑤	⑤

二、題組題: (每題 2 分, 共 8 分)

1.	2.	3.	4.
----	----	----	----

三、看圖填充題: (每答 2 分, 共 8 分)

甲. ( ) 的義務
乙. ( ) 的義務
丙. ( ) 的自由
丁. ( ) 的自由

四、思考題: (每題 2 分, 共 6 分)

1.	2.	3.
----	----	----

《第二站》 一、題組題: (每題 2 分, 共 8 分)

1.	2.	3.	4.
----	----	----	----

二、是非題: 正確打 O 錯誤打 X (每題 1 分共 5 分)

①	②	③
④	⑤	

三、填代號: (每題 1 分, 共 4 分)

①	②	③	④
---	---	---	---

《第三站》 一、題組題: (每答 2 分, 共 16 分)

1. ① ( )族		
② ( )族 或 ( )族		
2.	3.	4.
5.	6.	

## 【解 答】

### 《第一站》

一、請在( )中填入代號。(每答2分,共12分)

① D	② B	③ A
④ C	⑤ A	⑤ D

二、題組題:(每題2分,共8分)

1. 2	2. 1	3. 3	4. 3
------	------	------	------

三、看圖填充題:(每答2分,共8分)

甲. ( (接)受(國民)教育 ) 的義務
乙. ( 服兵役 ) 的義務
丙. ( 居住及遷徙、居住、遷徙 ) 的自由
丁. ( 祕密通訊 ) 的自由

四、思考題:(每題2分,共6分)

1. 4	2. 1	3. 3
------	------	------

### 《第二站》 一、題組題:(每題2分,共8分)

1. 2	2. 1	3. 4	4. 1
------	------	------	------

二、是非題:正確打 O 錯誤打 X(每題1分共5分)

① X (4500年前)	② X	③ X
④ 0	⑤ 0	

三、填代號:(每題1分,共4分)

① B	② C	③ B	④ A
-----	-----	-----	-----

### 《第三站》 一、題組題:(每答2分,共16分)

1. ① ( <u>達悟</u> 或 <u>雅美</u> )族		
② ( <u>魯凱</u> )族 或 ( <u>排灣</u> )族		
2. 3	3. 2	4. 4
5. 1	6. 2	

### 《第四站》

一、時光年表大挑戰:(每答2分,共4分)

①西元 1624 年	②西元 1662 年
------------	------------

二、看圖回答問題:(每答1分,共5分)

1. 臺灣 ( 南 ) 部

2. ☐①葡萄牙人 ☐②西班牙人 ☒③荷蘭人

3 ☐①臺灣海峽 ☒②台江內海 ☐③南海

4. 以A、B 代號 作答

(1) 行政中心位於 ( B ) 地

(2) 商業中心位於 ( A ) 地

三、思考題:(每題2分,共8分)

1. 3	2. 4	3. 4	4. 1
------	------	------	------

### 《第五站》

一、勾選題:請在□中打√:(每題1分,共8分)

1. <input checked="" type="checkbox"/> ① <input type="checkbox"/> ②	2. <input type="checkbox"/> ① <input checked="" type="checkbox"/> ②	3. <input checked="" type="checkbox"/> ① <input type="checkbox"/> ②	4. <input type="checkbox"/> ① <input checked="" type="checkbox"/> ②
5. <input type="checkbox"/> ① <input checked="" type="checkbox"/> ②	6. <input checked="" type="checkbox"/> ① <input type="checkbox"/> ②	7. <input type="checkbox"/> ① <input checked="" type="checkbox"/> ②	8. <input type="checkbox"/> ① <input checked="" type="checkbox"/> ②

二、思考題:(每題2分,共8分)

1. 4	2. 2	3. 3	4. 2
------	------	------	------