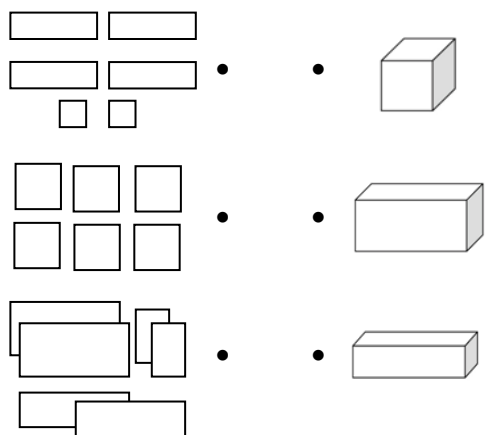


新北市板橋區莒光國民小學 109 學年度第一學期第二次定期評量試題											
科目	數學	命題老師	領域老師	年級	年 班	座號		姓名		成績	家長簽章

一、連連看：12 分(每答 2 分)

1. 圖中紙片分別可以組成什麼形體？



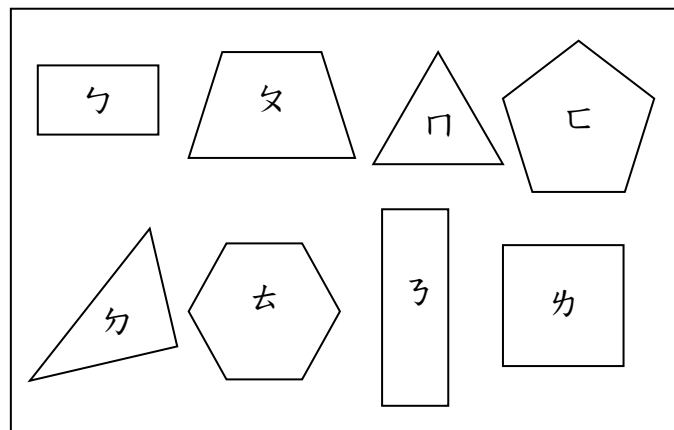
2. 把正確的答案連起來

每隊有 4 個小朋友，5 隊有幾個小朋友？	•	•	$5+5+5+5=20$ 算式中的 5 表示每包有 5 片餅乾。
每包有 5 片餅乾，4 包共有幾片餅乾？	•	•	$4 \times 5 = 20$ 算式中的 4 表示每隊有 4 個小朋友。
有 5 排座位，每排可以坐 4 個人，一共可以坐幾個人？	•	•	$4 \times 5 = 20$ 算式中的 4 表示每排可以坐 4 個人。

二、填填看：28 分(每答 2 分)

- $2+2+2+2=(\quad) \times (\quad) = (\quad)$ 。
- 7×6 比 7×9 少 (\quad) 個 7，是少 (\quad) 。
- 9 的 8 倍是 $(\quad) \times (\quad) = (\quad)$ 。
- 長方體有 (\quad) 個面、 (\quad) 個頂點、 (\quad) 條邊。
- 一瓶果汁用紙杯裝可以裝滿 8 杯；改用玻璃杯可以裝滿 6 杯，哪一個杯子比較小？
()
- 用相同的杯子，一瓶鮮奶可以裝滿 11 杯；一瓶豆漿可以裝滿 9 杯，鮮奶和豆漿，哪一瓶裝的比較多？
()
- 這個圖形有 (\quad) 個角。

三、看圖回答问题：6 分(每題 2 分)



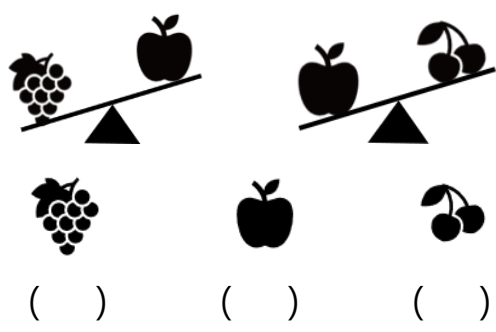
- 哪一個是正三角形？
()
- 哪一個是正方形？
()
- 長方形的四條邊，下列何者正確？請在 ☐ 打 \checkmark
☐ 4 條邊都一樣長。
☐ 4 條邊都不一样長。
☐ 上下兩條邊一樣長，左右兩條邊一樣長。

四、勾勾看，對的打 \checkmark ：18 分(每答 2 分)

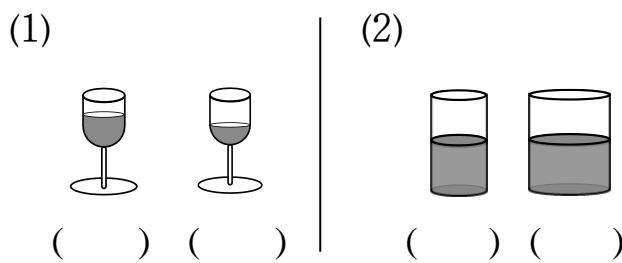
- 哪一個容器能裝的水最多？
(1)
() () ()
(2)
() () ()
- 哪一個容器能裝的水最少？
(1)
() () ()
(2)
() () ()
- 最重的打 \checkmark

() () ()

4. 最輕的打√







5. 哪一個杯子裝的水比較少?



6. 誰出的問題是 8×7 呢?
在□裡打√。

- ☐ 弟弟要買 7 枝棒棒糖，每枝棒棒糖賣 8 元，一共要付多少元?
- ☐ 姐姐買了 8 組貼紙，一組貼紙有 7 張，姐姐一共買了幾張貼紙?

五、看圖算算看：12 分(每題 4 分)

 鉛筆	 尺	 直笛	 剪刀
15 元	16 元	90 元	? 元

1. 哥哥買了一枝鉛筆、一把尺和一把直笛，共付多少元?

先算

再算

答：

2. 姐姐有 96 元，買了一枝鉛筆和一把尺後，還剩多少元?

先算

再算

答：

3. 一把剪刀比一把尺貴 39 元，各買一把共要多少元?

先算

再算

答：

六、應用題：24 分(每題 4 分)

(把做法和答案記下來)

1. 莒光國小巡迴書箱有 24 本神奇樹屋，繪本館有 38 本，秀地館有 72 本，請問莒光國小一共有多少本神奇樹屋?

答：

2. 小真真有 29 張品德教育摸彩券，佳佳比小真多 21 張，小芬比佳佳少 19 張，小芬有幾張摸彩券?

答：

3. 健康中心發給二年級每班 3 瓶含氟漱口水，7 個班共有幾瓶漱口水?

答：

4. 莒光國小每間教室有 8 台風扇，9 間教室共有幾台風扇?

答：

5. 營養午餐每人發 6 顆綠葡萄，8 個人共有多少顆綠葡萄?

答：

6. 小寶帶著健保卡，到藥局買兒童口罩，小寶買了 10 片，1 片 4 元，共要多少元?

答：