

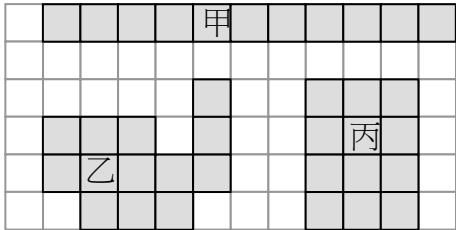
新北市板橋區莒光國民小學 110 學年度第一學期第二次定期評量試題												
科目	數學	命題老師	數學領域教師	年級	二年	班	座號		姓名		成績	家長簽章

一、選擇題(12%)

- () 小光原有 23 張摸彩券，上午得到 7 張，下午又得到 4 張，小光現在共有多少張摸彩券？
 ① 30 張 ② 11 張 ③ 34 張
- () 爸爸的衣-服比媽媽的衣-服大，小字的衣-服比媽媽的小，誰的衣-服最小？
 ① 小字 ② 媽媽 ③ 爸爸
- () $6 \times 9 = 54$ 算式中，哪一個數字是積？ ① 6 ② 9 ③ 54
- () 8×7 的意思是代表 ① 8 加 7 ② 8 的 7 倍 ③ 7 的 8 倍。
- () 媽媽看電影從下午 3 時看到下午 5 時，媽媽看電影花了幾小時？
 ① 1 小時 ② 2 小時 ③ 3 小時
- () 小莒上午 8 點多出門，鐘面上 的時針是在哪兩個數字之間？
 ① 1 和 12 ② 8 和 9 ③ 7 和 8

二、填填看(26%)

- 數一數，比一比。



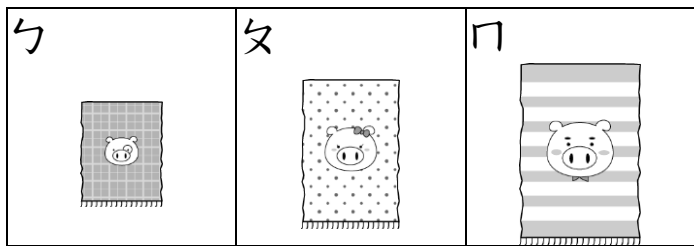
- 將上面圖形的面由小到大依序填入代號：
 () < () < ()
- 乙圖和 () 個格子一樣大。
- 丙圖比甲圖多 () 個格子。

- 時針走 1 大格是 60 分鐘，也可以說 是 () 小時。
- 現在是下午 4 時，2 小時前是下午 () 時。
- 媽媽從下午 5 時開始煮晚餐，煮好晚餐時，分針正好走了 7 大格。
 (1) 媽媽花了 () 分鐘煮晚餐。
 (2) 媽媽煮好晚餐的時間是下午 () 時 () 分。
- 9 的 2 倍比 9 的 9 倍少 ()。
- 2×7 比 2×4 多 () 個 2，是多 ()。

三、連連看(6%)

- 奇奇的毛巾比美美的短，美美的毛巾比多多的小，請幫他們找到自己的毛巾。





① 多多	② 美美	③ 奇奇
------	------	------



四、正確的打√。(8%)

- 哪些是表示 $6 + 6 + 6 + 6$?
 () (1) 4×6 () (2) 6 有 4 個
 () (3) 6×4 () (4) 4 有 6 個
- 哪些是表示 5 的 3 倍？
 () (1) $5 + 3$ () (2) $5 + 5 + 5$
 () (3) 5×3 () (4) $3 + 3 + 3 + 3 + 3$

五、寫出鐘面上表示的時刻。(8%)

1.  ()時()分	2.  ()時()分
3.  ()時()分	4.  ()時()分

六、寫出乘法算式和答案。(20%)

1. 哥哥有 6 袋糖果，每一袋有 7 顆，哥哥共有幾顆糖果？

答：()顆

2. 妹妹做一串手鍊要 2 小時，從上午 8 時開始連續做 4 串，共要幾小時？

答：()小時

3. 一串花枝有 3 顆，媽媽買了 5 串，一共幾顆花枝？

答：()顆

4. 老師將鉛筆分給 8 個人，分完後每個人都拿到 6 枝鉛筆，老師本來有幾枝鉛筆？

答：()枝

5. 1 組氣球有 4 顆，小茗今天賣掉 7 組，他今天共賣掉幾顆氣球？

答：()顆

七、先算什麼？再算什麼？做一看。(20%)

1. 箱子裡有 34 顆球，其中有 16 顆紅球，藍球有 9 顆，剩下的都是黃球，黃球有幾顆？

先算：_____

再算：_____

答：()顆

2. 小光有 47 元，姐姐有 27 元，兩人合買一包 56 元的色紙，後，還剩下多少元？

先算：_____

再算：_____

答：()元

3. 農場有 23 隻綿羊，綿羊比山羊多 18 隻，農場中的綿羊和山羊共幾隻？

先算：_____

再算：_____

答：()隻

4. 一個水壺可以倒滿 20 個杯子，3 個相同的水壺可以倒滿多少個杯子？

先算：_____

再算：_____

答：()個

★寫完考卷記得要檢查呵！