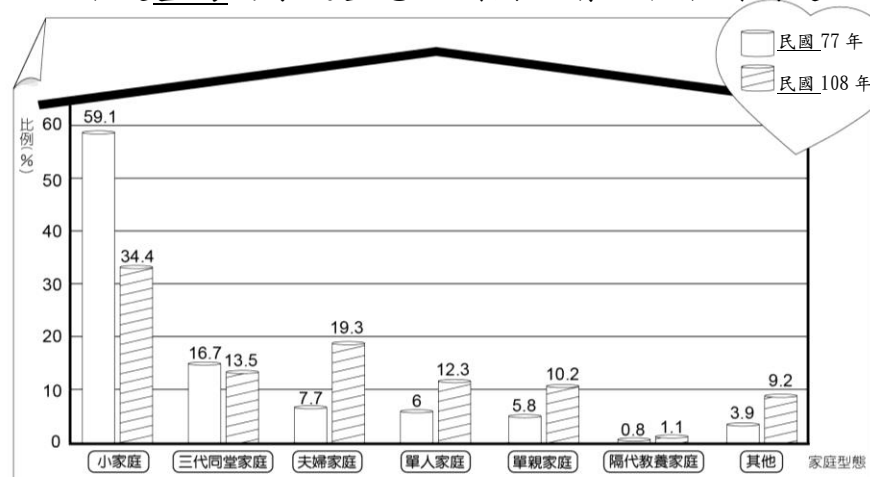


新北市板橋區莒光國民小學110學年度第一學期第二次定期考查試題												
科目	社會	命題老師	社會領域教師	年級	六年 班	座號		姓名		成績		家長簽章

小朋友，題目共4頁，請將第1、2頁的答案抄寫在第3頁的【答案表】裡；  
第3、4頁則請直接作答。

### 一、看圖回答問題:6分(每題2分)

以下是臺灣的家庭型態比例圖，請回答下列問題。



- 從上圖可以知道，目前臺灣最主要的家庭型態是( )家庭。
- 上圖中，( )家庭型態 占的比例最少。
- 從圖中可以發現，單親家庭的家庭型態比以前增加，可能是哪些原因？  
①夫妻均投入職場，將子女交由祖父母教養  
②生育率下降  
③結婚率提高  
④離婚率提高

### 二、選擇題:36分(每題2分)

- 孫阿姨最近遇到煩惱，因為懷孕的關係，公司的老闆解雇她，請她下個月就不要來上班了，你建議孫阿姨如何做，才能爭取權益？  
①馬上寫履歷，到網路上找其他工作  
②打電話到1950申訴，並召開記者會  
③要求老闆須遵守性別工作平等法的規範  
④依據身心障礙者權益保障法請求賠償
- 佩奇是國小六年級的學生，下列哪一項休閒活動即使沒有家人或老師陪伴，他仍然可以獨力完成？  
①閱讀書籍  
②挑戰攀岩  
③攀登百岳  
④海邊游泳戲水
- 丁丁想要準備一些道地的臺灣小吃招待從加拿大來的朋友，下列哪一組菜單比較適合丁丁的需求？  
①義大利肉醬麵、玉米濃湯  
②肉圓、炒米粉  
③拉麵、味噌湯  
④牛排、奶油餐包
- 拉拉的叔叔最近加入一個宗教，他們會舉辦禮拜(彌撒)作為慶祝活動。請問：他可能是信仰下列哪一種宗教？  
①伊斯蘭教  
②天主教  
③佛教  
④民間信仰

- 新北市 中和區有一條華新街，在這裡可以吃到道地的緬甸料理，也可以買到越南咖啡與泰國食材。華新街如今成為南洋觀光美食街的原因，除了早年來自緬甸的華僑聚居外，還與什麼原因有關？  
①戰後中國大陸各省移民傳來的飲食文化  
②早期荷 西時代文化交流的影響  
③近年國際移工與新住民人數增加  
④近年原住民族意識抬頭的影響

- 年底將近，有網友表示老闆告訴他：「你沒有當初進公司那種拚勁，你就做到這個月底為止，會給你資遣費。」其他網友透露：「可資遣的理由，法律條文寫得很清楚，『沒當初進公司那種拚勁』是無法作為資遣解僱的理由，看你要不要提出申訴。」請問這段文字中提到的是哪一種法律？  
①兒童及少年福利與權益保障法  
②性別工作平等法  
③姓名條例  
④勞動基準法

- 小波想到電影院看電影，於是上網查詢電影院的時刻表如下：

時間	電影名稱
11:00	(數位 英語) (普遍級) 駭客任務：復活
13:30	(數位 英語) (普遍級) 金牌特務：金士曼起源
16:00	(數位 英語) (普遍級) 亞馬遜守護者：安珀傳奇
17:30	(數位 國語) (普遍級) 諸葛四郎-英雄的英雄

從時刻表，可以反映出什麼狀況？

- 日本製作的電影深受民眾喜愛  
②暑假會有許多電影上映  
③臺灣很少民眾看電影  
④以美國為主的電影等西方流行文化在臺灣大量傳播
- 下列哪一項不是身心障礙者權益保障法設立的目的是？  
①給予身心障礙人士更多的協助  
②協助身心障礙人士恢復健康的身體  
③保障身心障礙人士的工作權  
④保障身心障礙人士的教育權
- 下列哪一項是屬於伊斯蘭教教徒所舉辦的宗教活動？  
①佛誕節  
②舉辦繞境活動  
③主日禮拜聚會  
④開齋節慶活動
- 下列哪一本著作是著名的鄉土文學作品，內容貼近早期的臺灣生活？  
①兒子的大玩偶  
②黑色的翅膀  
③祖國與同胞  
④藍與黑

- ( ) 11. 關於臺灣社會的變遷，下列哪一項敘述錯誤？  
 ① 臺灣民眾愈來愈重視休閒活動  
 ② 社會上家庭的型態變得更多元  
 ③ 面對社會變遷，政府不須有因應政策或措施  
 ④ 政府制定了法律保障每一個人的人權
- ( ) 12. 下列哪一項不是讓臺灣的文化傳承下去的方法？  
 ① 客家義民節的神豬比賽，基於愛護動物的觀念，應該廢除節慶  
 ② 原住民族舞者教導原住民族孩子傳統舞蹈  
 ③ 達悟族長輩教授學童傳統文化  
 ④ 布袋戲師父教導孩子操作布袋戲
- ( ) 13. 當傳統文化和外來文化交流時可能受到影響，因而吸收外來文化的元素加以改變，產生文化創新。下列哪一項不是文化創新的例子？  
 ① 中西合併的喜餅禮盒  
 ② 加入聲光特效及特技演出的歌仔戲  
 ③ 大學師生設計的魯凱族狩獵遊戲桌遊  
 ④ 原住民族舉辦的祭典活動
- ( ) 14. 阮氏秋是剛嫁到臺灣的越南媳婦，「新住民」的身分代表她在臺灣的生活中將可能遇到一些問題。請問，這些問題不包括下列何者？  
 ① 不會講臺灣話  
 ② 社會適應不良  
 ③ 無法帶來家鄉的風俗與傳統料理  
 ④ 飲食口味差異大
- ( ) 15. 從臺灣人口分布圖及都市分布圖中，我們可以看出下列哪一種特徵？  
 ① 臺灣人口分布相當平均  
 ② 離島的人口多，都市規模大  
 ③ 本島西部地區的圓點數量分布稀疏，都市規模小  
 ④ 臺灣的北部、中部和南部各有一至三個大都市
- ( ) 16. 對照臺灣人口分布圖和地形圖，位於什麼顏色的地區 人口數較多？  
 ① 藍色  
 ② 黃色  
 ③ 棕色  
 ④ 綠色
- ( ) 17. 假設甲、乙、丙三地的土地面積都一樣大，但甲地的人口數有五千人、乙地有一萬人、丙地有五萬人，這三地之中哪一個地區的人口密度最大？  
 ① 甲地  
 ② 乙地  
 ③ 丙地  
 ④ 資料不足無法計算
- ( ) 18. 下列哪一種方式，不能改善臺灣人口向都市集中後所帶來的問題？  
 ① 落實城鄉均衡發展計畫  
 ② 加強都市建設  
 ③ 推行有效的人口政策  
 ④ 政府提供「吉時從農」的輔導專案

三、題組題：21 分(勾選題每答 1 分，其餘 2 分)



### 【生不如死！全臺生育率直線下降 死亡超車】

內政部公布 109 年人口統計，死亡人數超過出生人數，臺灣人口首度負成長。110 年 1-10 月累計出生數為 12.5 萬人。學者擔憂，新冠疫情延續將連帶影響生育，111 年又逢虎年，出生人數可能直接跌破 16 萬。

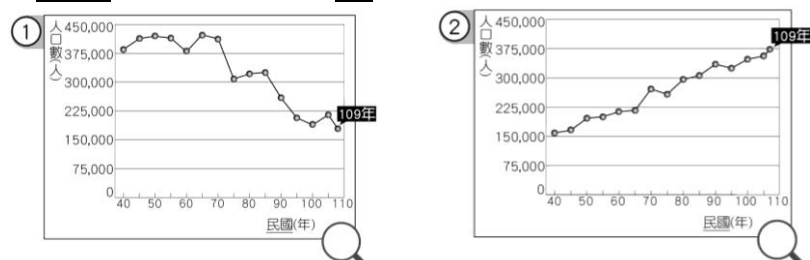
儘管政府推出各類托育補助政策，越來越多的家庭還是不想生或只願意生一胎。民眾認為：「現在物價跟房價都一直上漲，可是我們的薪水也沒有跟著升高，所以對上班族來講，生小孩是一個很大的負擔。」、「政府的補助畢竟只是短暫的，也不是長期的，小孩幾十年的養育費用，其實很高。」

扣除遷入、遷出等因素，臺灣去年人口總數為 2356 萬餘人，比 108 年減少 4 萬多人，學者推估 2050 年臺灣人口恐跌破 2000 萬，將提早於 2025 年(民國 114 年)進入超高齡社會。

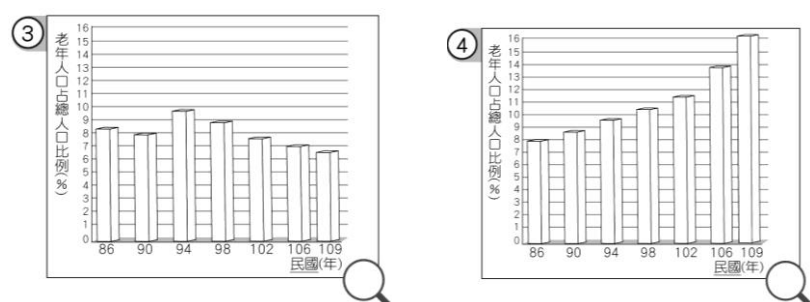
學者認為，當銀髮族成為人口結構主流，未來臺灣恐面臨工作人口逐年減少、也意味著將同時失去生產力與消費力，屆時，經濟成長只會更加艱辛。畢竟，生育率大跌已成國安危機，如何提高生產意願，成為一大難題。

節錄改寫自 台視新聞網 2021 年 10 月 10 日台北／綜合報導 責任編輯／張碧珊 公視新聞網 吳雅瑜 陳立峰／台北報導 發布時間：2021-01-08

### 1. 臺灣出生人口數統計圖，符合目前現象的請打✓。



### 2. 臺灣老年人口比例圖，符合目前現象的請打✓。



### 3. 有關臺灣人口政策變遷的敘述，正確的請打✓。

- ☐ ① 民國四十～五十年的臺灣面臨人口成長太快的問題。
- ☐ ② 民國六十年政府提出「3321」的人口政策。
- ☐ ③ 民國七十九年政府提倡「適齡結婚，適量生育」的節育政策。
- ☐ ④ 近年來，政府宣導「兩個孩子很幸福，三個孩子更熱鬧」鼓勵生育的政策。
- ☐ ⑤ 臺灣109 年出生嬰兒人數降到約十多萬人。

- ( ) 4. 根據世界衛生組織 WHO 的定義，當社會中 65 歲以上的人口佔總人數比例達多少時，會邁入「超高齡社會」？

① 7% ② 14% ③ 20% ④ 21%



新北市板橋區莒光國民小學110學年度第一學期第二次定期考查試題												
科目	社會	命題老師	社會領域教師	年級	六年 班	座號		姓名		成績		家長簽章

5. 上述圖表的人口變化趨勢，可能對臺灣社會造成哪些影響？請打✓。

- ☒ ①醫療科技進步與國民平均壽命延長，是老年人口增加的原因之一。
- ☐ ②臺灣已經邁入超高齡社會。
- ☒ ③政府應積極推動老人醫療保健、老人安養、老人年金等福利政策。
- ☒ ④未來年輕人扶養老人的負擔將愈來愈重。

( 2 ) 6. 「為了增加我國生育率，降低少子化現象所帶來的影響，政府制定相關法令及福利措施，希望能改善低生育率的問題…」下列哪一項措施較不適合？ ①設立托育機構 ②立法規定新婚夫妻須生三個孩子 ③提供疫苗接種費用的補助 ④發放生育津貼

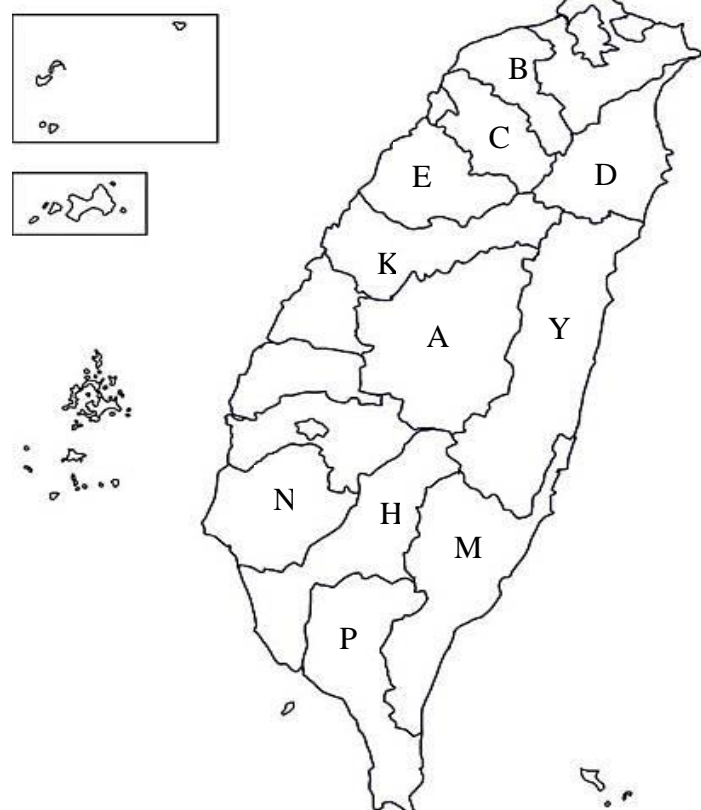
( 2 ) 7. 如果臺灣人口的狀況一直維持著「死亡率超過出生率」，可能會發生何種情況？

- ①造成老年人口、青壯年人口快速下降
- ②影響國家未來發展及對外競爭力降低
- ③造成男女比例不均、性別失衡的狀況
- ④使出生的嬰兒人數減少，老人加速死亡

( 1 ) 8. 臺灣人口遷移的結果，會給鄉村和都市帶來一些問題。下列哪一項不屬於都市問題？

- ①人口老化嚴重 ②噪音和空氣汙染
- ③居住空間狹窄 ④房價、地價偏高

四、下圖是臺灣行政區地圖，請依據題目回答縣市名稱，再利用代號標示出位於地圖上的哪一個位置。 10分(每答1分)：



①文化古都是( 臺南 )市，位於地圖中的( N )地。

②有「石頭王國」之稱的是( 花蓮 )縣，位於地圖中的( Y )地。

③臺灣規模最大的國際機場位於( 桃園 )市，位於地圖中的( B )地。

④( 南投 )縣有著名的觀光景點日月潭及原住民族文化，位於地圖中的( A )地。

⑤( 台中 )市是工具機械廠商匯集地，也盛產蜜蘋果、雪梨等溫帶水果，位於地圖中的( K )地。

### 【答案表】

\*小朋友，請將第1、2頁的答案抄寫在這裡，僅以【答案表】計算成績喔！

一、看圖回答問題:6分(每題2分)

1. ( <u>小</u> )家庭
2. ( <u>隔代教養</u> )家庭
3. ( <u>4</u> )

二、選擇題: 36分(每題2分)

1. <u>3</u>	2. <u>1</u>	3. <u>2</u>	4. <u>2</u>	5. <u>3</u>
6. <u>4</u>	7. <u>4</u>	8. <u>2</u>	9. <u>4</u>	10. <u>1</u>
11. <u>3</u>	12. <u>1</u>	13. <u>4</u>	14. <u>3</u>	15. <u>4</u>
16. <u>4</u>	17. <u>3</u>	18. <u>2</u>		

三、題組題: 21分(勾選題每答1分，其餘2分)

1. ① <input checked="" type="checkbox"/> ② <input type="checkbox"/>	2. ③ <input type="checkbox"/> ④ <input checked="" type="checkbox"/>
3. ① <input checked="" type="checkbox"/> ② <input checked="" type="checkbox"/> ③ <input type="checkbox"/> ④ <input checked="" type="checkbox"/> ⑤ <input checked="" type="checkbox"/>	
4. ( <u>3</u> )	

【請繼續作答 第4頁】

## 五、請閱讀短文，回答問題:14分(每題2分)

1. 請根據小蝸的敘述來回答問題。

我的家鄉最有名的是醬油，市面上很多有名的品牌都是從這裡出來的。家裡附近的農田種了很多的蔬菜及花卉，聽說全臺灣大部分的蔬菜及花卉都是這裡出去的呵！

(1)(a)小蝸家鄉的物產得以快速運送至全國，主要是因為下列哪一個原因？ ①便利的交通 ②溫暖的人情味 ③高貴的價格 ④進步的農業技術

(2)(b)下列何者不是 臺灣中部區域的縣市？  
①苗栗縣 ②新竹縣  
③南投縣 ④雲林縣

(1)2. 從下列新聞報導中，可得到什麼推論？  
①臺灣與日本有貿易上的往來 ②臺灣與日本交流不易 ③臺灣的國際交通較不發達 ④日本的農產品產量比臺灣多

由臺南市所生產的芒果因香氣足、外觀色澤佳，銷售到日本後受到消費者喜愛，臺灣農產品成功的躍升上國際舞臺。

(4)3. 下列這首詩所描述的家鄉，位於哪一個區域？ ①北部區域 ②中部區域  
③南部區域 ④東部區域

太魯閣的峽谷，鬼斧神工；  
太麻里的金針，豔黃亮眼。  
歡迎來我的家鄉，體驗山水之美；  
歡迎來我的家鄉，品嚐池上米與香甜的釋迦

(2)4. 根據下文判斷，表姊去哪一個地方旅遊？  
①綠島鄉 ②金門縣 ③蘭嶼鄉  
④澎湖縣



鎮風止煞風獅爺  
祈祥求福保平安

喬治收到表姊寄來的明信片，上面寫著：「喬治，這裡有特別的閩南式建築、洋樓還有濃濃的戰地風情，希望有機會你也能來看看。」

5. 請閱讀迪西的日記，回答下列問題。

我家住在高雄市 左營區，有令人著迷的西子灣美景，也有人潮絡繹不絕的夜市。假日時，我們可以騎腳踏車在公園玩，也可以搭乘捷運到不同的地方遊覽。有時候，爸媽會開車載我們到鄰近的縣市遊玩，有了高速公路，也縮短開車的時間。

有了便捷的交通，距離再也不成問題，餐桌上有來自蘇澳的海鮮、來自萬巒的豬腳以及來自臺中的太陽餅，住在便利的臺灣真好！

(3)(a)文章中提到「餐桌上有來自蘇澳的海鮮、來自萬巒的豬腳以及來自臺中的太陽餅」，根據文章的脈絡，這段話最可能代表什麼意涵？ ①成功推銷地方名產，促進經濟繁榮 ②鄉村的交通不比都市的交通便利，城鄉差距很大 ③便利的交通讓城鄉的關係更為熱絡 ④各地美食都要嚐嚐看，營養均衡很重要

(3)(b)住在臺北的堂哥想要去找迪西玩，搭乘哪一項交通工具所花費的時間最短？  
①搭乘大眾捷運系統 ②搭乘臺鐵-普悠瑪號 ③搭乘高鐵 ④堂哥開車行駛高速公路

## 六、思考題:10分(每題2分)

麻吉旅行社 推出國內旅遊專案，內容如下：

專案	旅遊內容
方案一	【總裁假期】2022 跨年倒數·後山夜未眠神仙的足跡~ <u>三仙台</u> 迎曙光·
方案二	《青春歡樂行 就醬玩》 <u>溪湖</u> 糖廠冰淇淋鹿港老街、 <u>林班道</u> 體驗工廠、 <u>劍湖山</u> 世界
方案三	【春節小琉球】美人洞·花瓶石·烏鬼洞·潮間帶覓海星·玻璃船半潛艇·夜遊觀星
方案四	《小資省荷包》 <u>富貴角</u> 燈塔、 <u>鼻頭角</u> 步道、 <u>海門天險</u> ( <u>二沙灣</u> 砲臺)、 <u>九份</u> 老街

(4)(a)方案一的縣市是下列何者？ ①花蓮縣 ②宜蘭縣 ③臺中市 ④臺東縣

(4)(b)方案二的縣市不是下列何者？ ①彰化縣 ②南投縣 ③雲林縣 ④苗栗縣

(2)(c)方案三的縣市是下列何者？ ①臺南市 ②屏東縣 ③澎湖縣 ④嘉義縣

(1)(d)方案四的縣市是位於臺灣的哪一個區域？ ①北部 ②中部 ③南部 ④東部

(1)(e)旅行社推出離島旅遊專案，下列哪一項配對正確？ ①澎湖—雙心石滬 ②綠島—太武山 ③馬祖—朝日溫泉 ④金門—芹壁村

## 七、問答題:3分

耶！快放寒假囉！小朋友，畢業旅行的體驗學習之旅是否很難忘呢？現在換你設計一日遊或兩日遊的《家人旅遊計畫》給爸、媽參考。行程安排請不要與考卷提到的景點相同。聰明的你，可以再想想別的景點喔！

答:(1)我想去\_\_\_\_\_ (縣、市)旅遊。(1分)

(2)我的行程計畫是:(2分)